



Estado de Alagoas  
**MUNICÍPIO DE POÇO DAS TRINCHEIRAS**

**CONCURSO PÚBLICO MUNICIPAL 2013**

PROVA TIPO

**4**

**2013**

**POÇO DAS  
TRINCHEIRAS**

Cargo (Nível Fundamental Incompleto):

**35. AUXILIAR DE SERVIÇOS GERAIS,  
36. BOMBEIRO HIDRÁULICO (ENCANADOR),  
37. COVEIRO, 38. GARI, 40. MERENDEIRA e 45. VIGIA**

Provas de Português, Matemática e  
História e Geografia de Poço das Trincheiras

**CADERNO DE QUESTÕES**

**INSTRUÇÕES GERAIS**

1. Este **Caderno de Questões** somente deverá ser aberto quando for autorizado pelo Fiscal.
2. **Assine** neste **Caderno de Questões** e **coloque** o número do seu documento de identificação (RG, CNH, CTPS etc.).
3. **Antes de iniciar** a prova, **confira** se o **tipo** da prova do **Caderno de Questões** é o mesmo da **etiqueta da banca** e da **Folha de Respostas** de questões objetivas.
4. Ao ser autorizado o início da prova, verifique se a numeração das questões e a paginação estão corretas. Verifique também se contém **40 (quarenta)** questões objetivas com 5 (cinco) alternativas cada. Caso contrário, comunique imediatamente ao Fiscal.
5. Você dispõe de **02h30 (duas horas e trinta minutos)** para fazer esta prova. Faça-a com tranquilidade, mas **controle seu tempo**. Esse **tempo** inclui a marcação na **Folha de Respostas** de questões objetivas. Você somente poderá sair em definitivo do Local de Prova depois de decorridas **02h (duas horas)** do seu início.
6. Na **Folha de Respostas** de questões objetivas, confira seu **nome**, número do seu **documento de identificação**, **cargo escolhido** e **tipo de prova**.
7. Em hipótese alguma lhe será concedida outra **Folha de Respostas** de questões objetivas.
8. Preencha a **Folha de Respostas** de questões objetivas utilizando caneta esferográfica de tinta azul ou preta. Na **Folha de Respostas** de questões objetivas, preencha completamente o círculo correspondente à alternativa escolhida, conforme modelo: 1 

A	B	C	D	E
<input type="radio"/>	<input type="radio"/>	<input type="radio"/>	<input checked="" type="radio"/>	<input type="radio"/>
9. Será atribuído o valor ZERO à questão que contenha na **Folha de Respostas** de questões objetivas: dupla marcação, marcação rasurada ou emendada, não preenchida totalmente ou que não tenha sido transcrita.
10. A correção da prova objetiva será efetuada de forma eletrônica, considerando-se apenas o conteúdo da **Folha de Respostas** de questões objetivas.
11. Caso a Comissão julgue uma questão como sendo nula, os pontos serão atribuídos a todos os candidatos.
12. Não será permitida qualquer espécie de consulta.
13. Ao terminar a prova, **devolva** ao **Fiscal** de Sala este **Caderno de Questões**, juntamente com a **Folha de Respostas** de questões objetivas e **assine a Lista de Presença**.
14. Nas salas que apresentarem apenas 1 (um) fiscal de sala, os 3 (três) últimos candidatos somente poderão ausentar-se do recinto juntos, após a **assinatura da Ata de Encerramento** de provas.

*Boa Prova!*

Nº. do doc. de identificação (RG, CNH etc.):

Assinatura do(a) candidato(a):



## PORTUGUÊS

As questões 1 a 4 referem-se ao texto abaixo.

CIDADES/METRÓPOLE

TUTTY – HUMOR

### Manual de sobrevivência

Melhor sair de casa disfarçado para não dar na pinta que está indo ao caixa eletrônico. Com sua pior roupinha, você talvez tenha menos chance de ser confundido com alguém que está indo sacar um bom dinheiro no banco. Escolha um local movimentado para a operação, de preferência dentro de um shopping ou supermercado. Observe atentamente se não há câmaras te flagrando por cima dos ombros e nunca, mas nunca mesmo, insira seu cartão sem se certificar que a frente do painel do terminal não foi sobreposta à máquina para camuflar algum aparato de clonagem.

Não fale com estranhos nem pelo fone de comunicação do banco, procure esconder o teclado com uma das mãos enquanto digita suas senhas com a outra, não confira o dinheiro liberado para não chamar atenção para a quantia sacada, seja breve. As chances de sequestro relâmpago serão menores se o correntista bater em retirada correndo o mais que puder. Vá direto para casa e dê graças a Deus por não precisar enfrentar a fila de banco.

VASQUES, Tutty. *O Estado de São Paulo*,  
São Paulo, 1 de abr. de 2009.

1. Considerando que o texto foi publicado em um caderno de jornal ("Cidades/Metrópole") e o título da coluna ("Tutty – Humor"), assinale a opção que apresenta a intenção do autor ao produzir esse texto.

- A) Refletir sobre questões que comumente acontecem nas cidades interioranas.
- B) Aprimorar as atitudes das pessoas desinformadas.
- C) Ajudar a todas as pessoas das grandes metrópoles a sobreviverem.
- D) Tratar com bom humor problemas ou questões relativas às cidades grandes.
- E) Explicar como a comunidade deve agir para não ser assaltada ao sacar qualquer quantia de dinheiro no caixa eletrônico.

2. O título do texto é "Manual de sobrevivência". Assinale a opção que aponta a que tipo de "sobrevivência" o autor faz referência.

- A) Aquela de quem anda falando com estranhos pelo celular.
- B) Aquela comum a todas as pessoas que moram nos grandes centros e cidades interioranas.
- C) A sobrevivência de quem não sabe sacar dinheiro no caixa eletrônico.
- D) A sobrevivência de quem jamais sai de casa disfarçado.
- E) A sobrevivência de quem tem de sacar dinheiro no caixa eletrônico.

3. Assinale a opção em que todas as palavras, que foram retiradas do texto, pertencem a mesma classe gramatical.

- A) Comunicação, teclado, liberado (2º parágrafo).
- B) Enquanto, para, breve (2º parágrafo).
- C) Disfarçado, pior, movimentado (1º parágrafo).
- D) Local, operação, atentamente (1º parágrafo).
- E) Insira, certificar, aparato (1º parágrafo).

4. Dadas as afirmações seguintes, acerca da acentuação das palavras retiradas do texto,

- I. Os vocábulos "já", "está", "alguém" e "vá" foram acentuados graficamente pela mesma razão, ou seja, obedecem a mesma regra de acentuação gráfica.
- II. A palavra "eletrônico" é um exemplo de casos especiais de acentuação, podendo também ser grafada sem acento.
- III. A palavra "preferência" leva acento circunflexo por ser paroxítona terminada por ditongo oral átono.

verifica-se que

- A) apenas a afirmação III está correta.
- B) apenas as afirmações I e III estão corretas.
- C) I, II, III estão corretas.
- D) apenas a afirmação I está correta.
- E) apenas a afirmação II está correta.

As questões 5 e 6 referem-se ao texto seguinte.

### Alcoolismo

O alcoolismo é o conjunto de problemas relacionados ao consumo excessivo e prolongado do álcool. É entendido como o vício de ingestão moderada/intensa e regular de bebidas alcoólicas, e todas as consequências disto decorrentes. O alcoolismo é, portanto, um conjunto de diagnósticos. Compreende a dependência, a abstinência, o abuso (uso excessivo, porém não continuado), a intoxicação por álcool (embriaguez) e as síndromes: amnésica (perdas restritas de memória), demencial, alucinatória, delirante e de humor, e os distúrbios de ansiedade, sexuais, do sono, dentre outros.

(Taquette, Stella et alii. Mulher adolescente/jovem em situação de violência. Brasília: Secretaria Especial de Políticas para as Mulheres, 2007. RESUMOS – fragmento).

5. O texto acima mostra conceitos e consequências do alcoolismo. Das afirmações abaixo, apenas uma não condiz com as definições e classificações apresentadas. Assinale-a.

- A) Demencial e alucinatória são tipos de síndromes causadas pelo alcoolismo.
- B) Conjuntos de problemas e de diagnósticos caracterizam o alcoolismo.
- C) Os distúrbios do sono são apresentados como uma das consequências do alcoolismo.
- D) A ingestão de bebidas alcoólicas acarreta a síndrome amnésica.
- E) O abuso do álcool se diferencia da dependência pela não continuidade.

6. A expressão “É entendido”, que inicia o segundo período do texto, está relacionada a um termo anteriormente referenciado. Dentre as opções apresentadas abaixo, assinale o termo correspondente.

- A) álcool
- B) problemas
- C) conjunto
- D) consumo
- E) alcoolismo

A questão 7 refere-se ao texto abaixo.

A gente quer ter voz ativa  
No nosso destino mandar  
Mas eis que chega a roda-viva  
E carrega o destino pra lá  
Roda mundo, roda-gigante  
Roda-moinho, roda pião  
O tempo rodou num instante  
Nas voltas do meu coração

Chico Buarque

7. Qual das informações abaixo não está de acordo com o texto?

- A) A roda representa o movimento da vida.
- B) A passagem do tempo não se compara ao movimento da roda.
- C) Pensamos que mandamos no nosso destino.
- D) A roda da vida carrega o nosso destino.
- E) Não somos donos do destino.

A questão 8 refere-se à figura abaixo.



(Gazeta de Alagoas/maio/2008)

8. As palavras utilizadas na figura são

- A) substantivos e adjetivos.
- B) conjunções e adjetivos.
- C) advérbios e pronomes.
- D) pronomes e preposições.
- E) advérbios e conjunções.

As questões 9 e 10 referem-se ao texto abaixo.

Mulher proletária — única fábrica que o operário tem, (fabrica filhos) tu na tua superprodução de máquina humana forneces anjos para o Senhor Jesus, forneces braços para o senhor burguês.

Jorge de Lima

9. As palavras sublinhadas no texto são acentuadas porque são

- A) paroxítonas terminadas em ditongo.
- B) monossílabos tônicos.
- C) paroxítonas terminadas em vogal.
- D) oxítonas terminadas em vogal.
- E) proparoxítonas.

10. Se a palavra “operário” estiver no plural, a frase fica da seguinte forma:

- A) única fábrica que os operários tem.
- B) única fábrica que os operários têm.
- C) única fábrica que os operários têm.
- D) única fábrica que os operários teem.
- E) única fábrica que os operários têm.

11. Dados os fragmentos de texto abaixo,

- I. À medida que \_\_\_\_\_ e convivo com outras, valorizo mais ainda as mulheres que estão acima dos 30.
- II. Elas não se importam com o que você pensa, mas se dispõem de coração se você tiver a \_\_\_\_\_ de conversar.
- III. Você nunca precisa \_\_\_\_\_ seus pecados...
- IV. Mulheres mais velhas são diretas e \_\_\_\_\_.
- V. Hoje em dia 80% das mulheres são contra o casamento e sabem \_\_\_\_\_?

escolha a opção que preenche corretamente os espaços.

- |    | I          | II | III      | IV | V         |   |          |   |         |
|----|------------|----|----------|----|-----------|---|----------|---|---------|
| A) | envelhesso | –  | intensão | –  | confessar | – | honestas | – | porquê  |
| B) | envelheço  | –  | intenção | –  | confessar | – | honestas | – | por quê |
| C) | envelhesço | –  | intenção | –  | confeçar  | – | honestas | – | porquê  |
| D) | envelheço  | –  | intensão | –  | confessar | – | honestas | – | por quê |
| E) | envelheço  | –  | intenção | –  | confesçar | – | onestas  | – | por quê |

12. A separação das sílabas está correta na palavra

- A) in-feliz-mente.
- B) a-pan-hada.
- C) psi-ca-na-lis-tas.
- D) a-dmi-ra-mos.
- E) in-te-re-ssan-te.

As questões 13 e 14 referem-se ao texto abaixo.

Rascunhos

### SUCO ENERGÉTICO

- 1 beterraba pequena sem casca
- 1 cenoura média sem casca
- 2/3 copo de suco de laranja

13. A palavra “energético” no título da receita acima indica que o suco é

- A) para dar energia.
- B) fornecedor de muitas calorias.
- C) dietético.
- D) totalmente natural.
- E) destinado a atletas.

14. Abaixo estão cinco versões para o modo de fazer o suco energético. Todas as versões estão corretas gramaticalmente, mas, por causa da pontuação, uma delas tem uma informação diferente das outras. Assinale-a.

- A) Bata tudo no liquidificador, até obter um suco homogêneo; passe na peneira e sirva imediatamente.
- B) Bata tudo no liquidificador. Até obter um suco homogêneo, passe na peneira e sirva imediatamente.
- C) Bata tudo no liquidificador até obter um suco homogêneo, passe na peneira e sirva imediatamente.
- D) Bata tudo no liquidificador até obter um suco homogêneo; passe na peneira e sirva imediatamente.
- E) Bata tudo no liquidificador até obter um suco homogêneo. Passe na peneira e sirva imediatamente.

15. A forma verbal em destaque na frase abaixo pode ser substituída por HÁ. Assinale a opção em que o verbo haver, no sentido de existir, está corretamente empregado.

“Para cada mulher com mais de 30 anos, estonteante, bonita, bem apanhada e sexy, existe um careca, pançudo em bermudões amarelos bancando o bobo para uma garota de 19 anos...”

- A) Por haverem dito que sabiam da origem do dinheiro, estão agora em perigo.
- B) Não haveriam outras formas de dar continuidade ao projeto?
- C) Não havia provas suficientes para convencê-lo da culpa do réu.
- D) Todos haviam de comparecer imediatamente em juízo!
- E) Há meses não saio muito à noite, por causa dos frequentes assaltos.

## MATEMÁTICA

Rascunhos

16. Qual o mínimo múltiplo comum dos números 45 e 60?

- A) 360
- B) 2.700
- C) 45
- D) 60
- E) 180

17. O valor da expressão  $9 \times 5 - 30$  é

- A) divisor de 100.
- B) maior que 20.
- C) primo.
- D) múltiplo de 3.
- E) par.

18. A soma  $\frac{5}{45} + \frac{12}{60}$  é igual a

- A)  $\frac{60}{105}$
- B)  $\frac{14}{45}$
- C)  $\frac{17}{105}$
- D)  $\frac{17}{180}$
- E)  $\frac{1}{45}$

19. A maior das frações  $\frac{1}{3}, \frac{1}{4}, \frac{1}{5}, \frac{1}{6}$  e  $\frac{1}{7}$  é

- A)  $\frac{1}{6}$
- B)  $\frac{1}{7}$
- C)  $\frac{1}{3}$
- D)  $\frac{1}{4}$
- E)  $\frac{1}{5}$

20. Segundo a página eletrônica:

<http://www.orcamentofederal.gov.br/cliping/2013/salario-minimo-em-2014-vai-subir-para-r-719-preve-ldo>, acessada em 10/08/2013, "O salário mínimo deverá saltar para R\$ 719,48 a partir de janeiro de 2014, conforme previsão da Lei de Diretrizes Orçamentárias (LDO) de 2014." Considerando que o salário mínimo do corrente ano é de R\$ 678,00, a LDO prevê um aumento no salário mínimo nacional situado entre

- A) 6% e 7%.
- B) 7% e 8%.
- C) 3% e 4%.
- D) 4% e 5%.
- E) 5% e 6%.

As questões 21 e 22 referem-se ao texto abaixo

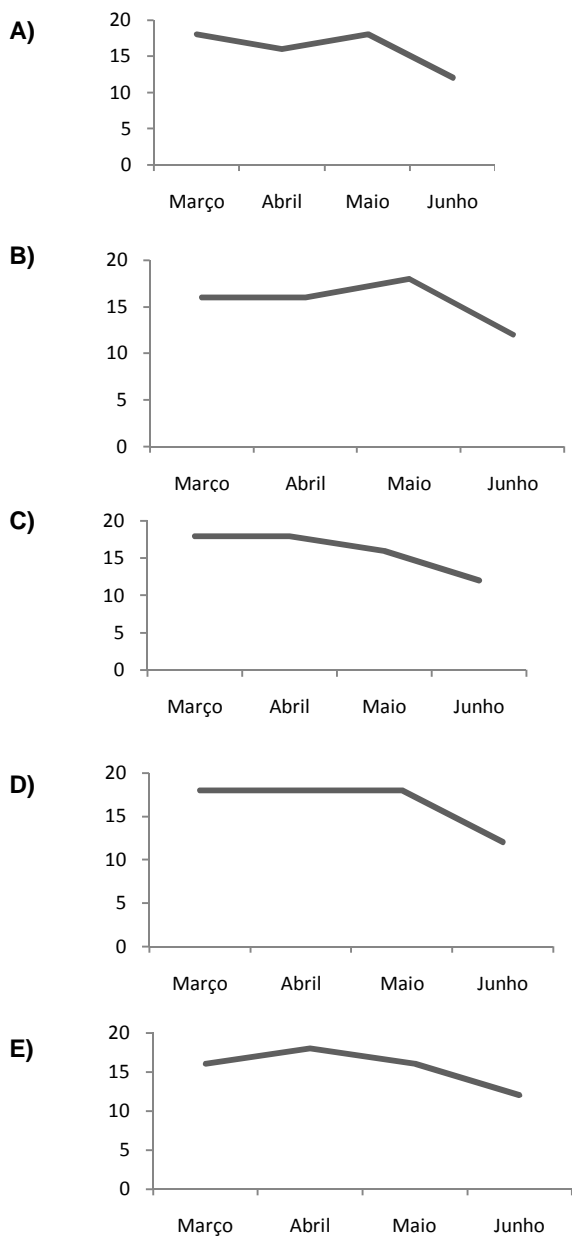
A tabela abaixo apresenta o consumo mensal de arroz dos alunos da Escola Municipal Antônio Buarque Pinheiro nos quatro últimos meses do primeiro semestre de 2013.

Mês	Consumo (kg)
Março	18
Abril	16
Maio	18
Junho	12

21. O consumo mensal médio de arroz nestes quatro meses foi de

- A) 16 kg.
- B) 18 kg.
- C) 12 kg.
- D) 14 kg.
- E) 15 kg.

22. Qual o gráfico que melhor representa o consumo mensal de arroz dos alunos em relação aos meses?



Rascunhos

Rascunhos

23. Multiplicando-se o número 5 pelo número 13018 obtém-se o número C50B0. Neste caso, podemos afirmar que

- A)  $B \times C = 54$ .
- B)  $B \div C = 3$ .
- C)  $B + C = 10$ .
- D)  $B - C = 5$ .
- E)  $B + C = 11$ .

24. Que fração do dia representa 8 horas?

- A)  $\frac{5}{9}$  do dia
- B)  $\frac{6}{9}$  do dia
- C)  $\frac{2}{9}$  do dia
- D)  $\frac{3}{9}$  do dia
- E)  $\frac{4}{9}$  do dia

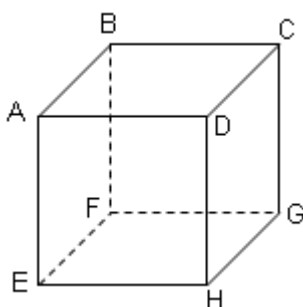
25. Um agricultor foi a uma loja comprar uma ferramenta que pagou com uma nota de R\$ 50,00. Para facilitar o troco, o caixa lhe pediu mais R\$ 10,20. O caixa então lhe devolveu R\$ 20,00 de troco. Quanto custou a ferramenta?

- A) R\$ 30,80
- B) R\$ 20,80
- C) R\$ 30,00
- D) R\$ 40,20
- E) R\$ 40,00

26. Durante 20 dias, uma pessoa gastou, em cada dia, a mesma quantia. Sabe-se que ela ganha R\$ 22,50 por dia e economizou, nesses 20 dias, R\$ 260,00. Com base nestas informações, pode-se afirmar que a sua despesa diária foi de

- A) R\$ 9,50.
- B) R\$ 9,00.
- C) R\$ 8,50.
- D) R\$ 10,50.
- E) R\$ 10,00.

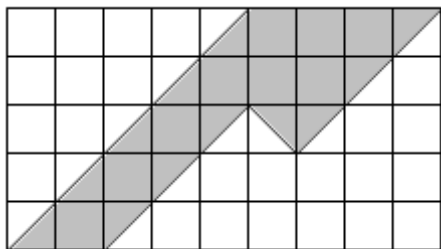
27. A figura abaixo representa um cubo de aresta igual a 5 cm.



Podemos, então, afirmar que

- A) os segmentos  $\overline{AD}$  e  $\overline{BF}$  são paralelos.
- B) o ângulo  $\widehat{FEH}$  mede  $90^\circ$ .
- C) o ângulo  $\widehat{BAD}$  é agudo.
- D) o ângulo  $\widehat{ADC}$  é obtuso.
- E) o comprimento do segmento  $\overline{AB}$  é menor do que 5 cm.

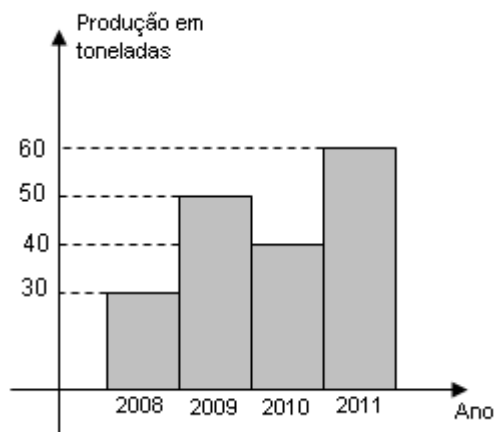
28. O retângulo abaixo foi dividido em pequenos quadrados, todos de lado igual a 1 cm.



Indique a opção que corresponde a área da região sombreada.

- A) 14 cm<sup>2</sup>.
- B) 15 cm<sup>2</sup>.
- C) 11 cm<sup>2</sup>.
- D) 12 cm<sup>2</sup>.
- E) 13 cm<sup>2</sup>.

29. A figura abaixo apresenta a produção de milho, em toneladas, de uma determinada região nos anos 2008, 2009, 2010 e 2011.



Com base nesta figura, podemos afirmar que

- A) a produção em 2008 foi maior do que a produção em 2010.
- B) a produção em 2008 foi 2/3 da produção em 2011.
- C) a produção em 2011 foi a metade da produção em 2008.
- D) a produção em 2008 foi 50% da produção em 2011.
- E) a produção em 2009 foi de 10 toneladas a mais do que a produção em 2008.

30. A fração  $\frac{201}{20}$  é igual ao número decimal

- A) 10,5.
- B) 10,05.
- C) 1,05.
- D) 1,005.
- E) 10,0.



## HISTÓRIA E GEOGRAFIA DE POÇO DAS TRINCHEIRAS

31. Como tantas outras localidades, inclusive a capital do Estado de Alagoas, o município de Poço das Trincheiras tem seu padroeiro, que é

- A) São Pedro.
- B) São Sebastião.
- C) Santo Amaro.
- D) São Benedito.
- E) Santo Antônio.

32. No calendário de eventos festivos do município de Poço das Trincheiras destacam-se:

- A) a festa do padroeiro e a data da emancipação política do município.
- B) a festa do feijão e a exposição agropecuária.
- C) a exposição agropecuária e a festa do feijão.
- D) a festa de São Sebastião e a festa da juventude.
- E) a festa do feijão e a festa de Santo Antônio.

33. O local onde atualmente se localiza a cidade de Poço das Trincheiras era propriedade da família

- A) Veloso.
- B) Barbosa.
- C) Melo.
- D) Medeiros.
- E) Wanderley.

34. O município de Poço das Trincheiras procura preservar as tradições populares com o incentivo de folgedos, dentre as quais:

- A) coco-de-roda, samba do mulato e bumba-meu-boi.
- B) zabumba, cavahada e guerreiro.
- C) corrida de mourão, vaquejada e quilombo.
- D) reisado, baianas e bumba-meu-boi.
- E) quadrilha junina, chegada e caboclinho.

35. Dadas as proposições seguintes, com relação ao município de Poço das Trincheiras,

- I. A maior parte da população vive no campo.
- II. A maior fonte de riqueza do município é o comércio.
- III. As temperaturas mais elevadas ocorrem nos meses de julho e agosto.
- IV. Apenas uma pequena parte da população vive no campo, pois a maior parte vive na cidade.

verifica-se que está(ão) correta(s)

- A) II e III, apenas.
- B) I, II e III, apenas.
- C) I, II, III e IV.
- D) I, apenas.
- E) II, III e IV, apenas.

36. Diversas famílias de outras regiões se deslocaram para o povoado que atualmente é Poço das Trincheiras e instalaram propriedades. O desenvolvimento do povoado foi revelando a necessidade de emancipação política. O mais destacado líder dessa luta foi

- A) Pedro Veloso Wanderley.
- B) Osman Medeiros.
- C) Pedro Leão Velloso Filho.
- D) Gilson Farias Barbosa.
- E) João Carlos de Melo.

37. O município de Poço das Trincheiras apresenta clima

- A) tropical úmido.
- B) equatorial.
- C) subtropical.
- D) semiárido.
- E) desértico.

38. A foto abaixo representa uma formação vegetal muito característica no município de Poço das Trincheiras. Qual é essa vegetação?



- A) Mata das Araucárias
- B) Floresta Tropical
- C) Campos
- D) Caatinga
- E) Mata Atlântica

39. Qual alternativa apresenta uma cultura agrícola não encontrada no município de Poço das Trincheiras?

- A) Algodão
- B) Cana-de-açúcar
- C) Feijão
- D) Milho
- E) Mandioca

40. As serras abaixo se localizam no município de Poço das Trincheiras, exceto a serra

- A) do Boqueirão.
- B) dos Bois.
- C) do Espinhaço.
- D) do Almeida.
- E) do Poço.