



MUNICÍPIO DE INHAPI - AL

CONCURSO PÚBLICO

PROVA TIPO

3

Cargo (Nível Fundamental Completo – NFC):

Código: 42

42. AGENTE DE COMBATE ÀS ENDEMIAS

Provas de Português, Matemática e Conhecimentos Específicos

CADERNO DE QUESTÕES

INSTRUÇÕES GERAIS

1. Este **Caderno de Questões** somente deverá ser aberto quando for autorizado pelo Fiscal.
2. Antes de iniciar a prova, confira se o tipo da prova do **Caderno de Questões** é o mesmo da etiqueta da banca e da **Folha de Respostas** de questões objetivas.
3. Ao ser autorizado o início da prova, verifique se a numeração das questões e a paginação estão corretas. Verifique também se contém **40 (quarenta)** questões objetivas com 5 (cinco) alternativas cada. Caso contrário, comunique imediatamente ao Fiscal.
4. O tempo disponível para esta prova é de **3 horas**. Faça-a com tranquilidade, mas **controle seu tempo**. Esse **tempo** inclui a marcação da **Folha de Respostas** de questões objetivas.
5. Você somente poderá sair em definitivo do Local de Prova depois de decorridas **2 horas** do início da aplicação.
6. Na **Folha de Respostas** de questões objetivas, confira seu nome, número do seu documento de identificação, tipo de prova e cargo escolhido.
7. Em hipótese alguma lhe será concedida outra **Folha de Respostas** de questões objetivas.
8. Preencha a **Folha de Respostas** de questões objetivas utilizando caneta esferográfica de tinta azul ou preta. Na **Folha de Respostas** de questões objetivas, preencha completamente o círculo correspondente à alternativa escolhida, conforme modelo:

9. Será atribuído o valor ZERO à questão que contenha na **Folha de Respostas** de questões objetivas: dupla marcação, marcação rasurada, emendada ou com "X", não preenchida totalmente ou que não tenha sido transcrita.
10. A correção da prova objetiva será efetuada de forma eletrônica, considerando-se apenas o conteúdo da **Folha de Respostas** de questões objetivas.
11. Caso a Comissão julgue uma questão como sendo nula, os pontos serão atribuídos a todos os candidatos.
12. Não será permitida qualquer espécie de consulta.
13. Ao terminar a prova, **devolva** ao **Fiscal** de Sala este **Caderno de Questões**, juntamente com a **Folha de Respostas** de questões objetivas, e **assine a Lista de Presença**.
14. Na sala que apresentar apenas 1 (um) Fiscal, os 3 (três) últimos candidatos somente poderão ausentar-se da sala juntos, após a **assinatura** da **Ata de Encerramento** de provas.
15. **Assine** neste Caderno de Questões e **coloque** o número do seu documento de identificação (RG, CNH etc.).

Boa Prova!

N. do doc. de identificação (RG, CNH etc.):

Assinatura do(a) candidato(a):

MUNICÍPIO
DE INHAPI



PORTUGUÊS

QUESTÃO 01



Disponível em:

<<http://casteloroiger.blogspot.com.br/search/label/Notas%20do%20Amap%C3%A1?updated-max=2012-05-01T18:26:00-07:00&max-results=20&start=15&by-date=false>>. Acesso em: 23 set. 2015.

Com base na tirinha, observando o segundo quadrinho, assinale a alternativa que indica o tempo dos verbos “ser” e “enfrentar” corretamente.

- A) Pretérito mais-que-perfeito do modo indicativo.
- B) Futuro do presente do modo indicativo.
- C) Futuro do pretérito do modo indicativo.
- D) Presente do modo subjuntivo.
- E) Presente do modo indicativo.

QUESTÃO 02

Não vou me adaptar

Eu não caibo **mais** nas **roupas** que eu cabia

Eu não encho mais a casa de **alegria**

Os anos se passaram enquanto eu dormia

E quem eu queria bem me esquecia

[...]

Araldo Antunes

Disponível em: <http://www.google.com.br/?gws_rd=ssl#q=%22%C3%B3+bendita+paisagem%22>. Acesso em: 24 set. 2015.

Qual a alternativa que apresenta uma palavra com hiato?

- A) Roupas.
- B) Alegria.
- C) Mais.
- D) Não.
- E) Eu.

QUESTÃO 03



Disponível em: <<http://jornalgn.com.br/noticia/amandinho>>. Acesso em: 23 set. 2015.

A palavra “atrás” recebe o acento agudo por se tratar de oxítone terminada em -as aberto. Assinale a alternativa que apresenta a palavra que deve receber acento tônico pelo mesmo motivo.

- A) Estudiosíssimas.
- B) Maracujás.
- C) Paróquias.
- D) Abóboras.
- E) Paródias.

QUESTÃO 04

CIDADEZINHA QUALQUER

Casas entre **bananeiras**
mulheres entre **laranjeiras**
pomar amor cantar.

Um homem vai devagar.
Um cachorro vai devagar.
Um burro vai devagar.
Devagar... as janelas olham.

Eita vida besta, meu Deus.


Carlos Drummond de Andrade

Disponível em: <<http://www.horizonte.unam.mx/brasil/drumm6.html>>. Acesso em: 20 set. 2015.

Qual é o processo de formação dos vocábulos “bananeiras” e “laranjeiras” em destaque?

- A) Parassíntese.
- B) Aglutinação.
- C) Hibridismo.
- D) Prefixação.
- E) Sufixação.

QUESTÃO 05



Disponível em: <<http://tirasarmandinho.tumblr.com/post/127665501039/lenas-ga%C3%B4chas-esta-semana-armandinho-em-caixas>>. Acesso em: 20 set. 2015.

Com base no texto, as palavras “Criador”, “Madeira”, “Martírio”, “Umbu” e “Amigas” são

- A) verbo, substantivo, substantivo, artigo e adjetivo, respectivamente.
- B) numeral, substantivo, adjetivo, adjetivo e artigo indefinido, respectivamente.
- C) todas substantivos.
- D) todas adjetivos.
- E) todas verbos.

QUESTÃO 06



Disponível em: <<http://www.satirinhas.com/2014/07/a-culpa-e-sempre-do-outro/>>. Acesso em: 12 set. 2015

Sobre a mensagem central do texto, é correto afirmar:

- A) jogar em terreno irregular não é adequado.
- B) no esporte e na vida, competir é necessário.
- C) a vida é feita de escolhas, ganhar ou perder.
- D) o campo cheio de buracos inviabiliza os jogos.
- E) as pessoas não assumem seus erros e limitações, preferindo atribuí-los a fatores externos.

QUESTÃO 07

Ó **bendita** paisagem! Terra **estranha**
De antigos pinheirais e alegres campos,
Ei-la silêncio, **solidão** , montanha!

Teixeira de Pascoaes
Disponível em: <http://google.com.br/?gws_rd=ssl#q=%22C3%B3+bendita+paisagem%22>.
Acesso em: 24 set. 2015.

Assinale a alternativa que contém palavras sinônimas das palavras destacadas no texto, respectivamente.

- A) abençoada, exótica, isolamento.
- B) abençoada, costumeira, exílio.
- C) benta, exótica, convivência.
- D) abençoada, comum, exílio.
- E) benta, erótica, exílio.

QUESTÃO 08



Disponível em: <<http://tirasarmandinho.tumblr.com/post/115254634074/novidades-no-blog-s%C3%A9rio>>. Acesso em: 13 set. 2015.

Considerando a tirinha, dadas as afirmativas,

- I. O vocábulo “dizem” é um adjetivo, pois acompanha o verbo sempre.
- II. O vocábulo “um”, no contexto, é um artigo indefinido.
- III. O verbo “será” está conjugado na terceira pessoa do singular do futuro do pretérito do modo indicativo.
- IV. O vocábulo “eu” é pronome pessoal.

verifica-se que está(ão) correta(s)

- A) I, II, III e IV.
- B) II, III e IV, apenas.
- C) II e IV, apenas.
- D) I e III, apenas.
- E) I, apenas.

QUESTÃO 09



Disponível em: <<http://clubedamafalda.blogspot.com.br/2007#.VgGGtJvkr>>. Acesso em: 17 set. 2015.

Na sentença “O que você não entendeu, Manolito?”, a vírgula foi empregada para separar

- A) o aposto.
- B) o vocativo.
- C) a elipse de um termo.
- D) expressões explicativas.
- E) elementos de uma enumeração.

QUESTÃO 10

Assinale a alternativa em que o pronome demonstrativo está empregado adequadamente.

- A) Meus amigos, **nesse** momento quero agradecer a presença de todos.
- B) Sílvia e Sara são irmãs. **Essa** é mais tímida que aquela.
- C) Quanto custou **esta** pulseira que você está usando?
- D) Marília, **aquele** livro que está com José é meu.
- E) Luiz, o que é **isto** que você carrega?

QUESTÃO 11

Em “Vidas Secas” o autor se mostra mais humano, sentimental e compreensivo, acompanhando o pobre vaqueiro Fabiano e sua família com simpatia e uma compaixão indisfarçáveis. Além de ser o mais humano e comovente dos livros de ficção de Graciliano Ramos, “Vidas Secas” é o que contém maior sentimento da terra nordestina, daquela parte que é áspera, dura e cruel, sem deixar de ser amada pelos que a ela estão ligados teluricamente. O que impulsiona os seres desta novela, o que lhes marca a fisionomia e os caracteres, é o fenômeno da seca. “Vidas Secas” representa ainda uma evolução na obra de Graciliano Ramos quanto ao estilo e à qualidade estritamente literária.

Disponível em: <http://www.saraiva.com.br/vidas-secas-127141.html?mi=VITRINECHAORDIC_ultimatebuy_product_127141>. Acesso em: 02 set. 2015.

O objetivo principal do texto é

- A) discutir os traços de personalidade de Fabiano e sua família.
- B) apresentar características do livro *Vidas secas* ao leitor.
- C) evidenciar as características da terra nordestina.
- D) apresentar o perfil do autor de *Vidas secas*.
- E) refletir o fenômeno da seca.

QUESTÃO 12



Disponível em: <<http://clubedamafalda.blogspot.com.br/2007>>. Acesso em: 17 set. 2015.

Substituindo os termos “para que” pelos termos “por que”, assinale a alternativa que preenche corretamente as sentenças abaixo:

- I. Milhões e milhões de pessoas vivem no mundo. _____?
- II. Afinal de contas, _____ a gente está no mundo?

- A) Por que – por quê.
- B) Por quê – porque.
- C) Por que – por que.
- D) Por quê – por que.
- E) Por que – porque.

QUESTÃO 13



Disponível em: <<http://wordsofleisure.com/2012/04/01/tirinha-do-dia-mafalda-e-o-transito/>>. Acesso em: 17 set. 2015.

Assinale a alternativa que aponta o processo de formação do vocábulo “engarrafamento”.

- A) Derivação sufixal.
- B) Derivação prefixal.
- C) Derivação imprópria.
- D) Derivação regressiva.
- E) Derivação parassintética.

QUESTÃO 14

Em casa de Norberto, as senhoras tinham as delicadezas do sexo, bebiam seu chá, faziam sua malha e eram madrinhas das filhas dos criados mais próximos.

José Saramago

Disponível em: <http://projeto.camisetafeitadepet.com.br/imagens/banco_imagens_livros/121_livro_site.pdf>. Acesso em: 09 set. 2015.

Dadas as afirmativas sobre o texto,

- I. Os termos “seu” e “sua” são pronomes possessivos.
- II. A palavra “próximos” é paroxítona.
- III. A palavra “delicadezas” tem como sinônima a palavra “gentilezas”.
- IV. A palavra “casa” tem como antônima a palavra “moradia”.
- V. A palavra “criados” é substantivo.

verifica-se que estão corretas

- A) I, II, III, IV e V.
- B) I, III e V, apenas.
- C) I, III e IV, apenas.
- D) II e V, apenas.
- E) II e IV, apenas.

QUESTÃO 15

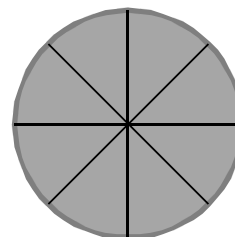
Assinale a alternativa pontuada corretamente.

- A) Joaquim Maria Machado de Assis, cronista jornalista poeta e romancista, nasceu na cidade do Rio de Janeiro, em 21 de junho de 1839.
- B) Joaquim Maria Machado de Assis cronista, jornalista, poeta e romancista nasceu na cidade do Rio de Janeiro em 21 de junho de 1839.
- C) Joaquim Maria Machado de Assis, cronista, jornalista, poeta e romancista, nasceu na cidade do Rio de Janeiro, em 21 de junho de 1839.
- D) Joaquim Maria Machado de Assis cronista, jornalista poeta e romancista, nasceu na cidade do Rio de Janeiro em 21 de junho de 1839.
- E) Joaquim Maria Machado de Assis cronista, jornalista, poeta e, romancista nasceu na cidade do Rio de Janeiro, em 21 de junho de 1839.

MATEMÁTICA

QUESTÃO 16

A figura apresenta, de forma aproximada, a torta, dividida em oito fatias de igual tamanho, que Adriana levou para partilhar com as amigas do escritório.



Se, na hora do lanche, Juliana comeu três fatias, Andréia comeu uma fatia e meia e Ana, duas fatias, que fração da torta sobrou para Adriana?

- A) $\frac{7}{8}$
- B) $\frac{13}{16}$
- C) $\frac{1}{4}$
- D) $\frac{3}{16}$
- E) $\frac{1}{8}$

QUESTÃO 17

Petrobras anuncia reajuste da gasolina e do diesel nas refinarias

Aumento para a gasolina foi de 6% e para o diesel, de 4%. Novos valores entram em vigor a partir das 0h desta quarta-feira (30/09).

[...]

Disponível em: <<http://g1.globo.com/economia/noticia/2015/09/30/2015/09/pe/petrobras-anuncia-reajuste-da-gasolina-e-do-diesel.html>>. Acesso em: 30 set. 2015 (adaptado).

Considerando as informações apresentadas no texto, se um posto de combustível, que vendia gasolina a R\$ 3,20 o litro, repassou metade desse aumento, um litro de gasolina passou a custar nesse posto

- A) R\$ 5,12.
- B) R\$ 4,16.
- C) R\$ 3,392.
- D) R\$ 3,296.
- E) R\$ 1,60.

QUESTÃO 18

Sejam A e B dois números inteiros ímpares, com $A > B$. Dadas as afirmativas,

- I. A diferença entre A e B é ímpar.
- II. O produto de A por B é par.
- III. O quadrado de B é ímpar.
- IV. O dobro de A é par.

verifica-se que estão corretas apenas

- A) I, II e IV.
- B) I, II e III.
- C) III e IV.
- D) II e IV.
- E) I e III.

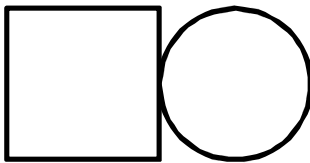
QUESTÃO 19

Se x e y são números reais, a expressão $x^2 + y^2 - (x + y)(x - y)$ é igual a

- A) 0(zero).
- B) $2y^2$.
- C) y^2 .
- D) $2x^2$.
- E) x^2 .

QUESTÃO 20

A figura apresenta um esboço do conjunto de piscinas de uma escola municipal modelo. A piscina circular, infantil, tem raio de 6 m e tangencia a piscina de adultos, que é quadrada, com lado de comprimento igual ao diâmetro da piscina infantil.



Se sua profundidade é a mesma em todos os pontos, qual é o valor, em metros quadrados, da área do fundo da piscina de adultos?

- A) 144
- B) 36π
- C) 72
- D) 48
- E) 36

QUESTÃO 21

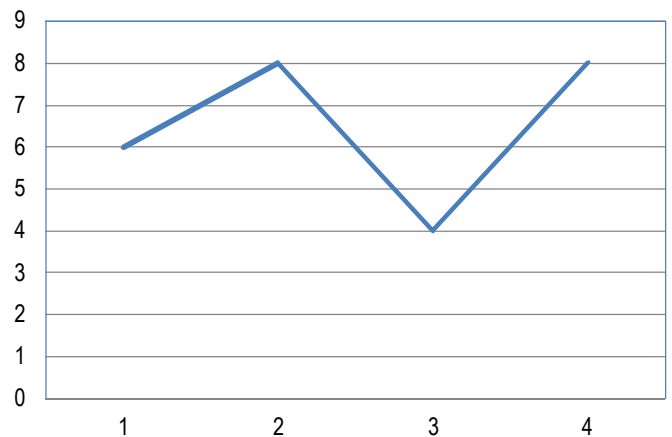
Nos campeonatos de voleibol mais recentes, uma vitória por 3x0 ou 3x1 dá três pontos à equipe vencedora e uma vitória por 3x2 dá dois pontos. Se, numa competição nesse formato, uma equipe venceu todos os seus dez jogos e terminou o campeonato com vinte e três pontos, qual a diferença entre o número de vitórias por 3x2 e o número de vitórias por 3x0 ou 3x1?

- A) 7
- B) 4
- C) 3
- D) 2
- E) 0

QUESTÃO 22

O gráfico apresenta as notas bimestrais de uma aluna de uma escola municipal.

Notas de Gisele Kroniakson



Se um aluno para ser aprovado nessa escola precisa ter uma média das notas bimestrais superior ou igual a 5,0, a aluna Gisele foi

- A) reprovada com média 4,0.
- B) reprovada com média 2,6.
- C) aprovada com média 7,0.
- D) aprovada com média 6,5.
- E) aprovada com média 6,0.

QUESTÃO 23

Se o resto da divisão de um inteiro Z por 5 é igual a 3, então o resto da divisão do quadrado de Z por 5 é igual a

- A) 9.
- B) 6.
- C) 4.
- D) 3.
- E) 2.

QUESTÃO 24

Qual é o número cuja soma do seu antecessor com o seu triplo é igual a 43?

- A) 21
- B) 14
- C) 13
- D) 12
- E) 11

QUESTÃO 25

QUANTO DE ÁGUA DEVO BEBER POR DIA?

Existem muitos números, e a maioria das pessoas sabem de cor os **DE 2 A 3 LITROS DE ÁGUA POR DIA**. O que eu observo é que muitas vezes, por conta da vida agitada, as pessoas passam o dia sem tomar água e resolvem “atingir a meta” tomando tudo de uma vez só. Infelizmente não adianta, nós temos uma capacidade limitada de absorção e aproveitamento de água.

[...]

Disponível em: <<http://www.falecomnutricionista.com.br/quantidade-de-agua-ideal-por-dia/>>.
Acesso em: 01 out. 2015.

Considerando as informações apresentadas no texto, se o Sr. Joel pretende atingir o mínimo recomendado utilizando copos de água mineral de 200 ml que custam R\$ 0,45, quanto ele vai desembolsar por dia?

- A) R\$ 45,00
- B) R\$ 11,25
- C) R\$ 6,75
- D) R\$ 5,62
- E) R\$ 4,50

CONHECIMENTOS ESPECÍFICOS

QUESTÃO 26

Dadas as medidas preventivas no controle de roedores,

- I. Limpeza local e remoção de resíduos alimentares de feiras livres, mercados municipais e congêneres.
- II. Manutenção e limpeza de praças, terrenos baldios, logradouros públicos e mercados municipais.
- III. A manutenção de entulhos e materiais inservíveis, que possam estar servindo de abrigo.

verifica-se que está(ão) correta(s)

- A) I, apenas.
- B) III, apenas.
- C) I e II, apenas.
- D) II e III, apenas.
- E) I, II e III.

QUESTÃO 27

A água é poluída por um grande ramo de produtos. Os contaminantes podem ser classificados como:

I. Agentes químicos	a) lixo e radiação
II. Agentes físicos	b) coliformes
III. Agentes biológicos	c) proteínas, gorduras e ácidos

Qual a alternativa com a correta relação entre as colunas?

- A) I – a; II – b; III – c
- B) I – a; II – c; III – b
- C) I – b; II – a; III – c
- D) I – c; II – a; III – b
- E) I – c; II – b; III – a

QUESTÃO 28

Para a forma de transmissão da raiva se convencionou classificar os ciclos de transmissão em urbana, rural, silvestre ou aéreo. Dadas as afirmativas,

- I. O ciclo aéreo diz respeito aos morcegos.
- II. O ciclo urbano é quando a doença é transmitida por animais domésticos, notadamente cães e gatos.
- III. O ciclo silvestre dá-se nos herbívoros (bois, ovelhas etc.) em geral atacados por morcegos hematófagos.

verifica-se que está(ão) correta(s)

- A) II, apenas.
- B) III, apenas.
- C) I e II, apenas.
- D) I e III, apenas.
- E) I, II e III.

QUESTÃO 29

No tratamento da raiva, se por um lado praticamente 100% dos pacientes morrem após o início dos sintomas, por outro, há vacina e tratamento profilático com imunoglobulinas (anticorpos) em caso de exposição ao vírus. Dadas as afirmativas,

- I. Se o animal for doméstico, é importante obter a caderneta de vacinação dele, atestando sua imunização contra a raiva.
- II. Se o animal for selvagem, como um morcego, não é importante capturá-lo para que ele possa ser analisado.
- III. Mordidas na cabeça e no pescoço são as menos graves por estarem próximas do cérebro.
- IV. A profilaxia pós-exposição (após mordidas por animais suspeitos) deve ser iniciada o mais rápido possível.

verifica-se que está(ão) correta(s)

- A) I, apenas.
- B) I e IV, apenas.
- C) II e III, apenas.
- D) II, III e IV, apenas.
- E) I, II, III e IV.

QUESTÃO 30

A introdução de substâncias poluentes nos corpos aquáticos, ao modificar as características do meio, altera a relação entre produtores e consumidores. A alteração dessa relação pode levar igualmente a proliferação de algas e organismos produtores de produtos tóxicos. Estes compostos tóxicos podem ser absorvidos pelos organismos ocorrendo bioacumulação, e estes compostos, ao entrarem na cadeia alimentar, podem causar sérios problemas ao ser humano. Observe as colunas.

I. Floração das águas	a) aumento no número de consumidores de oxigênio leva a baixa na concentração do oxigênio
II. Eutrofização	b) excesso de nutrientes na água, que leva a proliferação de algas
III. Hipóxia	c) uso agrícola de fertilizantes, que ao atingirem os cursos da água nutrem as plantas aquáticas

Qual alternativa apresenta a correlação correta entre as colunas?

- A) I – a ; II – b ; III – c
- B) I – a ; II – c ; III – b
- C) I – b ; II – c ; III – a
- D) I – c ; II – a ; III – b
- E) I – c ; II – b ; III – a

QUESTÃO 31

Aedes Aegypti, *Anopheles*, *Triatoma* ou Barbeiro, *Culex* *quiquefasciatus* são exemplos de

- A) vetores.
- B) hospedeiros.
- C) enfermidades.
- D) fontes de infecção.
- E) agentes etiológicos.

QUESTÃO 32

De acordo com a Lei n.º 11350/2006, em seu Artigo 10º, A administração pública somente poderá rescindir unilateralmente o contrato do Agente de Combate às Endemias, de acordo com o regime jurídico de trabalho adotado, na ocorrência de uma das seguintes hipóteses:

- I. prática de falta grave;
- II. acumulação ilegal de cargos, empregos ou funções públicas;
- III. necessidade de redução de quadro de pessoal, por excesso de despesa;
- IV. insuficiência de desempenho.

verifica-se que está(ão) correta(s)

- A) III, apenas.
- B) I e II, apenas.
- C) III e IV, apenas.
- D) I, II e IV, apenas.
- E) I, II, III e IV.

QUESTÃO 33

Segundo a NOAS 2006, são prioridades do Pacto pela Saúde:

- I. saúde do idoso;
- II. câncer de colo de útero e de mama;
- III. mortalidade infantil e materna;
- IV. saúde da criança e do adolescente.

Dos itens acima, está(ão) correto(s)

- A) IV, apenas.
- B) I e IV, apenas.
- C) II e III, apenas.
- D) I, II e III, apenas.
- E) I, II, III e IV.

QUESTÃO 34

Segundo a NOAS 2001, são responsabilidades e ações estratégicas mínimas da atenção básica:

- I. controle da tuberculose;
- II. eliminação da hanseníase;
- III. controle de hipertensão arterial;
- IV. controle de diabetes mellitus.

Dos itens acima, está(ão) correto(s)

- A) II, apenas.
- B) I e III, apenas.
- C) II e IV, apenas.
- D) I, III e IV, apenas.
- E) I, II, III e IV.

QUESTÃO 35

A vigilância ambiental em saúde é um conjunto de ações que proporciona o conhecimento e a detecção de qualquer mudança nos fatores determinantes e condicionantes do meio ambiente que interferem na saúde humana, com a finalidade de identificar as medidas de prevenção e controle dos fatores de risco ambientais relacionados às doenças ou outros agravos à saúde. Para implementação do Plano Nacional de Saúde e Ambiente no Desenvolvimento Sustentável, são destacadas várias diretrizes que apontam para políticas e ações dos setores saúde, meio ambiente, saneamento e recursos hídricos, bem como requisitos para ações integradas envolvendo outros setores, tais como:

- I. fortalecimento das medidas de controle e fiscalização dos empreendimentos após o licenciamento ambiental;
- II. fortalecimento das ações de vigilância por intermédio da ampliação do seu espectro conceitual, incorporando conceitos da área ambiental e da saúde do trabalhador;
- III. apoio ao desenvolvimento de novas tecnologias para avaliação de riscos ambientais e sanitários, e o aperfeiçoamento das existentes, de modo a instrumentalizar as ações de vigilância.

Dos itens acima, verifica-se que está(ão) correto(s)

- A) I, apenas.
- B) III, apenas.
- C) I e II, apenas.
- D) II e III, apenas.
- E) I, II e III.

QUESTÃO 36

“Caracteriza-se por dor de intensidade variável, com sinais inflamatórios pouco evidentes, sendo incomum a visualização da marca da picada. De evolução benigna na maioria dos casos, tem duração de algumas horas e não requer soroterapia. Por outro lado, é o desbalanço no sistema nervoso o responsável pelas formas graves que se manifestam inicialmente com sudorese profusa, agitação psicomotora, hipertensão e taquicardia. Podem se seguir alternadamente com manifestações de sonolência, náuseas e vômitos constituem sinais premonitórios de evolução para gravidade e conseqüente indicação de soroterapia.” O quadro clínico descreve os sinais clínicos de

- A) ofidismo.
- B) araneísmo.
- C) escorpionismo.
- D) acidente por roedores.
- E) acidente por himenópteros.

QUESTÃO 37

“Além de sangramentos em ferimentos cutâneos preexistentes, podem ser observadas hemorragias à distância como gengivorragias, epistaxes, hematêmese e hematúria. Em gestantes, há risco de hemorragia uterina. Podem ocorrer náuseas, vômitos, sudorese, hipotensão arterial e, mais raramente, choque.” A situação acima descreve manifestações sistêmicas de acidente

- A) crotálico.
- B) laquético.
- C) elapídico.
- D) botrópico.
- E) colubrístico.

QUESTÃO 38

Segundo a NOAS 01/2002, os municípios, para se habilitarem à Gestão Plena da Atenção Básica Ampliada, deverão assumir as responsabilidades, cumprir os requisitos e gozar das prerrogativas definidas. De acordo com a NOAS 01/2002, são definidos como requisitos:

- I. comprovar a operação do Fundo Municipal de Saúde;
- II. comprovar o funcionamento do CMS;
- III. estabelecer o Pacto da Atenção Básica para o ano em curso;
- IV. comprovar a capacidade para o desenvolvimento de ações básicas de vigilância sanitária, conforme normatização da ANVISA.

Dos itens acima, verifica-se que está(ão) correto(s)

- A) I, II, III e IV.
- B) II, III e IV, apenas.
- C) II e III, apenas.
- D) I e IV, apenas.
- E) I, apenas.

QUESTÃO 39

Dadas as atribuições pertinentes ao Agente de Combate às Endemias,

- I. O exercício de atividades de vigilância, prevenção e controle de doenças e promoção da saúde, desenvolvidas em conformidade com as diretrizes do SUS e sob supervisão do gestor de cada ente federado.
- II. A promoção de ações de educação para a saúde individual e coletiva.
- III. O registro, para fins exclusivos de controle e planejamento das ações de saúde, de nascimentos, óbitos, doenças e outros agravos à saúde.

verifica-se que está(ão) correta(s)

- A) I, apenas.
- B) III, apenas.
- C) I e II, apenas.
- D) II e III, apenas.
- E) I, II e III.

QUESTÃO 40

No modelo biomédico, são “Os que agem na origem das doenças”, são os causadores das doenças (ou patógenos). No modelo processual, são “fatores que perturbam o ser diretamente em suas funções vitais produzindo a doença”. No modelo sistêmico, o conceito extrapola o clássico, onde pode ser não só um micro-organismo, mas um poluente químico, um gene, e outros elementos que possam levar a agravo à saúde. (Pereira, S. D., 2007)

O texto apresenta a definição de

- A) vetores.
- B) reservatório.
- C) hospedeiros.
- D) fonte de infecção.
- E) agentes etiológicos.