



# MUNICÍPIO DE FEIRA GRANDE - AL

CONCURSO PÚBLICO 2014

PROVA TIPO

2

Cargo (Nível Médio – NM):


Código: 27

**DIGITADOR**

Prova de Português, Raciocínio Lógico e  
Conhecimentos Específicos

## CADERNO DE QUESTÕES

### INSTRUÇÕES GERAIS

1. Este **Caderno de Questões** somente deverá ser aberto quando for autorizado pelo Fiscal.
2. Antes de iniciar a prova, confira se o tipo da prova do Caderno de Questões é o mesmo da etiqueta da banca e da Folha de Respostas de questões objetivas.
3. Ao ser autorizado o início da prova, verifique se a numeração das questões e a paginação estão corretas. Verifique também se contém **40 (quarenta)** questões objetivas com 5 (cinco) alternativas cada. Caso contrário, comunique imediatamente ao Fiscal.
4. O tempo disponível para esta prova é de **2 horas e 30 minutos**. Faça-a com tranquilidade, mas **controle seu tempo**. Esse **tempo** inclui a marcação da **Folha de Respostas** de questões objetivas.
5. Você somente poderá sair em definitivo do Local de Prova depois de decorridas **2 horas** do início da aplicação.
6. Na Folha de Respostas de questões objetivas, confira seu nome, número do seu documento de identificação, tipo de prova e cargo escolhido.
7. Em hipótese alguma lhe será concedida outra **Folha de Respostas** de questões objetivas.
8. Preencha a **Folha de Respostas** de questões objetivas utilizando caneta esferográfica de tinta azul ou preta. Na **Folha de Respostas** de questões objetivas, preencha completamente o círculo correspondente à alternativa escolhida, conforme modelo:  

9. Será atribuído o valor ZERO à questão que contenha na **Folha de Respostas** de questões objetivas: dupla marcação, marcação rasurada, emendada ou com "X", não preenchida totalmente ou que não tenha sido transcrita.
10. A correção da prova objetiva será efetuada de forma eletrônica, considerando-se apenas o conteúdo da **Folha de Respostas** de questões objetivas.
11. Caso a Comissão julgue uma questão como sendo nula, os pontos serão atribuídos a todos os candidatos.
12. Não será permitida qualquer espécie de consulta.
13. Ao terminar a prova, **devolva** ao **Fiscal** de Sala este **Caderno de Questões**, juntamente com a **Folha de Respostas** de questões objetivas, e **assine a Lista de Presença**.
14. Na sala que apresentar apenas 1 (um) Fiscal, os 3 (três) últimos candidatos somente poderão ausentar-se da sala juntos, após a **assinatura** da **Ata de Encerramento** de provas.
15. **Assine** neste Caderno de Questões e **coloque** o número do seu documento de identificação (RG, CNH etc.).

Boa Prova!

N. do doc. de identificação (RG, CNH etc.):

Assinatura do(a) candidato(a):

MUNICÍPIO DE  
FEIRA GRANDE  
2014





## PORTUGUÊS

A questão 1 refere-se ao texto abaixo.

Conheci que Madalena era boa em demasia, mas não conheci tudo de uma vez. Ela se revelou pouco a pouco, e nunca se revelou inteiramente, a culpa foi minha, ou antes, a culpa foi desta vida agreste, que me deu uma alma agreste. [...]

Emoções indefiníveis me agitam – inquietação terrível, desejo doido de voltar, tagarelar novamente com Madalena, como fazíamos todos os dias a esta hora. Saudade? Não, não é isto: é desespero, raiva, um peso enorme no coração.

RAMOS, Graciliano. *São Bernardo*. São Paulo: Record, 2003.

1. Observando os elementos que compõem a tessitura textual, o texto acima é

- A) um relato.
- B) uma crônica.
- C) uma instrução.
- D) uma descrição.
- E) uma narrativa.

A questão 2 refere-se ao texto abaixo.

**Não ponha os medicamentos ao volante.**

Leia no folheto dos seus medicamentos se estes afectam a sua capacidade de condução. Se for o caso, passe o volante a outro.

**PAZ NA ESTRADA**  
Plano Nacional de Prevenção Rodoviária  
O PLANO PARA SALVAR VIDAS.

informed  
Plano Nacional de Prevenção Rodoviária

Disponível em: <<http://www.ithm2012.wordpress.com>>. Acesso em: 09 maio 2014.

2. No texto da publicidade, qual a função da linguagem predominante?

- A) Metalinguística.
- B) Referencial.
- C) Expressiva.
- D) Conativa.
- E) Fática.

3. No enunciado “Colocar um **neófito** em uma posição de liderança o levará a ser tentado pelo orgulho.”, o vocábulo “neófito” equivale a

- A) principiante.
- B) experiente.
- C) político.
- D) cético.
- E) ateu.

A questão 4 refere-se ao texto abaixo.



Disponível em: <<http://www.sugestaodeatividades.blogspot.com>>. Acesso em: 12 maio 2014.

4. A colocação pronominal, conforme a norma padrão, é:

- A) “Abrace, beije”, pois esses verbos não admitem pronominalização.
- B) “Me abraçe e me beije”, para regularizar a norma social da próclise.
- C) “Nunca me deixe”, pois o advérbio *nunca* é um atrator da próclise.
- D) “Me deixe nunca”, pois o verbo tem de vir antes do advérbio.
- E) “Nunca o deixe”, já que é discurso direto.

A questão 5 refere-se ao texto abaixo.

Tudo é vivo e tudo fala, em redor de nós, **embora com vida e voz que não são humanas**, mas que podemos apreender e escutar, porque muitas vezes essa linguagem secreta ajuda a esclarecer o nosso próprio mistério. Como aquele Sultão Mamude, que entendia a fala dos pássaros, podemos aplicar toda nossa sensibilidade a esse aparente vazio de solidão: e pouco a pouco nos sentiremos enriquecidos.

MEIRELES, Cecília. *Escolha o seu sonho*. São Paulo: Record, 1998.

5. No texto, a oração destacada é

- A) subordinada substantiva objetiva direta.
- B) subordinada adverbial consecutiva.
- C) subordinada adverbial concessiva.
- D) coordenada conclusiva.
- E) coordenada explicativa.

A questão 6 refere-se ao texto abaixo.

**Tudo** no mundo começou com um sim. Uma molécula disse sim a outra molécula e nasceu a vida. Mas antes da pré-história havia a pré-história da pré-história e havia o nunca e havia o sim. Sempre houve. Não sei o quê, mas sei que o universo jamais começou.

LISPECTOR, Clarice. *A Hora da Estrela*. São Paulo: Rocco, 1998.

6. No texto, o elemento coesivo destacado (Tudo), estabelece uma relação de referência

- A) catafórica, pois o pressuposto localiza-se na situação comunicativa.
- B) exofórica, pois o termo pressuposto localiza-se na situação comunicativa.
- C) anafórica, pois o termo pressuposto ocorre antes do item coesivo.
- D) catafórica, pois o termo pressuposto ocorre depois do item coesivo.
- E) anafórica, pois o termo pressuposto ocorre depois do item coesivo.

A questão 7 refere-se à tirinha abaixo.



Disponível em: <<http://www.bacafa.blogspot.com>>. Acesso em: 12 maio 2014.

7. Na tirinha de Mafalda, o termo “tão”, no 4º balão, exerce a função sintática de

- A) aposto.
- B) objeto direto.
- C) adjunto adnominal.
- D) complemento nominal.
- E) adjunto adverbial de intensidade.

A questão 8 refere-se ao texto abaixo.

**DOCE DE IOGURTE**

**Rende: 6 porções**

**Tempo de preparo: 15 min**

**Ingredientes:**

- ▶ 2 caixas de gelatina sabor uva
- ▶ 2 copos de iogurte natural

**Modo de fazer:**

- Prepare a gelatina de acordo com as instruções da embalagem e leve à geladeira por 2 horas, ou até endurecer ligeiramente.
- Transfira para o liquidificador, junte o iogurte e bata, até obter uma mistura homogênea. Coloque em taças individuais e leve à geladeira por mais 1 hora antes de servir.

Disponível em: <<http://www.docescomreceitas.blogspot.com>>. Acesso em: 11 maio 2014.

8. O texto é essencialmente

- A) instrucional.
- B) dissertativo.
- C) narrativo.
- D) preditivo.
- E) dialogal.

A questão 9 refere-se ao texto abaixo.

As curiosas criaturas marinhas bioluminescentes – **que emitem luz naturalmente, a partir de processos químicos** – representam um desafio para os cientistas que tentam estudá-las. Habitando a centenas de metros de profundidade, elas são difíceis de coletar e não conseguem sobreviver na superfície. Ainda assim, os neurobiólogos consideram a análise desses bichos, em especial de águas-vivas e lulas, essencial para compreender melhor a atividade cerebral humana [...]

ISTOÉ. São Paulo: Ed. Três, nº 2317, 23 abr. 2014.

9. Assinale a alternativa que corresponde à correta classificação do que foi destacado no texto.

- A) Oração coordenada sindética explicativa.
- B) Oração subordinada adjetiva explicativa.
- C) Oração subordinada adjetiva restritiva.
- D) Expressão explicativa.
- E) Aposto.

A questão 10 refere-se ao texto abaixo.

Existem passos que se podem dar para reduzir a distância entre o que os departamentos de Tecnologia da Informação têm que fazer e o que os funcionários querem fazer. E essas medidas podem aumentar a atratividade da área de TI na sua empresa para futuros empregados, e ainda elevar o seu desempenho e valor para o negócio. [...]

Disponível em: <<http://www.computerworld.com.pt/>>. Acesso em: 18 jun. 2014.

10. Assinale a alternativa que apresenta a correta substituição do verbo “existir” em: “**Existem** passos que se podem dar[...]” por uma forma verbal correspondente, atentando-se para o que prescreve a norma culta da língua.

- A) Podem haver passos que se podem dar [...]
- B) Devem haver passos que se podem dar [...]
- C) Deve haver passos que se podem dar [...]
- D) Deve ter passos que se podem dar [...]
- E) Havia passos que se podem dar [...]

A questão 11 refere-se ao texto abaixo.

Quando os caminhões paravam em alguma casa de comércio e nós fazíamos grupos de longe para olhar, Geraldo ficava na frente fazendo palhaçadas para nos provocar. [...]

VEIGA, José J. A usina atrás do morro. BOSI, Alfredo (org.). *O conto brasileiro contemporâneo*. São Paulo: Cultrix, 2002, p. 81.

11. A vírgula, utilizada no texto, indica que há

- A) elipse de um termo.
- B) inversão na ordem direta de um período.
- C) acréscimo de informação ao termo ao qual se refere.
- D) um termo usado para fazer referência ao interlocutor.
- E) enumeração de características da personagem Geraldo.



A questão 12 refere-se ao título abaixo.

### Como se comportar à mesa

Superinteressante, São Paulo, maio 2014.

12. No que concerne ao emprego do sinal indicativo de crase no título, procede dizer que é

- A) um caso especial, a fim de evitar duplo sentido.
- B) um nome geográfico; por isso, o emprego é obrigatório.
- C) um caso opcional, diante de pronome possessivo feminino.
- D) um emprego obrigatório, uma vez que o verbo exige preposição.
- E) um emprego obrigatório, uma vez que há uma locução adverbial de forma feminina.

A questão 13 refere-se à tirinha abaixo.



Disponível em: <<http://cageos.files.wordpress.com/>>. Acesso em: 12 maio 2014.

13. Considere o pronome demonstrativo “este”, que aparece nos quadrinhos, e assinale a alternativa correta.

- A) Nesse contexto, poderá ser utilizado tanto o pronome demonstrativo “este” como “esse”, sem prejuízos semânticos ou sem transgredir a linguagem normativa.
- B) No espaço, o pronome “este” indica aquilo que está longe tanto da pessoa que fala quanto da pessoa que ouve.
- C) O pronome “este” expressa uma questão temporal: tempo presente, atual, em relação ao momento da fala.
- D) O pronome “este” remete a noção de espaço, indicando aquilo que está perto de quem fala.
- E) O pronome “este” indica, no texto em que se encontra, algo que já foi dito anteriormente.

14. Dadas as frases,

- I. A justiça vai decidir **se** os prisioneiros devem ser libertados ou **se** serão reconduzidos ao presídio de segurança máxima.
- II. Naquela época, ainda nem **se** sonhava com esse movimento libertário: o feminismo.
- III. Meu amigo, **se** quiser viajar pelo mundo comigo, arrume sua mala e venha.
- IV. De vez em quando a gente **se** esbarra pelos corredores da universidade.

a partícula “se”, em destaque, exerce a função de conjunção em apenas

- A) III e IV.
- B) II e IV.
- C) II e III.
- D) I e IV.
- E) I e III.

15. Dadas as frases,

- I. **O** que primeiro terminar a prova, receberá uma recompensa.
- II. Não podemos aceitar tudo **o** que nossos antecessores fizeram.
- III. São loucos **os** que agem desta maneira.

os vocábulos “o”/“os” exercem a função de

- A) pronome demonstrativo.
- B) pronome indefinido.
- C) pronome relativo.
- D) numeral.
- E) artigo.

## RACIOCÍNIO LÓGICO

RASCUNHOS

A questão 16 refere-se ao texto abaixo.

Uma equipe de fórmula 1 avaliou o consumo dos seus dois carros de corrida durante três voltas ( $v_1$ ,  $v_2$  e  $v_3$ ) em um mesmo circuito. Para cada volta foi estabelecida uma velocidade constante e aos pilotos coube realizar o mesmo caminho. A avaliação medida para as três voltas de cada um dos carros é apresentada na tabela abaixo.

Volta	Consumo (km/L)	
	Carro 1	Carro 2
$v_1$	20,3	20,6
$v_2$	20,7	21,6
$v_3$	21,2	19,8

16. Dadas as afirmativas abaixo,

- I. O consumo médio do carro 1 foi de 20,73 km/L, aproximadamente.
- II. O maior consumo em uma volta foi de 21,6 km/L.
- III. O menor consumo em uma volta foi de 20,3 km/L.

verifica-se que está(ão) correta(s)

- A) I, II e III.
- B) II e III, apenas.
- C) I e II, apenas.
- D) III, apenas.
- E) I, apenas.

17. O juiz de futebol marcou uma falta e com um spray branco definiu três pontos distintos (A, B e C) em cima de uma reta traçada a partir da posição da falta (ponto A), passando pela posição da barreira (ponto B) e terminando na posição do goleiro (ponto C). Se considerarmos essa reta como um eixo real e representarmos por  $\overline{XY}$  o segmento de reta cujos extremos são os pontos X e Y, então

- A)  $\overline{AC} \cap \overline{BC} = \overline{AC}$ .
- B)  $\overline{AC} \cup \overline{BC} = \overline{BC}$ .
- C)  $\overline{AB} \cup \overline{BC} = \overline{AB}$ .
- D)  $\overline{AB} \cap \overline{AC} = \{A\}$ .
- E)  $\overline{AB} \cap \overline{BC} = \{B\}$ .

18. Considere as proposições:

- I.  $(P \wedge \sim Q) \leftrightarrow (\sim P \vee R)$
- II.  $(P \rightarrow \sim Q) \leftrightarrow ((P \vee R) \wedge Q)$
- III.  $((P \wedge Q) \rightarrow R) \rightarrow (P \rightarrow (Q \rightarrow R))$

Se os valores lógicos das proposições P, Q e R são Falso, Falso e Verdadeiro, respectivamente, então os valores lógicos das proposições I, II e III são, respectivamente,

- A) Falso, Verdadeiro, Verdadeiro.
- B) Falso, Falso, Verdadeiro.
- C) Verdadeiro, Falso, Falso.
- D) Falso, Verdadeiro, Falso.
- E) Falso, Falso, Falso.

RASCUNHOS

19. Se A representa o conjunto de torcedores do ASA que moram em Arapiraca e B o conjunto da população de Alagoas, então podemos afirmar que  $A \cup B = B$ . Nessas condições, temos que

- A)  $A \cap B = B$ .
- B)  $B \subset A$ .
- C)  $A = \emptyset$ .
- D)  $A = B$ .
- E)  $A \subset B$ .

20. Se aplicarmos as Leis de Idempotente, De Morgan e Comutativa às proposições  $P \wedge P$ ,  $\sim (P \wedge Q)$  e  $P \wedge Q$ , obteremos, respectivamente,

- A)  $\sim P$ ,  $\sim P \vee \sim Q$  e  $\sim P \wedge \sim Q$ .
- B)  $P$ ,  $\sim P \wedge Q$  e  $\sim P \wedge \sim Q$ .
- C)  $\sim P$ ,  $\sim P \wedge \sim Q$  e  $Q \wedge P$ .
- D)  $P$ ,  $\sim P \vee \sim Q$  e  $Q \wedge P$ .
- E)  $P$ ,  $\sim P \wedge \sim Q$  e  $Q \wedge P$ .

21. O código de barras de identificação dos equipamentos de uma empresa é formado por uma sequência de 3 barras de 2,5 mm e 4 barras de 1,0 mm. Se cada sequência identifica um único equipamento, quantos equipamentos diferentes podem ser identificados?

- A) 35.
- B) 32.
- C) 30.
- D) 12.
- E) 11.

22. Duas cidades do interior de Alagoas possuem juntas 60 mil habitantes. Uma dessas cidades possui 10 mil habitantes a mais que um quarto da população da outra cidade. Nessas condições, é correto afirmar que

- A) uma das cidades tem 25 mil habitantes.
- B) as duas cidades têm menos de 35 habitantes.
- C) as duas cidades têm mais de 25 mil habitantes.
- D) uma das cidades tem menos de 20 mil habitantes.
- E) uma das cidades possui o dobro de habitantes da outra.

23. Devido à falta de chuva na região Sudeste, o governo prometeu aumentos na conta da energia elétrica de 20% para o segundo semestre e 30% para o próximo ano, cada um deles aplicado de uma só vez. Se o preço pago atualmente pelo Watt é P, o preço a ser pago no final do próximo ano será

- A) 1,56P.
- B) 1,52P.
- C) 1,50P.
- D) 0,56P.
- E) 0,50P.

24. Quantas linhas de telefone celular são identificadas por uma sequência de 8 dígitos, com os 4 primeiros distintos entre si e não nulos?

- A)  $6521 \times 10^8$
- B)  $6521 \times 10^4$
- C)  $3024 \times 10^4$
- D)  $32 \times 10^8$
- E)  $4 \times 10^4$

25. Uma Cooperativa de Leite de Alagoas identifica cada caixa de leite do tipo integral com uma sequência de três letras seguida por três algarismos e cada caixa de leite desnatado com uma sequência de três letras seguida de quatro algarismos. As caixas de leite são identificadas pelas letras CLA e pelos algarismos 1, 2, 3, 4, 5, 6, 7, 8. Sabe-se, também, que as caixas são identificadas sem a repetição de letras e algarismos e a identificação nunca é repetida. Quantas caixas de leite a Cooperativa pode identificar com esse sistema?

- A) 12 096
- B) 10 080
- C) 8 064
- D) 4 032
- E) 2 016

RASCUNHOS

## CONHECIMENTOS ESPECÍFICOS

26. Assinale a alternativa que contempla exclusivamente opções contidas na barra de menu EXIBIÇÃO do Microsoft Word 2007.

- A) Layout de Impressão, Margens e Colunas.
- B) Zoom, Tabelas e Gráfico.
- C) Localizar, Substituir e Alterar Estilos.
- D) Quebra de Página, Clip-art e Cabeçalho.
- E) Régua, Zoom e Layout de impressão.

27. No Microsoft Word 2007, as teclas de atalho ALT+F4 e ALT+F5 permitem, respectivamente,

- A) ocultar a régua e abrir a tela de impressão.
- B) fechar o layout de impressão e abrir tela de impressão.
- C) fechar a janela ativa e ocultar a barra de rolagem.
- D) fechar a janela ativa e restaurar o tamanho da janela.
- E) fechar o layout de impressão e abrir a tela dos símbolos.

28. Por padrão, um navegador não pode executar

- A) a linguagem de marcação HTML e a folha de estilos CSS.
- B) uma varredura para detecção de vírus no computador.
- C) o protocolo FTP (File Transfer Protocol).
- D) leitura de arquivos de imagem com extensões .cdr e .jpg.
- E) os protocolos HTTP (Hypertext Transfer Protocol) e HTTPS (Hypertext Transfer Protocol Secure).

29. Para selecionar mais de um ícone da área de trabalho, de maneira aleatória e não sequencial, basta

- A) clicar duas vezes com o botão direito do mouse em cada ícone.
- B) pressionar a tecla CTRL e clicar com o botão esquerdo do mouse, sucessivamente, nos ícones.
- C) pressionar as teclas CTRL e ALT e clicar com o botão direito do mouse em cada ícone.
- D) clicar uma vez com o botão esquerdo do mouse em cada ícone, pressionando a tecla SHIFT.
- E) pressionar a tecla ALT e clicar com o botão esquerdo do mouse, sucessivamente, nos ícones.

30. Dadas as afirmativas,

- I. No Windows XP, arquivos e pastas não podem ser salvos com identificadores que contenham os caracteres \*, /, \, | e ?.
- II. O Windows XP é multitarefa e monousuário.
- III. Os nomes de arquivos no Windows XP podem ter mais de 255 caracteres.

verifica-se que está(ão) correta(s)

- A) I, II e III.
- B) II e III, apenas.
- C) III, apenas.
- D) II, apenas.
- E) I, apenas.



31. São possíveis mídias para efetuar um backup, exceto

- A) DVD-RW.
- B) Pendrive.
- C) Disco Rígido.
- D) Memória RAM.
- E) Blu-Ray.

32. Dos aplicativos abaixo,

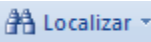
- I. Chrome.
- II. Android.
- III. Safari.
- IV. Firefox.

qual(is) é(são) navegador(s) da internet?

- A) I, II, III e IV.
- B) I, III e IV, apenas.
- C) I, II e IV, apenas.
- D) III, apenas.
- E) II, apenas.

33. Das ações abaixo,

- I. Localizar uma figura e substituí-la por uma palavra.
- II. Localizar e substituir uma palavra, fazendo distinção entre maiúsculas e minúsculas.
- III. Ir direto para um número de linha específica no texto.

qual(is) pode(m) ser realizada(s) através do botão  Localizar do Microsoft Word 2007?

- A) I, apenas.
- B) II, apenas.
- C) III, apenas.
- D) II e III, apenas.
- E) I, II e III.

34. No aplicativo para efetuar backups do Windows XP, é possível efetuar apenas os seguintes tipos de backups:

- A) Normal, Cópia, Incremental e Diferencial.
- B) Normal, Cópia, Incremental, Diferencial e Diário.
- C) Normal, Cópia, Incremental, Diferencial, Diário e Semanal.
- D) Normal, Cópia, Incremental, Diferencial, Diário, Semanal e Mensal.
- E) Normal, Incremental e Diário.

35. Digitando-se o atalho CTRL+SHIFT+& no Microsoft Excel 2007,

- A) insere-se a hora atual na célula selecionada.
- B) copia-se o formato da célula para área de transferência.
- C) aplica-se o formato dd/mm/aaaa na data.
- D) copia-se o conteúdo da célula selecionada para área de transferência.
- E) aplica-se contorno à célula selecionada.

36. A figura abaixo apresenta uma planilha eletrônica do Microsoft Excel 2007.

	A	B	C	D	E
1	Cliente A	R\$ 300,00			
2	Cliente B	R\$ 45,00			
3	Cliente C	R\$ 76,00			
4	Cliente D	R\$ 456,00			
5	Cliente E	R\$ 123,00			
6	Total:				

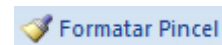
Dadas as afirmativas,

- I. Se na célula B6 for inserido =SOMA(B1;B5), o conteúdo dessa célula passará a ser R\$ 1.000,00.
- II. Se na célula B6 for inserido =MÉDIA(B1;B2), o conteúdo dessa célula passará a ser R\$ 172,50.
- III. Se na célula B6 for inserido =MÁXIMO(B1;B5), o conteúdo dessa célula passará a ser R\$ 300,00.

verifica-se que está(ão) correta(s)

- A) I, II e III.
- B) II e III, apenas.
- C) I e II, apenas.
- D) III, apenas.
- E) I, apenas.

37. A figura abaixo apresenta a ferramenta Formatar pincel do Microsoft Word 2007.



Dadas as afirmativas sobre essa ferramenta,

- I. Ela está contida, por padrão, na barra de menu INÍCIO.
- II. Ela serve para copiar a formatação de um local e aplicá-la a outro.
- III. Ela serve para formatar a cor de fundo do texto selecionado.

verifica-se que está(ao) correta(s)

- A) II, apenas.
- B) III, apenas.
- C) I e II, apenas.
- D) I e III, apenas.
- E) I, II e III.

38. Dadas as afirmativas a respeito do uso de tabelas no Microsoft Word 2007,

- I. O atalho TAB + F4 exclui uma linha dentro de uma tabela.
- II. O atalho SHIFT + TAB posiciona o cursor na célula anterior, considerando a tabela percorrida pelas linhas.
- III. Com o cursor posicionado na última célula, a tecla TAB adiciona uma nova linha à tabela

verifica-se que está(ão) correta(s)

- A) I, apenas.
- B) II, apenas.
- C) I e III, apenas.
- D) II e III, apenas.
- E) I, II e III.

39. Dados os atalhos abaixo,

- I. CTRL + F.
- II. CTRL + D.
- III. CTRL + SHIFT + F.
- IV. CTRL + SHIFT + P.

no Microsoft Word 2007, qual(is) abre(m) a tela de formatação da fonte?

- A) I, II, III e IV.
- B) II, III e IV, apenas.
- C) I e III, apenas.
- D) I e II, apenas.
- E) IV, apenas.

40. No Word 2007, que teclas de atalhos são capazes de centralizar um texto selecionado e converter as suas letras para o formato maiúsculas, respectivamente?

- A) ALT+C, CTRL+SHIFT+M.
- B) CTRL+SHIFT+C, CTRL+M.
- C) CTRL+SHIFT+C, CTRL+A.
- D) CTRL+E, CTRL+SHIFT+A.
- E) CTRL+F, SHIFT+M.