



# Concurso Público Município de Roteiro

PROVA TIPO

1


Cargo (**Nível Médio – NM**):

**25. MOTORISTA**

Provas de Português, Raciocínio Lógico  
e Conhecimentos Específicos

## CADERNO DE QUESTÕES

### INSTRUÇÕES GERAIS

1. Este **Caderno de Questões** somente deverá ser aberto quando for autorizado pelo **Fiscal**.
2. Antes de iniciar a prova, confira se o tipo da prova do **Caderno de Questões** é o mesmo da etiqueta da banca e da **Folha de Respostas** de questões objetivas.
3. Ao ser autorizado o início da prova, verifique se a numeração das questões e a paginação estão corretas. Verifique, também, se contém **40 (quarenta)** questões objetivas com 5 (cinco) alternativas cada. Caso contrário, comunique imediatamente ao Fiscal.
4. O tempo disponível para esta prova é de **4 horas**. Faça-a com tranquilidade, mas **controle seu tempo**. Esse **tempo** inclui a marcação da **Folha de Respostas** de questões objetivas.
5. Você somente poderá sair em definitivo do Local de Prova depois de decorridas **2 horas** do início da aplicação.
6. Na **Folha de Respostas** de questões objetivas, confira seu nome, número do seu documento de identificação, tipo de prova e cargo escolhido.
7. Em hipótese alguma lhe será concedida outra **Folha de Respostas** de questões objetivas.
8. Preencha a **Folha de Respostas** de questões objetivas utilizando caneta esferográfica de tinta azul ou preta. Na **Folha de Respostas** de questões objetivas, preencha completamente o círculo correspondente à alternativa escolhida, conforme o modelo:  

9. Será atribuído o valor ZERO à questão que contenha na **Folha de Respostas** de questões objetivas: dupla marcação, marcação rasurada, emendada ou com "X", não preenchida totalmente ou que não tenha sido transcrita.
10. A correção da prova objetiva será efetuada de forma eletrônica, considerando-se apenas o conteúdo da **Folha de Respostas** de questões objetivas.
11. Caso a Comissão julgue uma questão como sendo nula, os pontos serão atribuídos a todos os candidatos.
12. Não será permitida qualquer espécie de consulta.
13. Ao terminar a prova, **devolva** ao **Fiscal de Sala** este **Caderno de Questões**, juntamente com a **Folha de Respostas** de questões objetivas, e **assine a Lista de Presença**.
14. Na sala que apresentar apenas 1 (um) Fiscal, os 3 (três) últimos candidatos somente poderão ausentar-se da sala juntos, após a **assinatura da Ata de Encerramento** de provas.
15. **Assine** neste **Caderno de Questões** e **coloque** o número do seu documento de identificação (RG, CNH etc.).

Boa Prova!

N. do doc. de identificação (RG, CNH etc.):

Assinatura do(a) candidato(a):

MUNICÍPIO  
DE ROTEIRO

Edital n° 01/2017



## PORTUGUÊS

### QUESTÃO 01

A presença algodoeira no Nordeste é antiga. Os indígenas alagoanos dominavam a produção dessa planta, mesmo antes do descobrimento do Brasil e, com ela, fabricavam redes, cordas e panos para vestimentas.

CARVALHO, Cícero Péricles de. *Formação histórica de Alagoas*. Maceió: Edufal, 2016. p. 210.

Pelas características do texto, qual a função predominante?

- A) Fática.
- B) Poética.
- C) Emotiva.
- D) Referencial.
- E) Metalinguística.

### QUESTÃO 02

#### A um poeta

Olavo Bilac

Longe do estéril turbilhão da rua,  
Beneditino escreve! No aconchego  
Do claustro, na paciência e no sossego,  
Trabalha, e teima, e lima, e sofre, e sua!  
[...]

BILAC, Olavo. In: CANDIDO, Antonio. *Presença da literatura brasileira*. São Paulo: Difel, 1966. p. 256.

Os trechos sublinhados nos versos indicam que a atividade do escritor

- A) refaz a vida nas ruas a partir da clausura.
- B) é árdua e se compõe dos rumores da vida.
- C) encontra no turbilhão da rua a sua matéria.
- D) elabora-se no recolhimento e na ausência dos rumores.
- E) é uma fusão perfeita entre a quietude e o turbilhão da rua.

### QUESTÃO 03

#### Maninha

Chico Buarque

Se lembra da fogueira.  
se lembra dos balões.  
se lembra dos luazes dos sertões.  
A roupa no varal, feriado nacional,  
as estrelas salpicadas nas canções.  
Se lembra quando toda modinha falava de amor.  
Pois nunca mais cantei, maninha,  
depois que ele chegou.  
[...]

Disponível em: <<https://www.lettras.com.br/chico-buarque/maninha>>. Acesso em: 10 nov. 2017.

Em que aspecto o autor – em nome da liberdade poética – provoca um desvio da norma culta?

- A) Regência do verbo “lembrar”.
- B) Início do 7º verso por conjunção.
- C) Posição proclítica do pronome “se”.
- D) Ponto final nos dois primeiros versos.
- E) Separação com vírgulas do termo “maninha”.

### QUESTÃO 04

#### Mãos dadas

Carlos Drummond de Andrade

Não serei o poeta de um mundo caduco.  
Também não cantarei o mundo futuro.  
Estou preso à vida e olho meus companheiros.  
Estão taciturnos mas nutrem grandes esperanças  
Entre eles, considero a enorme realidade.  
O presente é tão grande, não nos afastemos.  
Não nos afastemos muito, vamos de mãos dadas.  
[...]

ANDRADE, Carlos Drummond de. *Sentimento do mundo*. Rio de Janeiro: Record, 2005. p. 39.

Segundo os versos, é correto afirmar que o trabalho poético está associado

- A) à vida presente e ao engajamento à realidade.
- B) às reminiscências e às revelações da memória.
- C) ao mundo que pode ser revelado a partir da imaginação.
- D) à possibilidade de cantar o futuro, embora preso ao mundo presente.
- E) à busca por atos do cotidiano, os quais se estabelecem desde o mundo pretérito.

### QUESTÃO 05

Andavam devagar, olhando para trás, como quem quer voltar.  
Não tinham pressa em chegar, porque não sabiam aonde iam.  
Expulsos de seu paraíso por espadas de fogo, iam ao acaso, em descaminhos, no arrastão dos maus fados.

Fugiam do sol e o sol guiava-os nesse forçado nomadismo.

Adelgaçados na magreira cômica, cresciam, como se o vento os levantasse. E os braços afinados desciam-lhes aos joelhos, de mãos abanando.

[...]

Não tinham sexo, nem idade, nem condição nenhuma. Eram os retirantes, nada mais.

ALMEIDA, J. Américo de. *A bagaceira*. Rio de Janeiro: J. Olympio, 1978. p. 43.

Em relação ao texto, chega-se à conclusão de que

- A) se trata de indivíduos expulsos de sua terra, que vagam em direção a lugares amenos.
- B) o nomadismo não se dava a partir do desejo dos retirantes, mas pela crueldade do fenômeno climático que os compelia a vagar à toa.
- C) o autor retrata uma paisagem pitoresca, baseada em cenas remotas e destituídas de relação com fenômenos climáticos regionalizados.
- D) a verossimilhança do texto se estabelece num tempo longínquo e esquecido na memória afetiva do homem sertanejo nordestino.
- E) as imagens expressas pelos indivíduos simbolizam um universo paralelo ao fenômeno climático, posto que aquilo que se evidencia é a expulsão social e econômica dos retirantes.

### QUESTÃO 06

Sobre esses índios assombrados com o que lhes sucedia é que caiu a pregação missionária, como um flagelo. A cristandade surgia a seus olhos como o mundo do pecado, das enfermidades dolorosas e mortais, de covardia, que se adonava do mundo indígena, tudo maculando, tudo apodrecendo.

RIBEIRO, Darcy. *O povo brasileiro*. São Paulo: Companhia das Letras, 1995. p. 43.

Que sentido no texto o autor atribui à palavra “cristandade”?

- A) Um flagelo que se abateu sobre os valores indígenas e se apossou de seu mundo.
- B) Era necessário salvar as almas de seus infortúnios, do mundo do pecado e das enfermidades.
- C) O conceito do paganismo indígena se alinhava às ideias cristãs relacionadas ao processo de colonização.
- D) A decadência dos valores primitivos de uma nação deveria encontrar na pregação religiosa um caminho, uma forma de vida menos bárbara.
- E) Na exuberância de um mundo hostil e sem religião, o lenimento ao pecado e às enfermidades dolorosas era a pregação missionária.

### QUESTÃO 07



Charge de Nunes Lima, publicada na Gazeta de Alagoas nos anos 80.

Sobre a charge, é correto afirmar:

- A) a constituição texto e imagem resulta na ausência de intertextualidade.
- B) a mensagem é fundamentada na inexistência de elementos básicos da narração.
- C) a tese contida na fala do personagem está dissociada do conjunto de imagens.
- D) a expressão verbal é monológica, pois se refere a uma reflexão individual do personagem.
- E) apesar de pictórico, o conjunto expressivo se estrutura nos principais elementos da narrativa: personagem, fala, espaço e enredo.

### QUESTÃO 08

Minha mãe agradeceu-lhe a amizade que me tinha, e ele respondeu com muita polidez, ainda que um tanto atado, como se carecesse de palavra pronta. Já viste não era assim, a palavra obedecia-lhe, mas o homem não é sempre o mesmo em todos os instantes. O que ele disse foi que me estimava pelas minhas qualidades e aprimorada educação; no seminário todos me queriam bem, nem podia deixar de ser assim.

ASSIS, Machado de. *Dom Casmuro*. Rio de Janeiro: Ediouro, 1997. p. 173.

Quanto aos aspectos da estrutura gramatical do texto, assinale a alternativa correta.

- A) O pronome **lhe** em “agradeceu-lhe” e “obedecia-lhe” apresenta a mesma classificação sintática.
- B) O trecho “que me estimava” poderia também ser escrito “que estimava-me” sem violar a norma culta.
- C) O uso da vírgula em “que me tinha, e ele respondeu” está incorreto.
- D) A expressão “de palavra pronta” é complemento nominal.
- E) O **me** em “que me tinha” é objeto direto.

### QUESTÃO 09

Não sei se disse que isto se passava em casa de uma baronesa, que tinha a modista ao pé de si, para não andar atrás dela. Chegou a costureira, pegou do pano, pegou da agulha, pegou da linha e entrou a coser.

ASSIS, Machado de. *Várias histórias*. São Paulo: Ática, 1997. p. 106.

Assinale a alternativa correta quanto aos aspectos gramaticais do texto.

- A) A oração “se disse” é um complemento nominal.
- B) Os complementos do verbo **pegar** são objetos indiretos.
- C) A expressão **a costureira** em “Chegou a costureira” é objeto direto.
- D) O **se** em “que isto se passava” deveria estar na posição enclítica.
- E) O pronome **que** em “que tinha a modista ao pé de si” exerce função sintática de sujeito.

### QUESTÃO 10

A gravidez da mulher jovem não é um problema exclusivo do nosso tempo. Isto era um fato comum e cotidiano: nossas avós casavam-se aos 15 ou 16 anos e começavam a procriar, nunca ocorrendo a ninguém daquela época que isso pudesse ser um problema, pois essas gestações eram desejadas. O que se tem constituído em preocupação é isso: o crescente número de gestações indesejadas na adolescência.

VITELLO, Nelson. *Pais & teens*, ano 2, n. 3 (adaptado).

Assinale a alternativa cujo fragmento extraído do texto apresenta um desvio da norma culta da língua quanto ao uso dos pronomes demonstrativos.

- A) “O que se tem constituído em preocupação é isso: o crescente número...”
- B) “Isto era um fato comum e cotidiano: nossas avós...”
- C) “pois essas gestações eram desejadas”
- D) “ocorrendo a ninguém daquela época”
- E) “que isso pudesse ser um problema”

### QUESTÃO 11

Pessoas que \_\_\_\_\_ a cabeça erguida mesmo em situações difíceis \_\_\_\_\_ uma peculiaridade: \_\_\_\_\_-se ativas até nas crises. Esse tipo de pessoa \_\_\_\_\_ de uma dignidade independente das circunstâncias externas e, muitas vezes, \_\_\_\_\_ a capacidade de encarar o fracasso como oportunidade.

SCHONBURG, Alexander. *Rico sem dinheiro*. São Paulo: Gente, 2007. p. 55.

Qual das opções preenche adequadamente as lacunas do texto?

- A) mantém; tem; mantêm; dispõe; têm
- B) mantem; tem; mantem; dispõe; têm
- C) mantêm; têm; mantêm; dispõe; tem
- D) mantêm; têm; mantém; dispõem; tem
- E) mantém; têm; mantém; dispõem; tem

### QUESTÃO 12

A um arranco mais forte, a alça de trás rebentou-se, o vaqueiro meteu as mãos pela borracha energicamente. Nada conseguindo, levantou-se resolvido a entrar na rua assim mesmo [...] A carne comprimiu-se, os ossos estalaram, rasgou-se a meia molhada e o pé amarrotado se encaixou entre as paredes da vaqueta. Fabiano soltou um suspiro largo de satisfação e dor. Em seguida tentou prender o colarinho duro no pescoço, mas os dedos trêmulos não realizaram a tarefa. Sinha Vitória auxiliou-o: o botão entrou na casa estreita e a gravata foi amarrada.

RAMOS, Graciliano. *Vidas secas*. Rio de Janeiro: Record, 2003. p. 73.

Dados os fragmentos do texto,

- I. "levantou-se resolvido a entrar na rua assim mesmo"
- II. "A carne comprimiu-se"
- III. "rasgou-se a meia molhada"
- IV. "e a gravata foi amarrada"

verifica-se que a voz passiva está presente apenas em

- A) I e II.
- B) I e III.
- C) II e IV.
- D) I, III e IV.
- E) II, III e IV.

### QUESTÃO 13

Não, senhora, não se enganou, disse afinal com um tom frio e inflexível. Vendi me; pertencço lhe. A senhora teve o mau gosto de comprar um marido aviltado; aqui o tem como desejou. Podia ter feito de um caráter, talvez gasto pela educação, um homem de bem, que se enobrece com sua afeição; preferiu um escravo branco; estava em seu direito, pagava generosamente. Tem aqui esse escravo; é seu marido, porém nada mais do que seu marido.

ALENCAR, José de. *Senhora*. São Paulo: Saraiva, 2007. p. 75.

Dos termos sublinhados, qual se classifica como objeto indireto?

- A) me
- B) lhe
- C) senhora
- D) esse escravo
- E) um marido aviltado

### QUESTÃO 14

Vai então, empacou o jumento em que eu vinha montado; fustiguei-o, ele deu dois corcovos, depois mais três, enfim mais um, que me sacudiu fora da sela, e com tal desastre, que o pé esquerdo me ficou preso no estribo; tento agarrar-me ao ventre do animal, mas já então, espantado, disparou pela estrada a fora.

ASSIS, Machado de. *Memórias póstumas de Brás Cubas*. São Paulo: Ateliê Editorial, 2001. p. 109.

Em qual das alternativas o trecho entre parênteses apresenta discordância de sentido em relação ao original?

- A) "fustiguei-o, ele deu dois corcovos" (açoitei-o, ele deu dois corcovos).
- B) "tento agarrar-me ao ventre do animal" (tento não me desprender do ventre do animal).
- C) "mas já então, espantado, disparou pela estrada a fora" (todavia então, atônito, desembestou estrada a fora).
- D) "Vai então, empacou o jumento em que eu vinha montado" (vinha montado, vai então, que o jumento paralisou).
- E) "depois mais três, enfim mais um, que me sacudiu fora da sela" (depois mais três, mais um, então me conteve fora da sela).

### QUESTÃO 15

No dia seguinte, quinta-feira pela manhã, fizemos vela e seguimos a terra, mantendo os navios pequenos diante, por dezessete, dezesseis, quinze, catorze, doze, dez e nove braças, até meia légua de terra, onde todos nós lançamos as âncoras defronte a boca do rio. Completou-se a ancoragem mais ou menos as dez horas.

CASTRO, Sílvio. *A carta de Pero Vaz de Caminha*. Porto Alegre: L&PM, 1996. p. 76.

Quanto aos fragmentos sublinhados, assinale a alternativa cuja sequência representa o uso correto do acento indicador de crase.

- A) a terra; as âncoras; à boca do rio; a ancoragem; às dez horas.
- B) à terra; as âncoras; à boca do rio; à ancoragem; as dez horas.
- C) a terra; às âncoras; a boca do rio; a ancoragem; às dez horas.
- D) à terra; as âncoras; a boca do rio; à ancoragem; as dez horas.
- E) a terra; às âncoras; à boca do rio; a ancoragem; às dez horas.

## RACIOCÍNIO LÓGICO

### QUESTÃO 16

Para controlar o consumo de água de sua residência, uma dona de casa estimou as quantidades de água utilizadas nas lavagens dos utensílios utilizados no café da manhã, tendo obtido os dados apresentados na tabela.

Utensílio	Quantidade de água (mL)
Colher	120
Faca	200
Garfo	190
Pires	250
Prato	310
Xícara	420

Considerando esses dados, numa ocasião em que foram lavados três colheres, duas facas, três garfos, três pires, dois pratos e três xícaras, o consumo de água foi de

- A) 1,49 L.
- B) 2,54 L.
- C) 3,96 L.
- D) 1 490 L.
- E) 3 960 L.

### QUESTÃO 17

#### Cap.II. Funções Lineares, Função Modular e Função Piso

[...]

Definição:

A Função Piso, que denotamos por  $[[x]]$ , é definida por:  $[[x]] =$  maior inteiro menor ou igual a  $x$ .

Disponível em: <[http://www.uff.br/webmat/Calc1\\_LivroOnLine/Cap02\\_Calc1.html](http://www.uff.br/webmat/Calc1_LivroOnLine/Cap02_Calc1.html)>. Acesso em: 25 out. 2017.

Dadas as igualdades, no contexto do texto,

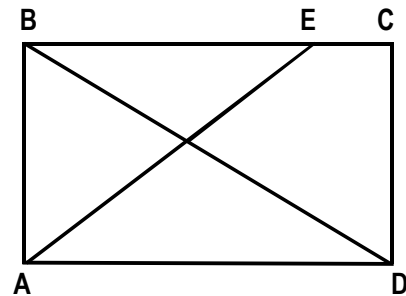
- I.  $[[2]] = 2$ .
- II.  $[[3,1]] = 3$ .
- III.  $[[ -1,5]] = -1$ .

verifica-se que é(são) verdadeira(s)

- A) I, apenas.
- B) III, apenas.
- C) I e II, apenas.
- D) II e III, apenas.
- E) I, II e III.

### QUESTÃO 18

A figura, desenhada sem escala, apresenta o projeto de uma praça retangular com 30 m de largura (AB) e 40 m de comprimento (AD), tendo dois passeios BD e AE, para circulação de pedestres, com E situado a 10 m de C.



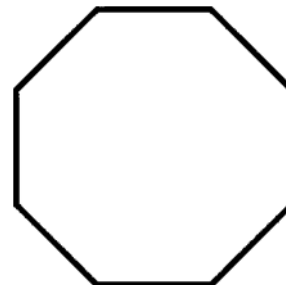
Se desprezarmos as larguras das calçadas e dos passeios e adotarmos  $\sqrt{2} = 1,4$ , qual é, em metros, o comprimento do passeio AE?

- A) 40
- B) 42
- C) 50
- D) 52
- E) 60

### QUESTÃO 19

#### O que é octógono?

Octógono, em geometria, é um polígono com oito lados, com oito ângulos internos e oito ângulos externos. Um octógono regular tem todos os lados de mesmo tamanho e todos os ângulos com a mesma medida, sendo utilizado, por exemplo, como formato dos ringues das lutas de UFC (*Ultimate Fighting Championship*).



Disponível em: <<https://www.significados.com.br/octogono/>>. Acesso em: 06 ago. 2017 (adaptado).

Aplicando-se os princípios de contagem, infere-se que o número de diagonais de um octógono regular é igual a

- A) 20.
- B) 28.
- C) 32.
- D) 56.
- E) 64.

### QUESTÃO 20

A política de uma empresa de entrega de correspondências estabelece que as cartas são entregues na mesma ordem em que elas foram postadas. Quantos metros, a partir da primeira entrega, andará o carteiro para entregar as cartas das casas de números 10, 70, 30, 50, 40 e 80 (ordenação de postagem) de uma rua cuja numeração das casas é ordenada (10, 20, 30, ...), se a distância entre duas casas vizinhas é de quinze metros?

- A) 45 m
- B) 105 m
- C) 170 m
- D) 255 m
- E) 280 m

### QUESTÃO 21

Cada salto de algumas modalidades de disputa dos saltos ornamentais do campeonato mundial de esportes aquáticos de 2017 era avaliado por sete juízes, sendo descartadas as duas maiores e as duas menores notas. A nota atribuída ao salto era o produto da soma das três notas consideradas pelo grau de dificuldade do salto. Se a tabela apresenta as notas atribuídas pelos juízes aos saltos dos três atletas que ganharam medalhas numa certa modalidade e os graus de dificuldade respectivos,

Atletas	Notas							Grau de dificuldade
	Juiz 1	Juiz 2	Juiz 3	Juiz 4	Juiz 5	Juiz 6	Juiz 7	
A	7,5	8,0	6,5	7,5	7,0	8,0	7,5	3,2
B	8,0	7,0	6,5	8,0	7,5	7,0	6,5	3,4
C	8,0	8,5	9,0	8,5	7,5	9,0	8,0	3,0

os medalhistas de ouro, prata e bronze foram, respectivamente, os atletas

- A) A, B e C.
- B) A, C e B.
- C) B, C e A.
- D) C, A e B.
- E) C, B e A.

### QUESTÃO 22

#### REGRAS OFICIAIS DO VOLEIBOL

[...]

#### 6.2 PARA VENCER UM SET

Vencerá um set, exceto o 5º set, a equipe que primeiro alcançar a marca de 25 pontos, com uma diferença mínima de 2 pontos.

[...]

#### 7.4 POSIÇÕES

As posições dos jogadores em quadra são numeradas da seguinte forma: três jogadores ao longo da extensão da rede formam a linha de frente e ocupam as posições 4 (frente-esquerda), 3 (frente central) e 2 (frente-direita) e os três restantes formam a linha de trás, ocupando as posições 5 (traseira esquerda), 6 (traseira central) e 1 (traseira direita).

[...]

#### 7.6 ROTAÇÃO

A ordem de rotação é determinada pela formação inicial da equipe e controlada através da ordem de saque e posição dos jogadores durante todo o set. Quando a equipe receptora do saque ganha um ponto (*recupera a bola*), os jogadores avançam uma posição no sentido dos ponteiros do relógio: jogador na posição 2 avança para a posição 1 para sacar, jogador da 1 retorna para a posição 6 e assim por diante.

[...]

Disponível em: <<http://2017.cbv.com.br/pdf/regulamento/quadra/RegrasOficiaisdeVoleibol-2015-2016.pdf>>. Acesso em: 19 jun. 2017.

Após fazer o primeiro ponto do primeiro set de uma partida de voleibol, a equipe que começou sacando somente conseguiu fazer outros pontos (um de cada vez) após a outra equipe conseguir três pontos consecutivos. Dadas as afirmativas a respeito desse contexto,

- I. O placar do set foi 25 x 9.
- II. O jogador que efetuou o primeiro saque terminou o set na posição 5.
- III. O último jogador da equipe vencedora a sacar foi o que iniciou o set na posição 4.

verifica-se que está(ão) correta(s)


- A) I, II e III.
- B) I e III, apenas.
- C) I e II, apenas.
- D) III, apenas.
- E) II, apenas.

**QUESTÃO 23**

**A quadra de tênis e suas medidas**

[...]

O tênis é jogado em uma superfície plana retangular, geralmente de grama, saibro ou em piso duro. A quadra tem 23,78 m de comprimento, e 8,23 m de largura para partidas de simples, e 10,97 m para partidas de duplas, como mostra a figura.



Dadas as afirmativas sobre essas dimensões,

- I. A razão entre o comprimento da quadra para partidas de simples e a largura para partidas de simples é menor que a razão entre o comprimento da quadra para partidas de duplas e a largura para partidas de duplas.
- II. A razão entre as áreas da quadra para partidas de duplas e para partidas de simples é igual à razão entre as larguras da quadra para partidas de duplas e para partidas de simples.
- III. A razão entre as diagonais da quadra para partidas de duplas e para partidas de simples é igual à razão entre os comprimentos da quadra para partidas de duplas e para partidas de simples.

verifica-se que está(ão) correta(s)

- A) I, apenas.
- B) II, apenas.
- C) I e III, apenas.
- D) II e III, apenas.
- E) I, II e III.

**QUESTÃO 24**

Dadas as proposições quantificadas,

- I.  $\forall x \in \mathbb{R}$ , se  $x < -2$ , então  $x^2 > 4$ .
- II.  $\forall x \in \mathbb{Z}$ , se  $x$  é par, então  $x$  não é primo.
- III.  $\exists x \in \mathbb{R}$  tal que  $x^3 < 0$ .
- IV.  $\exists x \in \mathbb{Z}$  tal que  $x^2 + 1 = 0$ .

verifica-se que são verdadeiras apenas

- A) II, III e IV.
- B) I, II e IV.
- C) II e III.
- D) I e IV.
- E) I e III.

**QUESTÃO 25**

Dadas as afirmativas a respeito de divisibilidade de inteiros,

- I. Um inteiro cuja classe das unidades simples é 369 é divisível por 3.
- II. Um inteiro cuja classe das unidades simples é 148 é múltiplo de 4.
- III. Um inteiro cuja casa das unidades simples é 700 é divisível por 100.

verifica-se que está(ão) correta(s)

- A) I, apenas.
- B) III, apenas.
- C) I e II, apenas.
- D) II e III, apenas.
- E) I, II e III.



## CONHECIMENTOS ESPECÍFICOS

### QUESTÃO 26

Qual medida deverá ser adotada em caso de princípio de incêndio em veículos?

- A) Se o fogo não puder ser controlado, isole o local e não abandone o veículo.
- B) Estacionar em local seguro e fechado, não retirando a chave do contato, caso precise sair do local.
- C) Posicionar-se a favor do vento e aproximar-se do foco de incêndio de forma progressiva e cautelosa.
- D) Existindo objetos inflamáveis dentro do veículo, como isopor, garrafas pet, não há necessidade de retirá-los.
- E) É aconselhável que o condutor tente apagar de imediato o fogo quando houver vazamento de combustível juntamente com as labaredas.

### QUESTÃO 27

O trânsito seguro é exaltado pela direção defensiva. Qual alternativa está relacionada à condição adversa do motorista?

- A) Neblina intensa.
- B) Pista escorregadia.
- C) Embriaguez ao volante.
- D) Farol alto durante a noite.
- E) Veículo sem condições de uso.

### QUESTÃO 28

Dadas as condutas sobre o comportamento adequado ao motorista,

- I. Obedecer à sinalização e respeitar as regras de trânsito.
- II. Ultrapassar pelo acostamento.
- III. Respeitar e valorizar os outros motoristas.

verifica-se que está(ão) correta(s) apenas

- A) I.
- B) III.
- C) I e II.
- D) I e III.
- E) II e III.

### QUESTÃO 29

Dadas as afirmativas referentes ao óleo de motor do veículo,

- I. É recomendado pelo fabricante quanto ao período, tipo e quantidade de lubrificante.
- II. O filtro de óleo deverá ser substituído, periodicamente, conforme recomendação.
- III. O veículo deve estar em superfície plana para verificar o nível do óleo.

verifica-se que está(ão) correta(s)

- A) I, II e III.
- B) II e III, apenas.
- C) I e II, apenas.
- D) III, apenas.
- E) I, apenas.

### QUESTÃO 30

Qual a parte fundamental do sistema de suspensão?

- A) Embreagem.
- B) Tubo de escape.
- C) Barra estabilizadora.
- D) Pinhão e cremalheira.
- E) Juntas homocinéticas e coifas.

### QUESTÃO 31

Dona Francisca, ao levar sua mãe idosa ao médico, observou que não havia vaga no estacionamento próximo. A aproximadamente 50 (cinquenta) metros dali, viu que existia um ponto de ônibus e desejou parar para desembarcar a mãe e sair à procura de um local para estacionar o veículo. Naquele ponto havia uma placa.



Diante dessa placa, entende-se que

- A) é permitido estacionar, desde que esteja com o cartão do idoso.
- B) é permitido apenas parar para desembarque.
- C) é permitido parar e estacionar.
- D) não há permissão alguma.
- E) é permitido estacionar.






### QUESTÃO 32

Qual das alternativas apresenta uma infração leve?

- A) Ter seu veículo imobilizado na via por falta de combustível.
- B) Atirar do veículo ou abandonar na via objetos ou substâncias.
- C) Dirigir sem atenção ou sem os cuidados indispensáveis à segurança.
- D) Usar o veículo para arremessar, sobre os pedestres ou veículos, água ou detritos.
- E) Dirigir ameaçando os pedestres que estejam atravessando a via pública, ou os demais veículos.

### QUESTÃO 33

A sinalização de trânsito é a forma pela qual se regula, adverte, orienta, informa e controla a circulação de veículos e pedestres nas vias terrestres. Qual das placas adverte o condutor para reduzir a velocidade, usar o freio motor e aumentar a distância de segurança?

- A) 
- B) 
- C) 
- D) 
- E) 



### QUESTÃO 34

Segundo o Código de Trânsito Brasileiro (CTB), assinale a alternativa que apresenta uma infração de natureza média.

- A) Estacionar no cruzamento.
- B) Estacionar na pista de rolamento.
- C) Estacionar nos viadutos, pontes e túneis.
- D) Estacionar a mais de um metro da guia da calçada.
- E) Estacionar em desacordo com as posições estabelecidas nesse código.

### QUESTÃO 35

Qual alternativa faz a correta relação entre a placa de sinalização e a infração que o motorista estará cometendo ao desobedecê-la?

- A)  Gravíssima
- B)  Grave
- C)  Gravíssima
- D)  Média
- E)  Média

### QUESTÃO 36

Dirigir na defensiva implica cuidado e atenção no trânsito. Para isso, o condutor precisa ser conhecedor dos seus deveres. Dadas as afirmativas sobre os deveres do motorista,

- I. Prestar socorro às vítimas de trânsito mesmo em caso de risco de morte.
- II. Conhecer e respeitar todas as regras de trânsito.
- III. Manter o veículo em boas condições de manutenção.

verifica-se que está(ão) correta(s)

- A) I, II e III.
- B) II e III, apenas.
- C) I e III, apenas.
- D) II, apenas.
- E) I, apenas.

### QUESTÃO 37

Em algumas situações, o veículo pode apresentar a direção puxando ou trepidando. De acordo com essa ocorrência, dado o quadro,

DIREÇÃO PUXANDO OU TREPIDANDO		
ITEM	PROVÁVEL CAUSA	SOLUÇÃO
I.	Pneus	Calibrar
II.	Amortecedores	Substituir
III.	Óleo do motor	Completar ou trocar
IV.	Barro seco nas rodas	Limpar
V.	Lonas e pastilhas	Serviço profissional

verifica-se que estão corretos apenas os itens

- A) III e V.
- B) I, II e III.
- C) I, II e IV.
- D) I, III e IV
- E) II, IV e V.

### QUESTÃO 38

Em diversos tipos de acidentes nas vias, há necessidade de acionamento de socorro profissional. Dadas as afirmativas,

- I. Em casos de acidentes que resultem em um cabo de energia partido, deverá ser acionada a concessionária de energia.
- II. Nos acidentes com vítimas humanas, o corpo de bombeiros deverá ser acionado.
- III. Para sanar derramamento de produtos tóxicos, poderá ser acionado o corpo de bombeiros.

verifica-se que está(ão) correta(s) apenas

- A) II e III.
- B) I e III.
- C) I e II.
- D) II.
- E) I.

### QUESTÃO 39

Os equipamentos de proteção do veículo são imprescindíveis. Qual equipamento pode ser dispensado sem ocasionar risco ao usuário do trânsito?

- A) Airbag.
- B) Buzina.
- C) Estepe.
- D) Som equipado.
- E) Espelhos retrovisores.

### QUESTÃO 40

Para transitar com segurança e sem perigo, os freios do automóvel devem estar em perfeita condição. Dadas as afirmativas referentes aos cuidados que o motorista deve ter com os freios,

- I. Conferir o estado das lonas de freio e pastilhas, substituindo-os sempre que necessário.
- II. O nível do reservatório do fluido de freio jamais deve ser completado.
- III. Não utilizar fluido de freio de recipientes lacrados, pois ele necessita da umidade e deve ser reaproveitado.

verifica-se que está(ão) correta(s) apenas

- A) II e III.
- B) I e III.
- C) I e II.
- D) III.
- E) I.



## ATENÇÃO!

O candidato está **proibido** de **destacar** esta folha com o **gabarito**, sob pena de **eliminação** do processo. Somente o **Fiscal de Sala** está autorizado a fazer isso no momento da saída do candidato em definitivo do Local de Prova.

## Gabarito do Candidato

1	2	3	4	5	6	7	8	9	10	11	12	13	14	15	16	17	18	19	20	
21	22	23	24	25	26	27	28	29	30	31	32	33	34	35	36	37	38	39	40	

## EDITAL Nº 01/2017 – Município de Roteiro/AL

7.1. A COPEVE/UFAL divulgará o gabarito preliminar, juntamente com as Provas Objetivas, no endereço eletrônico: [www.copeve.ufal.br](http://www.copeve.ufal.br), na data provável de **26/12/2017**, a partir das 21h00.

## GABARITO OFICIAL

[www.copeve.ufal.br](http://www.copeve.ufal.br)

## REALIZAÇÃO



[www.ufal.edu.br](http://www.ufal.edu.br)



*Você confia no resultado!*

[www.copeve.ufal.br](http://www.copeve.ufal.br)



[www.fundepes.br](http://www.fundepes.br)



Município de Roteiro - Alagoas