



# Concurso Público Município de Roteiro

PROVA TIPO

2


Cargo (**Nível Médio – NM**):

**22. AUXILIAR DE SAÚDE BUCAL**

Provas de Português, Raciocínio Lógico  
e Conhecimentos Específicos

## CADERNO DE QUESTÕES

### INSTRUÇÕES GERAIS

1. Este **Caderno de Questões** somente deverá ser aberto quando for autorizado pelo **Fiscal**.
2. Antes de iniciar a prova, confira se o tipo da prova do **Caderno de Questões** é o mesmo da etiqueta da banca e da **Folha de Respostas** de questões objetivas.
3. Ao ser autorizado o início da prova, verifique se a numeração das questões e a paginação estão corretas. Verifique, também, se contém **40 (quarenta)** questões objetivas com 5 (cinco) alternativas cada. Caso contrário, comunique imediatamente ao Fiscal.
4. O tempo disponível para esta prova é de **4 horas**. Faça-a com tranquilidade, mas **controle seu tempo**. Esse **tempo** inclui a marcação da **Folha de Respostas** de questões objetivas.
5. Você somente poderá sair em definitivo do Local de Prova depois de decorridas **2 horas** do início da aplicação.
6. Na **Folha de Respostas** de questões objetivas, confira seu nome, número do seu documento de identificação, tipo de prova e cargo escolhido.
7. Em hipótese alguma lhe será concedida outra **Folha de Respostas** de questões objetivas.
8. Preencha a **Folha de Respostas** de questões objetivas utilizando caneta esferográfica de tinta azul ou preta. Na **Folha de Respostas** de questões objetivas, preencha completamente o círculo correspondente à alternativa escolhida, conforme o modelo:  

9. Será atribuído o valor ZERO à questão que contenha na **Folha de Respostas** de questões objetivas: dupla marcação, marcação rasurada, emendada ou com "X", não preenchida totalmente ou que não tenha sido transcrita.
10. A correção da prova objetiva será efetuada de forma eletrônica, considerando-se apenas o conteúdo da **Folha de Respostas** de questões objetivas.
11. Caso a Comissão julgue uma questão como sendo nula, os pontos serão atribuídos a todos os candidatos.
12. Não será permitida qualquer espécie de consulta.
13. Ao terminar a prova, **devolva** ao **Fiscal de Sala** este **Caderno de Questões**, juntamente com a **Folha de Respostas** de questões objetivas, e **assine a Lista de Presença**.
14. Na sala que apresentar apenas 1 (um) Fiscal, os 3 (três) últimos candidatos somente poderão ausentar-se da sala juntos, após a **assinatura da Ata de Encerramento** de provas.
15. **Assine** neste **Caderno de Questões** e **coloque** o número do seu documento de identificação (RG, CNH etc.).

Boa Prova!

N. do doc. de identificação (RG, CNH etc.):

Assinatura do(a) candidato(a):

MUNICÍPIO  
DE ROTEIRO

Edital n° 01/2017



## PORTUGUÊS

### QUESTÃO 01

A presença algodoeira no Nordeste é antiga. Os indígenas alagoanos dominavam a produção dessa planta, mesmo antes do descobrimento do Brasil e, com ela, fabricavam redes, cordas e panos para vestimentas.

CARVALHO, Cícero Péricles de. *Formação histórica de Alagoas*. Maceió: Edufal, 2016. p. 210.

Pelas características do texto, qual a função predominante?

- A) Metalinguística.
- B) Referencial.
- C) Emotiva.
- D) Poética.
- E) Fática.

### QUESTÃO 02

#### A um poeta

Olavo Bilac

Longe do estéril turbilhão da rua,  
Beneditino escreve! No aconchego  
Do claustro, na paciência e no sossego,  
Trabalha, e teima, e lima, e sofre, e sua!  
[...]

BILAC, Olavo. In: CANDIDO, Antonio. *Presença da literatura brasileira*. São Paulo: Difel, 1966. p. 256.

Os trechos sublinhados nos versos indicam que a atividade do escritor

- A) é uma fusão perfeita entre a quietude e o turbilhão da rua.
- B) elabora-se no recolhimento e na ausência dos rumores.
- C) encontra no turbilhão da rua a sua matéria.
- D) é árdua e se compõe dos rumores da vida.
- E) refaz a vida nas ruas a partir da clausura.

### QUESTÃO 03

#### Maninha

Chico Buarque

Se lembra da fogueira.  
se lembra dos balões.  
se lembra dos luanes dos sertões.  
A roupa no varal, feriado nacional,  
as estrelas salpicadas nas canções.  
Se lembra quando toda modinha falava de amor.  
Pois nunca mais cantei, maninha,  
depois que ele chegou.  
[...]

Disponível em: <<https://www.lettras.com.br/chico-buarque/maninha>>. Acesso em: 10 nov. 2017.

Em que aspecto o autor – em nome da liberdade poética – provoca um desvio da norma culta?

- A) Separação com vírgulas do termo “maninha”.
- B) Ponto final nos dois primeiros versos.
- C) Posição proclítica do pronome “se”.
- D) Início do 7º verso por conjunção.
- E) Regência do verbo “lembrar”.

### QUESTÃO 04

#### Mãos dadas

Carlos Drummond de Andrade

Não serei o poeta de um mundo caduco.  
Também não cantarei o mundo futuro.  
Estou preso à vida e olho meus companheiros.  
Estão taciturnos mas nutrem grandes esperanças  
Entre eles, considero a enorme realidade.  
O presente é tão grande, não nos afastemos.  
Não nos afastemos muito, vamos de mãos dadas.

[...]

ANDRADE, Carlos Drummond de. *Sentimento do mundo*. Rio de Janeiro: Record, 2005. p. 39.

Segundo os versos, é correto afirmar que o trabalho poético está associado

- A) à busca por atos do cotidiano, os quais se estabelecem desde o mundo pretérito.
- B) à possibilidade de cantar o futuro, embora preso ao mundo presente.
- C) ao mundo que pode ser revelado a partir da imaginação.
- D) às reminiscências e às revelações da memória.
- E) à vida presente e ao engajamento à realidade.

### QUESTÃO 05

Andavam devagar, olhando para trás, como quem quer voltar.  
Não tinham pressa em chegar, porque não sabiam aonde iam.  
Expulsos de seu paraíso por espadas de fogo, iam ao acaso, em descaminhos, no arrastão dos maus fados.

Fugiam do sol e o sol guiava-os nesse forçado nomadismo.

Adelgaçados na magreira cômica, cresciam, como se o vento os levantasse. E os braços afinados desciam-lhes aos joelhos, de mãos abanando.

[...]

Não tinham sexo, nem idade, nem condição nenhuma. Eram os retirantes, nada mais.

ALMEIDA, J. Américo de. *A bagaceira*. Rio de Janeiro: J. Olympio, 1978. p. 43.

Em relação ao texto, chega-se à conclusão de que

- A) as imagens expressas pelos indivíduos simbolizam um universo paralelo ao fenômeno climático, posto que aquilo que se evidencia é a expulsão social e econômica dos retirantes.
- B) a verossimilhança do texto se estabelece num tempo longínquo e esquecido na memória afetiva do homem sertanejo nordestino.
- C) o autor retrata uma paisagem pitoresca, baseada em cenas remotas e destituídas de relação com fenômenos climáticos regionalizados.
- D) o nomadismo não se dava a partir do desejo dos retirantes, mas pela crueldade do fenômeno climático que os compelia a vagar à toa.
- E) se trata de indivíduos expulsos de sua terra, que vagam em direção a lugares amenos.

### QUESTÃO 06

Sobre esses índios assombrados com o que lhes sucedia é que caiu a pregação missionária, como um flagelo. A cristandade surgia a seus olhos como o mundo do pecado, das enfermidades dolorosas e mortais, de covardia, que se adonava do mundo indígena, tudo maculando, tudo apodrecendo.

RIBEIRO, Darcy. *O povo brasileiro*. São Paulo: Companhia das Letras, 1995. p. 43.

Que sentido no texto o autor atribui à palavra “cristandade”?

- A) Na exuberância de um mundo hostil e sem religião, o lenimento ao pecado e às enfermidades dolorosas era a pregação missionária.
- B) A decadência dos valores primitivos de uma nação deveria encontrar na pregação religiosa um caminho, uma forma de vida menos bárbara.
- C) O conceito do paganismo indígena se alinhava às ideias cristãs relacionadas ao processo de colonização.
- D) Era necessário salvar as almas de seus infortúnios, do mundo do pecado e das enfermidades.
- E) Um flagelo que se abateu sobre os valores indígenas e se apossou de seu mundo.

### QUESTÃO 07



Charge de Nunes Lima, publicada na Gazeta de Alagoas nos anos 80.

Sobre a charge, é correto afirmar:

- A) apesar de pictórico, o conjunto expressivo se estrutura nos principais elementos da narrativa: personagem, fala, espaço e enredo.
- B) a expressão verbal é monológica, pois se refere a uma reflexão individual do personagem.
- C) a tese contida na fala do personagem está dissociada do conjunto de imagens.
- D) a mensagem é fundamentada na inexistência de elementos básicos da narração.
- E) a constituição texto e imagem resulta na ausência de intertextualidade.

### QUESTÃO 08

Minha mãe agradeceu-lhe a amizade que me tinha, e ele respondeu com muita polidez, ainda que um tanto atado, como se carecesse de palavra pronta. Já viste não era assim, a palavra obedecia-lhe, mas o homem não é sempre o mesmo em todos os instantes. O que ele disse foi que me estimava pelas minhas qualidades e aprimorada educação; no seminário todos me queriam bem, nem podia deixar de ser assim.

ASSIS, Machado de. *Dom Casimiro*. Rio de Janeiro: Ediouro, 1997. p. 173.

Quanto aos aspectos da estrutura gramatical do texto, assinale a alternativa correta.

- A) O **me** em “que me tinha” é objeto direto.
- B) A expressão “de palavra pronta” é complemento nominal.
- C) O uso da vírgula em “que me tinha, e ele respondeu” está incorreto.
- D) O trecho “que me estimava” poderia também ser escrito “que estimava-me” sem violar a norma culta.
- E) O pronome **lhe** em “agradeceu-lhe” e “obedecia-lhe” apresenta a mesma classificação sintática.

### QUESTÃO 09

Não sei se disse que isto se passava em casa de uma baronesa, que tinha a modista ao pé de si, para não andar atrás dela. Chegou a costureira, pegou do pano, pegou da agulha, pegou da linha e entrou a coser.

ASSIS, Machado de. *Várias histórias*. São Paulo: Ática, 1997. p. 106.

Assinale a alternativa correta quanto aos aspectos gramaticais do texto.

- A) O pronome **que** em “que tinha a modista ao pé de si” exerce função sintática de sujeito.
- B) O **se** em “que isto se passava” deveria estar na posição enclítica.
- C) A expressão **a costureira** em “Chegou a costureira” é objeto direto.
- D) Os complementos do verbo **pegar** são objetos indiretos.
- E) A oração “se disse” é um complemento nominal.

### QUESTÃO 10

A gravidez da mulher jovem não é um problema exclusivo do nosso tempo. Isto era um fato comum e cotidiano: nossas avós casavam-se aos 15 ou 16 anos e começavam a procriar, nunca ocorrendo a ninguém daquela época que isso pudesse ser um problema, pois essas gestações eram desejadas. O que se tem constituído em preocupação é isso: o crescente número de gestações indesejadas na adolescência.

VITELLO, Nelson. *Pais & teens*, ano 2, n. 3 (adaptado).

Assinale a alternativa cujo fragmento extraído do texto apresenta um desvio da norma culta da língua quanto ao uso dos pronomes demonstrativos.

- A) “que isso pudesse ser um problema”
- B) “ocorrendo a ninguém daquela época”
- C) “pois essas gestações eram desejadas”
- D) “Isto era um fato comum e cotidiano: nossas avós...”
- E) “O que se tem constituído em preocupação é isso: o crescente número...”

### QUESTÃO 11

Pessoas que \_\_\_\_\_ a cabeça erguida mesmo em situações difíceis \_\_\_\_\_ uma peculiaridade: \_\_\_\_\_-se ativas até nas crises. Esse tipo de pessoa \_\_\_\_\_ de uma dignidade independente das circunstâncias externas e, muitas vezes, \_\_\_\_\_ a capacidade de encarar o fracasso como oportunidade.

SCHONBURG, Alexander. *Rico sem dinheiro*. São Paulo: Gente, 2007. p. 55.

Qual das opções preenche adequadamente as lacunas do texto?

- A) mantém; têm; mantém; dispõem; tem
- B) mantêm; têm; mantêm; dispõem; tem
- C) mantêm; têm; mantêm; dispõe; tem
- D) mantem; tem; mantem; dispõe; têm
- E) mantém; tem; mantêm; dispõe; têm

### QUESTÃO 12

A um arranco mais forte, a alça de trás rebentou-se, o vaqueiro meteu as mãos pela borracha energicamente. Nada conseguindo, levantou-se resolvido a entrar na rua assim mesmo [...] A carne comprimiu-se, os ossos estalaram, rasgou-se a meia molhada e o pé amarrotado se encaixou entre as paredes da vaqueta. Fabiano soltou um suspiro largo de satisfação e dor. Em seguida tentou prender o colarinho duro no pescoço, mas os dedos trêmulos não realizaram a tarefa. Sinha Vitória auxiliou-o: o botão entrou na casa estreita e a gravata foi amarrada.

RAMOS, Graciliano. *Vidas secas*. Rio de Janeiro: Record, 2003. p. 73.

Dados os fragmentos do texto,

- I. "levantou-se resolvido a entrar na rua assim mesmo"
- II. "A carne comprimiu-se"
- III. "rasgou-se a meia molhada"
- IV. "e a gravata foi amarrada"

verifica-se que a voz passiva está presente apenas em

- A) II, III e IV.
- B) I, III e IV.
- C) II e IV.
- D) I e III.
- E) I e II.

### QUESTÃO 13

Não, senhora, não se enganou, disse afinal com um tom frio e inflexível. Vendi me; pertencço lhe. A senhora teve o mau gosto de comprar um marido aviltado; aqui o tem como desejou. Podia ter feito de um caráter, talvez gasto pela educação, um homem de bem, que se enobrece com sua afeição; preferiu um escravo branco; estava em seu direito, pagava generosamente. Tem aqui esse escravo; é seu marido, porém nada mais do que seu marido.

ALENCAR, José de. *Senhora*. São Paulo: Saraiva, 2007. p. 75.

Dos termos sublinhados, qual se classifica como objeto indireto?

- A) um marido aviltado
- B) esse escravo
- C) senhora
- D) lhe
- E) me

### QUESTÃO 14

Vai então, empacou o jumento em que eu vinha montado; fustiguei-o, ele deu dois corcovos, depois mais três, enfim mais um, que me sacudiu fora da sela, e com tal desastre, que o pé esquerdo me ficou preso no estribo; tento agarrar-me ao ventre do animal, mas já então, espantado, disparou pela estrada a fora.

ASSIS, Machado de. *Memórias póstumas de Brás Cubas*. São Paulo: Ateliê Editorial, 2001. p. 109.

Em qual das alternativas o trecho entre parênteses apresenta discordância de sentido em relação ao original?

- A) "depois mais três, enfim mais um, que me sacudiu fora da sela" (depois mais três, mais um, então me conteve fora da sela).
- B) "Vai então, empacou o jumento em que eu vinha montado" (vinha montado, vai então, que o jumento paralisou).
- C) "mas já então, espantado, disparou pela estrada a fora" (todavia então, atônito, desembestou estrada a fora).
- D) "tento agarrar-me ao ventre do animal" (tento não me desprender do ventre do animal).
- E) "fustiguei-o, ele deu dois corcovos" (açoitei-o, ele deu dois corcovos).

### QUESTÃO 15

No dia seguinte, quinta-feira pela manhã, fizemos vela e seguimos a terra, mantendo os navios pequenos diante, por dezessete, dezesseis, quinze, catorze, doze, dez e nove braças, até meia légua de terra, onde todos nós lançamos as âncoras defronte a boca do rio. Completou-se a ancoragem mais ou menos as dez horas.

CASTRO, Sílvio. *A carta de Pero Vaz de Caminha*. Porto Alegre: L&PM, 1996. p. 76.

Quanto aos fragmentos sublinhados, assinale a alternativa cuja sequência representa o uso correto do acento indicador de crase.

- A) a terra; às âncoras; à boca do rio; a ancoragem; às dez horas.
- B) à terra; as âncoras; a boca do rio; à ancoragem; as dez horas.
- C) a terra; às âncoras; a boca do rio; a ancoragem; às dez horas.
- D) à terra; as âncoras; à boca do rio; à ancoragem; as dez horas.
- E) a terra; as âncoras; à boca do rio; a ancoragem; às dez horas.

## RACIOCÍNIO LÓGICO

### QUESTÃO 16

Para controlar o consumo de água de sua residência, uma dona de casa estimou as quantidades de água utilizadas nas lavagens dos utensílios utilizados no café da manhã, tendo obtido os dados apresentados na tabela.

Utensílio	Quantidade de água (mL)
Colher	120
Faca	200
Garfo	190
Pires	250
Prato	310
Xícara	420

Considerando esses dados, numa ocasião em que foram lavados três colheres, duas facas, três garfos, três pires, dois pratos e três xícaras, o consumo de água foi de

- A) 3 960 L.
- B) 1 490 L.
- C) 3,96 L.
- D) 2,54 L.
- E) 1,49 L.

### QUESTÃO 17

#### Cap.II. Funções Lineares, Função Modular e Função Piso

[...]

Definição:

A Função Piso, que denotamos por  $[[x]]$ , é definida por:  $[[x]] =$  maior inteiro menor ou igual a  $x$ .

Disponível em: <[http://www.uff.br/webmat/Calc1\\_LivroOnLine/Cap02\\_Calc1.html](http://www.uff.br/webmat/Calc1_LivroOnLine/Cap02_Calc1.html)>. Acesso em: 25 out. 2017.

Dadas as igualdades, no contexto do texto,

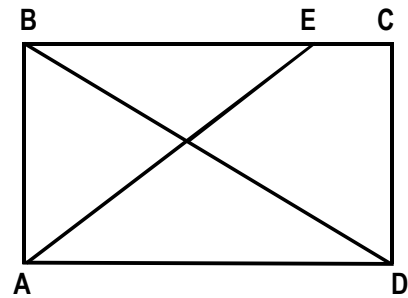
- I.  $[[2]] = 2$ .
- II.  $[[3,1]] = 3$ .
- III.  $[[ -1,5]] = -1$ .

verifica-se que é(são) verdadeira(s)

- A) I, II e III.
- B) II e III, apenas.
- C) I e II, apenas.
- D) III, apenas.
- E) I, apenas.

### QUESTÃO 18

A figura, desenhada sem escala, apresenta o projeto de uma praça retangular com 30 m de largura (AB) e 40 m de comprimento (AD), tendo dois passeios BD e AE, para circulação de pedestres, com E situado a 10 m de C.



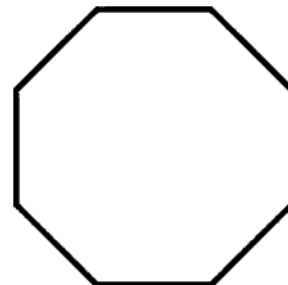
Se desprezarmos as larguras das calçadas e dos passeios e adotarmos  $\sqrt{2} = 1,4$ , qual é, em metros, o comprimento do passeio AE?

- A) 60
- B) 52
- C) 50
- D) 42
- E) 40

### QUESTÃO 19

#### O que é octógono?

Octógono, em geometria, é um polígono com oito lados, com oito ângulos internos e oito ângulos externos. Um octógono regular tem todos os lados de mesmo tamanho e todos os ângulos com a mesma medida, sendo utilizado, por exemplo, como formato dos ringues das lutas de UFC (*Ultimate Fighting Championship*).



Disponível em: <<https://www.significados.com.br/octogono/>>. Acesso em: 06 ago. 2017 (adaptado).

Aplicando-se os princípios de contagem, infere-se que o número de diagonais de um octógono regular é igual a

- A) 64.
- B) 56.
- C) 32.
- D) 28.
- E) 20.

### QUESTÃO 20

A política de uma empresa de entrega de correspondências estabelece que as cartas são entregues na mesma ordem em que elas foram postadas. Quantos metros, a partir da primeira entrega, andará o carteiro para entregar as cartas das casas de números 10, 70, 30, 50, 40 e 80 (ordenação de postagem) de uma rua cuja numeração das casas é ordenada (10, 20, 30, ...), se a distância entre duas casas vizinhas é de quinze metros?

- A) 280 m
- B) 255 m
- C) 170 m
- D) 105 m
- E) 45 m

### QUESTÃO 21

Cada salto de algumas modalidades de disputa dos saltos ornamentais do campeonato mundial de esportes aquáticos de 2017 era avaliado por sete juízes, sendo descartadas as duas maiores e as duas menores notas. A nota atribuída ao salto era o produto da soma das três notas consideradas pelo grau de dificuldade do salto. Se a tabela apresenta as notas atribuídas pelos juízes aos saltos dos três atletas que ganharam medalhas numa certa modalidade e os graus de dificuldade respectivos,

Atletas	Notas							Grau de dificuldade
	Juiz 1	Juiz 2	Juiz 3	Juiz 4	Juiz 5	Juiz 6	Juiz 7	
A	7,5	8,0	6,5	7,5	7,0	8,0	7,5	3,2
B	8,0	7,0	6,5	8,0	7,5	7,0	6,5	3,4
C	8,0	8,5	9,0	8,5	7,5	9,0	8,0	3,0

os medalhistas de ouro, prata e bronze foram, respectivamente, os atletas

- A) C, B e A.
- B) C, A e B.
- C) B, C e A.
- D) A, C e B.
- E) A, B e C.

### QUESTÃO 22

#### REGRAS OFICIAIS DO VOLEIBOL

[...]

#### 6.2 PARA VENCER UM SET

Vencerá um set, exceto o 5º set, a equipe que primeiro alcançar a marca de 25 pontos, com uma diferença mínima de 2 pontos.

[...]

#### 7.4 POSIÇÕES

As posições dos jogadores em quadra são numeradas da seguinte forma: três jogadores ao longo da extensão da rede formam a linha de frente e ocupam as posições 4 (frente-esquerda), 3 (frente central) e 2 (frente-direita) e os três restantes formam a linha de trás, ocupando as posições 5 (traseira esquerda), 6 (traseira central) e 1 (traseira direita).

[...]

#### 7.6 ROTAÇÃO

A ordem de rotação é determinada pela formação inicial da equipe e controlada através da ordem de saque e posição dos jogadores durante todo o set. Quando a equipe receptora do saque ganha um ponto (*recupera a bola*), os jogadores avançam uma posição no sentido dos ponteiros do relógio: jogador na posição 2 avança para a posição 1 para sacar, jogador da 1 retorna para a posição 6 e assim por diante.

[...]

Disponível em: <<http://2017.cbv.com.br/pdf/regulamento/quadra/RegrasOficiaisdeVoleibol-2015-2016.pdf>>. Acesso em: 19 jun. 2017.

Após fazer o primeiro ponto do primeiro set de uma partida de voleibol, a equipe que começou sacando somente conseguiu fazer outros pontos (um de cada vez) após a outra equipe conseguir três pontos consecutivos. Dadas as afirmativas a respeito desse contexto,

- I. O placar do set foi 25 x 9.
- II. O jogador que efetuou o primeiro saque terminou o set na posição 5.
- III. O último jogador da equipe vencedora a sacar foi o que iniciou o set na posição 4.

verifica-se que está(ão) correta(s)


- A) II, apenas.
- B) III, apenas.
- C) I e II, apenas.
- D) I e III, apenas.
- E) I, II e III.

**QUESTÃO 23**

**A quadra de tênis e suas medidas**

[...]

O tênis é jogado em uma superfície plana retangular, geralmente de grama, saibro ou em piso duro. A quadra tem 23,78 m de comprimento, e 8,23 m de largura para partidas de simples, e 10,97 m para partidas de duplas, como mostra a figura.



Dadas as afirmativas sobre essas dimensões,

- I. A razão entre o comprimento da quadra para partidas de simples e a largura para partidas de simples é menor que a razão entre o comprimento da quadra para partidas de duplas e a largura para partidas de duplas.
- II. A razão entre as áreas da quadra para partidas de duplas e para partidas de simples é igual à razão entre as larguras da quadra para partidas de duplas e para partidas de simples.
- III. A razão entre as diagonais da quadra para partidas de duplas e para partidas de simples é igual à razão entre os comprimentos da quadra para partidas de duplas e para partidas de simples.

verifica-se que está(ão) correta(s)

- A) I, II e III.
- B) II e III, apenas.
- C) I e III, apenas.
- D) II, apenas.
- E) I, apenas.

**QUESTÃO 24**

Dadas as proposições quantificadas,

- I.  $\forall x \in \mathbb{R}$ , se  $x < -2$ , então  $x^2 > 4$ .
- II.  $\forall x \in \mathbb{Z}$ , se  $x$  é par, então  $x$  não é primo.
- III.  $\exists x \in \mathbb{R}$  tal que  $x^3 < 0$ .
- IV.  $\exists x \in \mathbb{Z}$  tal que  $x^2 + 1 = 0$ .

verifica-se que são verdadeiras apenas

- A) I e III.
- B) I e IV.
- C) II e III.
- D) I, II e IV.
- E) II, III e IV.

**QUESTÃO 25**

Dadas as afirmativas a respeito de divisibilidade de inteiros,

- I. Um inteiro cuja classe das unidades simples é 369 é divisível por 3.
- II. Um inteiro cuja classe das unidades simples é 148 é múltiplo de 4.
- III. Um inteiro cuja casa das unidades simples é 700 é divisível por 100.

verifica-se que está(ão) correta(s)

- A) I, II e III.
- B) II e III, apenas.
- C) I e II, apenas.
- D) III, apenas.
- E) I, apenas.



## CONHECIMENTOS ESPECÍFICOS

### QUESTÃO 26

Será realizado um procedimento cirúrgico no consultório odontológico denominado de exodontia e o auxiliar de saúde bucal deverá incluir na mesa cirúrgica o instrumental da figura.



Assinale a alternativa que identifica corretamente o referido instrumento.

- A) Pinça porta agulha.
- B) Cureta de Lucas.
- C) Alavanca curva.
- D) Sindesmótomo.
- E) Férceps.

### QUESTÃO 27

A lavagem das mãos é uma atitude indispensável para prevenir a transmissão de micro-organismos durante o atendimento clínico dos pacientes. A pele é um reservatório de micro-organismos e pode ser um meio de contaminação direta (contato pele com pele) ou indireta (contato com objetos e superfícies). Assinale a alternativa que apresenta corretamente o produto e a indicação para a lavagem das mãos.

- A) Água corrente + sabão são indicados para a lavagem das mãos antes de cirurgias extensas, pois removem completamente os micro-organismos das mãos.
- B) Álcool gel 70% é indicado para a lavagem das mãos após o atendimento de cada paciente para a proteção do profissional e dos próximos pacientes que serão atendidos.
- C) Água corrente + sabão são indicados para a lavagem das mãos quando o cirurgião-dentista realizar remoção de sutura do paciente sem luva.
- D) Água corrente + sabão são indicados para a lavagem das mãos quando o cirurgião-dentista realizar moldagem do paciente sem luva.
- E) Álcool gel 70% é indicado para a lavagem das mãos antes da manipulação, sem luvas, de material odontológico.

### QUESTÃO 28

Um paciente chegou ao consultório odontológico e foi diagnosticado com uma cárie profunda no elemento dental 14, atingindo a polpa dental, sendo indicado tratamento de canal. Assim, foi observada a necessidade de realização de isolamento absoluto para prevenir a deglutição de substâncias químicas pelo paciente durante o tratamento.

Diante disso, para montar corretamente a mesa clínica, o auxiliar em saúde bucal precisa selecionar quais instrumentais e materiais para a realização do isolamento absoluto?

- A) Grampos, pinça porta-grampo, alicate de perfuração de lençol de borracha, fio dental, arco e lençol de borracha.
- B) Espátula de inserção de resina composta, cunha de madeira e fita matriz metálica.
- C) Pinça porta agulha, fio de sutura e agulha curta.
- D) Limas endodônticas, tamborel e kit de irrigação.
- E) Porta amálgama, pote dapen e tira de poliéster.

### QUESTÃO 29

O flúor é um agente químico com importante ação preventiva e remineralizadora de lesões de cárie dentária. Assinale a alternativa que relaciona corretamente o veículo de flúor e sua indicação para pacientes abaixo de 6 anos de idade.

- A) Flúor adicionado ao sal de cozinha, para ser ingerido 3 vezes ao dia, nas refeições, para paralisar lesões iniciais de cárie dentária (mancha branca de cárie).
- B) Flúor na forma de solução, para ser ingerido 3 vezes ao dia, para a prevenção de fluorose dentária.
- C) Flúor na forma de verniz, para paralisar lesões iniciais de cárie dentária (mancha branca de cárie).
- D) Flúor na forma de comprimido, para ser ingerido 3 vezes ao dia, para a prevenção de fluorose dentária.
- E) Flúor na forma de solução, para bochecho, 3 vezes ao dia, para a prevenção de fluorose dentária.

### QUESTÃO 30

A confecção adequada de uma prótese fixa unitária depende da utilização correta da técnica de moldagem da boca do paciente, na área a ser reabilitada. Sendo o auxiliar em saúde bucal parte integrante da equipe de saúde bucal, ele precisa conhecer e manipular o material de moldagem adequadamente. Assinale a alternativa que apresenta corretamente o material utilizado para a moldagem do elemento dental que receberá uma prótese fixa unitária.

- A) Cimento de óxido de zinco e eugenol através de moldagem em passo único.
- B) Cimento endodôntico através de moldagem de passo único.
- C) Cimento cirúrgico através de moldagem de passo único.
- D) Silicone de condensação através de moldagem de passo único.
- E) Pó de hidróxido de cálcio através de moldagem de passo único.

### QUESTÃO 31

O carboidrato é considerado o componente da dieta com influência determinante para o surgimento de cárie dentária. Assinale a alternativa que apresenta o carboidrato com maior potencial de causar cárie dentária.

- A) Fibras alimentares, classificadas como polissacarídeos.
- B) Sacarose, classificada como um dissacarídeo.
- C) Frutose, classificado como monossacarídeo.
- D) Lactose, classificada como dissacarídeo.
- E) Amido, classificado como polissacarídeo.

### QUESTÃO 32

O controle mecânico da placa bacteriana (biofilme dental) é um dos principais responsáveis pela prevenção da cárie dentária e doença periodontal por promover redução no número de micro-organismos na cavidade bucal. Assinale a alternativa correta em relação à técnica de escovação mais adequada para um paciente abaixo de 6 anos de idade.

- A) Técnica de Stillman modificada para a remoção de cárie dentária, principalmente pela maior habilidade manual.
- B) Técnica de Fones para a remoção de cárie dentária, principalmente pela maior habilidade manual.
- C) Técnica de Fones para a remoção de placa bacteriana, principalmente pela pouca habilidade manual.
- D) Técnica de Bass modificada para a remoção de cálculo dental, principalmente pela maior habilidade manual.
- E) Técnica de Bass para a remoção de cálculo dental, principalmente pela maior habilidade manual.

### QUESTÃO 33

Um paciente com 18 anos de idade procurou atendimento odontológico para avaliação semestral e ingeriu, no consultório, de maneira acidental, todo o líquido de um frasco de 200mL de flúor gel fosfato acidulado, contendo 12.300 ppm de flúor. Assinale a alternativa correta em relação ao que acontecerá com o paciente.

- A) O paciente terá intoxicação aguda, pois ingeriu uma grande quantidade de flúor de uma única vez.
- B) O paciente não apresentará nenhuma reação adversa, pois o flúor é inofensivo à saúde humana.
- C) O paciente apresentará desgaste na estrutura do dente, pois o flúor é muito ácido.
- D) O paciente apresentará cálculo dental devido ao acúmulo de flúor nos dentes.
- E) O paciente terá intoxicação crônica e apresentará dentes com fluorose dentária.

### QUESTÃO 34

Dentro das competências legais apresentadas pelo Conselho Federal de Odontologia na Lei nº 11.889/2008, o auxiliar em saúde bucal pode exercer diversas atividades no consultório odontológico, sempre com a indispensável presença de um cirurgião-dentista. Assinale a alternativa correta em relação às atividades que podem ser desenvolvidas pelo Auxiliar de Saúde Bucal (ASB).

- A) Manipular materiais de uso odontológico, preparar modelos de gesso, instrumentar os profissionais nas intervenções clínicas e executar atividades de higiene bucal.
- B) Supervisionar o trabalho de outro ASB, treinar e capacitar outro ASB e realizar a remoção de biofilme dental através de profilaxia.
- C) Remover suturas, inserir material restaurador em cavidades abertas pelo cirurgião-dentista e realizar isolamento do campo operatório.
- D) Realizar tomadas radiográficas, remover suturas e remover biofilme através de profilaxia.
- E) Realizar exodontia, aplicar anestesia e realizar tratamento de canal.

### QUESTÃO 35

A cavidade bucal, além da cárie dentária, apresenta outros problemas considerados importantes para a saúde pública. Problemas como a doença periodontal, maloclusão, fissura lábiopalatina, câncer bucal e fluorose dentária têm aumentado a sua ocorrência na população brasileira. Assinale a alternativa que apresenta os principais fatores relacionados com a doença periodontal.

- A) Consumo de açúcar com frequência.
- B) Uso frequente de substitutos dos açúcares (adoçantes).
- C) Uso frequente de creme dental sem flúor.
- D) Uso frequente de flúor.
- E) Idade e higiene oral.

### QUESTÃO 36

A vacinação da equipe odontológica promove imunização contra doenças graves que podem surgir com frequência no consultório odontológico. Dentre elas, pela exposição dos profissionais de odontologia durante a realização dos procedimentos no consultório odontológico está a Hepatite B. Diante disso, assinale a alternativa correta em relação à vacinação contra a Hepatite B.

- A) A vacina da Hepatite B é administrada em 3 doses, sendo a segunda dose depois de 1 mês e a terceira depois de 6 meses, para que seja verificada a imunização correta.
- B) A vacina da Hepatite B é administrada em 3 doses, sendo a segunda dose depois de 10 anos e a terceira depois de 2 meses, para que seja verificada a imunização correta.
- C) A vacina da Hepatite B é administrada em 2 doses, sendo a segunda dose depois de 1 semana, para que seja verificada a imunização correta.
- D) A vacina da Hepatite B é administrada em 2 doses, sendo a segunda dose depois de 10 anos, para que seja verificada a imunização correta.
- E) A vacina da Hepatite B é administrada em dose única para que ocorra a imunização adequada.

### QUESTÃO 37

A gengivite pode ser definida como uma doença de característica inflamatória causada, principalmente, pelo acúmulo de placa bacteriana (biofilme dental). Assinale a alternativa que apresenta, corretamente, fatores de risco para o desenvolvimento da gengivite.

- A) Pacientes que consomem carne e leite diariamente.
- B) Pacientes com prótese total (superior e inferior) e pacientes que realizaram tratamento de canal.
- C) Pacientes que escovam os dentes 3 vezes ao dia e usam soluções para bochechos após as refeições.
- D) Pacientes com dentes contendo restaurações defeituosas, pacientes diabéticos e pacientes com alterações hormonais.
- E) Pacientes que usam fio dental frequentemente, pacientes com grande quantidade de saliva na boca e pacientes que usam soluções para bochechos após as refeições.

### QUESTÃO 38

O ambiente do consultório odontológico é potencialmente contaminado, sendo necessário um conjunto de operações de limpeza, desinfecção e esterilização de superfícies para minimizar infecção cruzada. Essas atividades podem ser desenvolvidas pelo auxiliar de saúde bucal. Assinale a alternativa correta em relação aos termos utilizados para o controle de infecção cruzada no consultório odontológico.

- A) Limpeza é definida como a forma de eliminação de micro-organismos da pele, mucosas ou tecidos vivos com auxílio de antissépticos ou microbiocidas.
- B) Antissepsia é definida como a remoção mecânica de sujeiras em geral de determinados locais.
- C) Antissepsia é definida como a forma de eliminação de micro-organismos da pele, mucosas ou tecidos vivos com auxílio de antissépticos ou microbiocidas.
- D) Desinfecção é definida como a forma de eliminação de micro-organismos da pele, mucosas ou tecidos vivos com auxílio de antissépticos ou microbiocidas.
- E) Desinfecção é definida como a remoção mecânica de sujeiras em geral de determinados locais.

### QUESTÃO 39

Um cirurgião-dentista necessita aplicar selante oclusal no elemento dental 16 de um paciente de 10 anos de idade devido ao seu risco de desenvolver cárie dentária na dentição permanente. Baseado nisso, assinale a alternativa correta que apresenta a superfície dentária em que o selante deve ser aplicado e sua ação.

- A) Deverá ser aplicado na superfície oclusal do elemento 16 e age prevenindo o desenvolvimento de cárie dentária.
- B) Deverá ser aplicado na superfície oclusal do elemento 16 e age restaurando a cavidade depois da remoção de cárie dentária.
- C) Deverá ser aplicado na superfície vestibular do elemento 16 e age restaurando a cavidade depois da remoção de cárie dentária.
- D) Deverá ser aplicado na superfície vestibular do elemento 16 e age prevenindo a formação de cálculo dental.
- E) Deverá ser aplicado na superfície vestibular do elemento 16 e age na prevenção de doença periodontal.

### QUESTÃO 40

O Auxiliar em Saúde Bucal (ASB) tem como atribuição assessorar o cirurgião-dentista nos procedimentos realizados nos pacientes. Assinale a alternativa que apresenta corretamente o material utilizado para moldagem com objetivo de confeccionar uma prótese removível.

- A) Cimento de óxido de zinco e eugenol.
- B) Resina composta fotopolimerizável.
- C) Amálgama de prata.
- D) Selante oclusal.
- E) Alginato.



## ATENÇÃO!

O candidato está **proibido** de **destacar** esta folha com o **gabarito**, sob pena de **eliminação** do processo. Somente o **Fiscal de Sala** está autorizado a fazer isso no momento da saída do candidato em definitivo do Local de Prova.

## Gabarito do Candidato

1	2	3	4	5	6	7	8	9	10	11	12	13	14	15	16	17	18	19	20	
21	22	23	24	25	26	27	28	29	30	31	32	33	34	35	36	37	38	39	40	

## EDITAL Nº 01/2017 – Município de Roteiro/AL

7.1. A COPEVE/UFAL divulgará o gabarito preliminar, juntamente com as Provas Objetivas, no endereço eletrônico: [www.copeve.ufal.br](http://www.copeve.ufal.br), na data provável de **26/12/2017**, a partir das 21h00.

## GABARITO OFICIAL

[www.copeve.ufal.br](http://www.copeve.ufal.br)

## REALIZAÇÃO



[www.ufal.edu.br](http://www.ufal.edu.br)



*Você confia no resultado!*

[www.copeve.ufal.br](http://www.copeve.ufal.br)



**FUNDEPES**  
Fundação Universitária de Desenvolvimento  
de Extensão e Pesquisa

[www.fundepes.br](http://www.fundepes.br)



**Município de Roteiro - Alagoas**