



Concurso Público

Município de Porto Calvo

PROVA TIPO

2

2018

MUNICÍPIO
DE PORTO CALVO
Edital n° 01/2018




Cargo (Nível Superior – NS):

13. MÉDICO

Provas de Português, Raciocínio Lógico
e Conhecimentos Específicos

CADERNO DE QUESTÕES

INSTRUÇÕES GERAIS

1. Este **Caderno de Questões** somente deverá ser aberto quando for autorizado pelo **Fiscal**.
2. Antes de iniciar a prova, confira se o tipo da prova do **Caderno de Questões** é o mesmo da etiqueta da banca e da **Folha de Respostas** de questões objetivas.
3. Ao ser autorizado o início da prova, verifique se a numeração das questões e a paginação estão corretas. Verifique, também, se contém **40 (quarenta)** questões objetivas com 5 (cinco) alternativas cada. Caso contrário, comunique imediatamente ao Fiscal.
4. O tempo disponível para esta prova é de **4 horas**. Faça-a com tranquilidade, mas **controle seu tempo**. Esse **tempo** inclui a marcação da **Folha de Respostas** de questões objetivas.
5. Você somente poderá sair em definitivo do Local de Prova depois de decorridas **2 horas** do início da aplicação.
6. Na **Folha de Respostas** de questões objetivas, confira seu nome, número do seu documento de identificação, tipo de prova e cargo escolhido.
7. Em hipótese alguma lhe será concedida outra **Folha de Respostas** de questões objetivas.
8. Preencha a **Folha de Respostas** de questões objetivas utilizando caneta esferográfica de tinta azul ou preta. Na **Folha de Respostas** de questões objetivas, preencha completamente o círculo correspondente à alternativa escolhida, conforme o modelo:

9. Será atribuído o valor ZERO à questão que contenha na **Folha de Respostas** de questões objetivas: dupla marcação, marcação rasurada, emendada ou com "X", não preenchida totalmente ou que não tenha sido transcrita.
10. A correção da prova objetiva será efetuada de forma eletrônica, considerando-se apenas o conteúdo da **Folha de Respostas** de questões objetivas.
11. Caso a Comissão julgue uma questão como sendo nula, os pontos serão atribuídos a todos os candidatos.
12. Não será permitida qualquer espécie de consulta.
13. Ao terminar a prova, **devolva** ao **Fiscal de Sala** este **Caderno de Questões**, juntamente com a **Folha de Respostas** de questões objetivas, e **assine a Lista de Presença**.
14. Na sala que apresentar apenas 1 (um) Fiscal, os 3 (três) últimos candidatos somente poderão ausentar-se da sala juntos, após a **assinatura da Ata de Encerramento** de provas.
15. **Assine** neste **Caderno de Questões** e **coloque** o número do seu documento de identificação (RG, CNH etc.).

Boa Prova!

N. do doc. de identificação (RG, CNH etc.):

Assinatura do(a) candidato(a):

PORTUGUÊS

QUESTÃO 01

[...] os recursos públicos estão sendo privatizados e o financiamento de novos fundos não têm mais a responsabilidade pública. Trata-se da implementação de uma ideologia da responsabilização do indivíduo segundo o qual, se não conseguir competir, deve viver como “pária”, como excluído. **Como há menos condições de competição nos indivíduos**, ou porque sejam cada vez mais exigentes, a consequência desse processo é a produção, cada vez maior, de párias sociais.

FALEIROS, Vicente de Paula. Desafios do serviço social na era da globalização. In: *Serviço social e Sociedade*, São Paulo, n. 61, 1999.

Acerca da oração destacada, é linguisticamente adequado afirmar que, em relação à última oração, ela expressa uma circunstância de

- A) consequência.
- B) conformidade.
- C) comparação.
- D) concessão.
- E) causa.

QUESTÃO 02

[...]

Ilustro com modestíssimo exemplo de **proatividade**. Em minha rua morava um senhor, a quem eu cumprimentava todo santo dia, sem receber sequer um sorriso. Quem sairia vencedor: ele, trancado em si mesmo, ou eu, insistindo em aproximação? [...]

SAVARY, Flávia. *Revista CidadeNova*. Ed. 587. Ano LVII. n. 3, mar. 2015.

Dadas as expressões,

- I. Ação ou efeito de manter-se ativo.
- II. Atenção às oportunidades.
- III. Antecipação aos fatos.
- IV. Vigilância de forma ativa.

verifica-se que pode(m) substituir, sem prejuízos semânticos, a palavra **proatividade**

- A) I, II, III e IV.
- B) I, II e III, apenas.
- C) II e IV, apenas.
- D) I e III, apenas.
- E) IV, apenas.

QUESTÃO 03

Dadas as orações,

- I. Perguntei àquele garoto se gostaria de estudar em outro turno.
- II. Normalmente, não gosto de ir à reuniões.
- III. Passarei aqui à uma hora qualquer para te levar ao shopping.
- IV. Minha encomenda chegou à uma hora da tarde do dia cinco de maio de 2004.

verifica-se que estão corretas quanto ao emprego do acento grave apenas

- A) I, II e III.
- B) II e IV.
- C) II e III.
- D) I e IV.
- E) I e III.

QUESTÃO 04

O que as pesquisas recentes dizem sobre a parte da nossa mente **que não temos acesso**.

NEGRETTI, Natália e AGUIAR, Érica. *Segredos da mente*. Ano 2. n. 6, 2015.

Considerando o excerto referente, bem como as orientações gramaticais normativas de que o pronome relativo poderá aparecer precedido de preposição, caso haja um vocábulo que assim a exija, a ausência da preposição no fragmento destacado acarreta uma inadequação gramatical que diz respeito à

- A) colocação pronominal.
- B) concordância nominal.
- C) concordância verbal.
- D) regência nominal.
- E) regência verbal.

QUESTÃO 05

Solar, feliz. É assim que Gustavo Black Alien, ex Planet Hemp, descreve seu segundo trabalho, *Babylon by gus* – Vol. II – No princípio era o verbo, que chega ao mercado mais de uma década após seu primeiro disco solo. Depois de anos de luta contra a dependência de álcool, o rapper, há um ano sem beber, diz que compor sóbrio lhe fez bem. “Demoro mais, porém, estou mais rigoroso, reflito melhor”, diz Alien, que, na faixa “Terra”, o primeiro single do álbum, fala sobre sua busca pela espiritualidade. Há versos mais duros, como em “Rolo compressor”, que abordam a opressão. “O papel do artista é também o de informar o povo, dar educação que o governo não oferece”, diz.

Revista GOL, set. 2015, p. 72.

Como se pode conferir, o texto apresenta uma série de variáveis significativas e expressivas, ou seja, aponta para diferentes linhas temáticas que servem para apresentar um trabalho artístico. Esse fenômeno está presente no texto da seguinte forma:

- A) as linhas de significação convergem diretamente para a descrição do trabalho de Gustavo Black. Todos os argumentos servem de suporte à conceituação de um trabalho artístico. Isso também quer dizer que todas as informações relevantes não estão isoladas no interior do texto, mas concorrendo para a finalização de um conceito objetivo sobre a obra do artista.
- B) há uma recorrência na conceituação do segundo trabalho como “solar, feliz”. Esse elemento significativo é objeto de um processo de exploração da mensagem em toda a extensão do texto, ou seja, há afirmações claras que concorrem para esse conceito.
- C) as informações sobre o trabalho de Gustavo Black estão intermediadas por alguns elementos expressivos paralelos, tais como: dependência do álcool, sua forma de compor, o papel do artista, a educação estatal.
- D) há duas linhas significativas: o trabalho de Gustavo Black e sua forma de ver o papel do artista. Essas duas linhas compõem o conjunto de elementos significativos de sua trajetória.
- E) o principal argumento está relacionado ao alcoolismo de Gustavo Black, já que o fato interfere em sua forma original de compor e refaz uma trajetória artística.

QUESTÃO 06

Os termos destacados no período “Os funcionários manifestaram interesse **em discutir** com o proprietário da fábrica sobre o aumento salarial, já que o diretor financeiro mostrou-se insensível **à situação**.” exercem a função de

- A) complemento nominal.
- B) adjunto adnominal.
- C) objeto pleonástico.
- D) objeto indireto.
- E) objeto direto.

QUESTÃO 07

Sonetos: III

[...]

Se a quereis conhecer, **vinde** comigo,

Vereis a formosura, que eu adoro;

Mas não; tanto não sou vosso inimigo:

Deixai, não a vejais; eu vo-lo imploro;

Que se seguir quiserdes, o que eu sigo,

Chorareis, ó pastores, o que eu choro.

COSTA, Cláudio Manuel. *Poemas*. São Paulo: Circulo do Livro, 1979.

As formas verbais destacadas no texto são atos de fala

- A) do futuro do subjuntivo orientados para o remetente que duvida da veracidade para a realização da ordem e do conselho.
- B) imperativos orientados para o destinatário com reconhecimento consentido para a realização da ordem e do conselho.
- C) imperativos negativos orientados para uma situação que descreve o nível de experiência no assunto por parte do autor do texto.
- D) do presente do indicativo orientados para a mensagem com total certeza de parte do autor sobre o conselho apresentado.
- E) injuntivos orientados para o código linguístico explicitando o jogo de linguagem presente no eulírico.

QUESTÃO 08

Escrever

[...]

Que pena que só sei escrever quando espontaneamente a “coisa” vem. Fico assim à mercê do tempo. E, entre um verdadeiro escrever e outro, podem-se passar anos. **Lembro-me agora com saudade da dor de escrever livros.**

LISPECTOR, Clarisse. *A descoberta do mundo*. Rio de Janeiro: Rocco, 1999.

Dadas as frases,

- I. Lembro-me agora com saudade a dor de escrever livros.
- II. Lembro agora com saudade da dor de escrever livros.
- III. Lembro agora com saudade a dor de escrever livros.

verifica-se que é(são) reescrita(s) correta(s) da sentença destacada no texto

- A) I, II e III.
- B) I e III, apenas.
- C) I e II, apenas.
- D) III, apenas.
- E) II, apenas.

QUESTÃO 09

Cada criança que nasce num grupo [...] adquire hábitos de fala e de resposta nos primeiros anos de sua vida. Este é, indubitavelmente, o maior feito que a qualquer um de nós é requerido. Exatamente como as crianças aprendem a falar não se sabe; o processo parece ser algo como o que se segue:

(1) Sob estimulação variada, a criança produz e repete sons vocais. Isso parece ser um traço hereditário. Suponha-se que ela faça um ruído que possa ser representado como *da*, embora, por certo, os movimentos e os sons resultantes difiram de quaisquer dos que são usados na fala convencional em inglês. As vibrações sonoras atingem os ouvidos da criança enquanto ela repete os movimentos. O resultado é um hábito: onde quer que um som semelhante atinja seu ouvido, é provável que ela faça esses mesmos movimentos bucais, repetindo o som *da*. Tal balbucio treina-a na reprodução de sons vocais que cheguem a seus ouvidos.

[...]

BLOOMFIELD, Leonard. *Language*. Chicago: The University of Chicago Press, 1984. p. 29.

O vocábulo **que** apresenta correta classificação quanto à função em:

- A) “[...] que nasce num grupo [...] adquire hábitos de fala e de resposta [...]” – função de objeto direto.
- B) “[...] reprodução de sons vocais que cheguem a seus ouvidos [...]” – função de adjunto adverbial.
- C) “[...] que nasce num grupo [...] adquire hábitos de fala e de resposta [...]” – função de sujeito.
- D) “[...] o processo parece ser algo como o que se segue [...]” – função de objeto direto.
- E) “[...] ela faça um ruído que possa ser representado [...]” – função de aposto.

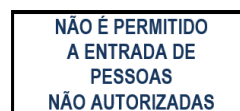
QUESTÃO 10

Dadas as placas,

I.



II.



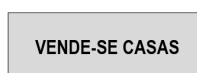
III.



IV.



V.



verifica-se que estão corretas quanto às concordâncias nominal e verbal

- A) I, II, III, IV e V.
- B) III, IV e V, apenas.
- C) I, II e V, apenas.
- D) II e III, apenas.
- E) I e IV, apenas.

QUESTÃO 11

[...]

Durante os dois primeiros anos do Ensino Médio, eu tinha apenas dois cadernos e quase nada escrito neles. Era difícil me adaptar a uma educação que não provocava minha inteligência. Alguns naquela época, vendo meu aparente desinteresse, achavam que eu não seria nada na vida. Mas, dentro de mim, havia uma explosão de ideias. Pensar era uma aventura que me encantava.

[...]

CURY, Augusto. *Pais brilhantes, professores fascinantes*. Rio de Janeiro: Sextante, 2003, p. 70.

Considerando o texto, o autor acredita que

- A) os aprendentes procuram na educação a capacidade de adaptação aos sistemas instituídos.
- B) a educação ideal nasce nas estruturas formais de aprendizagem.
- C) a educação verdadeira deve provocar nos indivíduos a inteligência.
- D) qualquer forma de educação limita a criatividade e a explosão de ideias.
- E) toda forma de educação busca uma aventura que encanta.

QUESTÃO 12

Anestesia apaga memórias ruins

O gás xenônio, que é usado em faróis de carro (pois gera luz quando recebe eletricidade) e também como anestésico, tem uma terceira utilidade: eliminar memórias traumáticas. Pelo menos em cobaias de laboratório. **A descoberta** é de cientistas americanos, que submeteram um grupo de ratos a uma situação desagradável – quando tocava um determinado som, eles levavam um choque. **As cobaias** que inalaram xenônio se esqueceram desse fato e passaram a ignorar o alerta sonoro. O efeito acontece porque o gás bloqueia a ação de um aminoácido chamado NMDA, que é necessário para a preservação das memórias.

Disponível em: <<https://super.abril.com.br/comportamento/anestesia-aoaga-memorias-ruins/>>. Acesso em: 18 set. 2018.

Os termos destacados no texto têm relações textuais de

- A) conexão, pois retomam termos ou segmentos textuais pela seleção lexical de palavras semanticamente próximas.
- B) associação, pois retomam cataforicamente termos ou segmentos textuais pelo procedimento da conexão.
- C) referência, pois retomam termos ou segmentos textuais pelo procedimento da substituição gramatical.
- D) reiteração, pois retomam termos ou segmentos textuais pelo procedimento da substituição lexical.
- E) substituição, pois retomam termos ou segmentos textuais por caracterizadores situacionais.

QUESTÃO 13

Canção do Exílio

Gonçalves Dias

[...]

Minha terra tem primores,
Que tais não encontro eu cá,
Em cismar — sozinho, à noite —
Mais prazer encontro eu lá;
Minha terra tem palmeiras,
Onde canta o Sabiá.”

[...]

Disponível em: <www.horizonte.uram.mr/brasil/gdias.html>. Acesso em: 17 set. 2018.

Na estrofe da *Canção do Exílio*, poema de Gonçalves Dias, o emprego do travessão duplo indica

- A) discurso indireto.
- B) discurso direto.
- C) intercalação.
- D) interrupção.
- E) citação.

QUESTÃO 14

Uma das características mais evidentes das línguas é sua variedade. Entende-se por isso, fundamentalmente, que as línguas apresentam formas variáveis em determinadas épocas, **o** que significa que não são faladas uniformemente por todos os falantes de uma sociedade.

M.B.M Abaurre e S. Possenti. *Língua Portuguesa*. São Paulo: Unicamp, 2002.

O elemento linguístico destacado no texto **o** tem uma função dêitica e corresponde a

- A) pronome demonstrativo.
- B) pronome indefinido.
- C) pronome relativo.
- D) pronome sujeito.
- E) artigo.

QUESTÃO 15

No descomeço era o verbo.
Só depois é que veio o delírio do verbo.
O delírio do verbo estava no começo, lá
onde a criança diz: **Eu escuto a cor dos
passarinhos...**

BARROS, Manoel de. *O livro das ignoranças*. Rio de Janeiro: Civilização Brasileira, 1993.

O trecho destacado nos versos do poeta é um exemplo de

- A) eufemismo.
- B) sinestesia.
- C) catacrese.
- D) hipérbole.
- E) antítese.

RACIOCÍNIO LÓGICO

QUESTÃO 16

Considerando os conjuntos $A = \{1, 2, 3, 4\}$, $B = \{4, 5, 6, 7\}$ e $C = \{1, 2, 3, 6\}$, qual das alternativas apresenta uma igualdade verdadeira referente às operações em tais conjuntos?

- A) $(C-B) = (B-C)$
- B) $(C-A) = (A-B)$
- C) $(B-A) = (C-A)$
- D) $(A-C) = (B-C)$
- E) $(A-B) = (C-B)$

QUESTÃO 17

Sabe-se que numa certa cidade 25% da população gosta de frequentar o shopping, 40% gosta de frequentar o parque municipal e 50% gosta de ir à praia. Sabe-se também que 10% gosta de frequentar os três lugares, 5% gosta de ir apenas à praia e ao shopping, 7% gosta de ir apenas ao shopping e ao parque, e ninguém prefere ir à praia e ao parque, apenas. Qual a porcentagem da população dessa cidade que gosta de ir, exclusivamente, a um dos três lugares ou não gosta de frequentar nenhum deles?

- A) 78%
- B) 61%
- C) 17%
- D) 12%
- E) 10%

QUESTÃO 18

Considerando que os símbolos \neg , \wedge , \vee , \forall e \exists representam negação, conjunção, disjunção, quantificador universal e quantificador existencial, respectivamente, a partir de qual dos conjuntos de premissas abaixo pode-se chegar à conclusão de que $\exists x P(x) \wedge \exists x Q(x)$?

- A) $\{\exists x (P(x) \vee \neg Q(x))\}$
- B) $\{\forall x (\neg P(x) \wedge Q(x))\}$
- C) $\{\exists x \neg (P(x) \wedge Q(x))\}$
- D) $\{\forall x (P(x) \wedge Q(x))\}$
- E) $\{\forall x (P(x) \vee Q(x))\}$

QUESTÃO 19

Uma certa identificação fictícia é composta por dois tipos de caracteres: letras (de um total de 26) e algarismos (de 0 a 9). Tais caracteres podem ser combinados de qualquer forma, desde que totalizem 12, tal como 23ABTU2UPP3Z. Quantas identificações diferentes que contenham a sequência 56AGRF podem ser formadas?

- A) $(6 \cdot 36)^6 - 1$
- B) $7 \cdot 36^5 - 1$
- C) $7 \cdot 36^6 - 1$
- D) $6 \cdot 36^6$
- E) $5 \cdot 36^6$

QUESTÃO 20

A partir do conjunto de premissas $\{\forall x (F(x) \rightarrow G(x) \vee H(x)), \forall x \neg G(x)\}$, pode-se inferir que

- A) $\exists x (H(x) \rightarrow G(x))$.
- B) $\exists x (H(x) \rightarrow F(x))$.
- C) $\exists x (G(x) \rightarrow F(x))$.
- D) $\exists x (F(x) \rightarrow H(x))$.
- E) $\exists x (F(x) \rightarrow G(x))$.

QUESTÃO 21

De quantas formas distintas é possível rearranjar as letras da palavra "propriedade" sem que o resultado comece com as letras "i" ou com "o"?

- A) $10 \cdot 9 \cdot 7 \cdot 6 \cdot 5 \cdot 4 \cdot 3$
- B) $10^2 \cdot 9 \cdot 7 \cdot 6 \cdot 5 \cdot 4 \cdot 3$
- C) $11 \cdot 10 \cdot 9 \cdot 7 \cdot 6 \cdot 5 \cdot 4 \cdot 3$
- D) $11 \cdot 10 \cdot 9 \cdot 7 \cdot 6 \cdot 5 \cdot 4 \cdot 3$
- E) $11 \cdot 10 \cdot 2 \cdot 9 \cdot 7 \cdot 6 \cdot 5 \cdot 4 \cdot 3$

QUESTÃO 22

Dado o conjunto de premissas,

- I. Gustavo joga futebol ou Pedro joga xadrez.
- II. Não é verdade que José e Ana jogam basquete.
- III. Se Pedro joga xadrez, José joga basquete.

qual das informações deve ser inserida para que seja possível inferir que Gustavo joga futebol?

- A) Pedro joga xadrez.
- B) Ana joga basquete.
- C) José joga basquete.
- D) Se Gustavo não joga futebol, Pedro joga xadrez.
- E) Se José não joga basquete, Pedro não joga xadrez.

QUESTÃO 23

Se um cubo cuja aresta possui 6 m de comprimento e um prisma quadrangular regular cujo lado da base possui 10 m de comprimento têm o mesmo volume, qual é a altura do prisma?

- A) 10 m
- B) 2,16 m
- C) 1,88 m
- D) 1,66 m
- E) 0,6 m

QUESTÃO 24

Qual o próximo número da sequência 1, -1, 2, -6, 24, -120?

- A) 320
- B) 420
- C) 520
- D) 620
- E) 720

QUESTÃO 25

Aula 1 – Matrizes

[...]

Definição

Uma matriz real A de ordem $m \times n$ é uma tabela de mn números reais, dispostos em m linhas e n colunas, onde m e n são números inteiros positivos. Uma matriz real de m linhas e n colunas pode ser representada por $A_{m \times n}$, que se lê “ A m por n ”. Também podemos escrever $A = (a_{ij})$, onde $i \in \{1, \dots, m\}$ é o índice de linha e $j \in \{1, \dots, n\}$ é o índice de coluna do termo genérico da matriz.

[...]

Multiplificação de matrizes

Sejam $A = (a_{ik})$, de ordem $m \times p$ e $B = (b_{kj})$, de ordem $p \times n$. A matriz produto de A por B é a matriz $AB = (c_{ij})$, de ordem $m \times n$, tal que $c_{ij} = a_{i1}.b_{1j} + a_{i2}.b_{2j} + \dots + a_{ip}.b_{pj}$, para $i = 1, 2, \dots, m$ e $j = 1, 2, \dots, n$.

Disponível em: <http://www.ufjf.br/quimicaead/files/2013/05/%C3%81lgebra-Linear-I_Vol-1.pdf>.
Acesso em: 06 nov. 2018 (adaptado).

Se $M = (m_{ij})$ e $N = (n_{ij})$ são matrizes de ordem 2×2 tais que $m_{ij} = ij$ e $n_{ij} = i + j$ e $E = (e_{ij})$ é tal que $E = MN$, então e_{11} e e_{12} são, respectivamente, iguais a

- A) 8 e 11.
- B) 8 e 6.
- C) 3 e 5.
- D) 2 e 11.
- E) 2 e 6.

CONHECIMENTOS ESPECÍFICOS

QUESTÃO 26

Na febre há uma elevação da temperatura corpórea que ultrapassa a variação diária considerada normal e ocorre associada ao aumento do ponto de ajuste hipotalâmico. A essa altura, os neurônios do centro vasomotor promovem modificações vasculares corporais e a musculatura também contribui para o aumento da temperatura corporal. Sobre a febre e os seus mecanismos, assinale a alternativa correta.

- A) Ao ultrapassar a marca de 37°C , a febre é descrita clinicamente como hiperpirexia e ocorre nos pacientes graves.
- B) O desvio de sangue da periferia para o abdômen e tórax reduz a perda de calor através da pele.
- C) O fenômeno da termogênese sem tremores ocorre nos rins e tende a elevar a temperatura interna.
- D) Quando o patamar febril é alcançado, o hipotálamo reduz a temperatura corporal como um todo.
- E) Os tremores reduzem a produção muscular de calor, o que favorece a sensação de frio.

QUESTÃO 27

A deficiência de ferro é uma das formas mais prevalentes de desnutrição. Os estados que aumentam a demanda ou a perda de ferro, ou os que diminuem a ingestão e a absorção deste elemento, podem provocar a chamada anemia ferropênica (ferropriva). Sobre essa condição, dadas as afirmativas,

- I. A evolução da deficiência de ferro pode ser dada por 3 estágios: balanço negativo, eritropoiese ineficiente e anemia ferropriva.
- II. No interior das células, o ferro precisa ser armazenado ligado a uma proteína ferritina ou a hemossiderina.
- III. São condições que estabilizam as demandas de ferro sérico: gravidez, crescimento adolescente e terapia com eritropoietina.

verifica-se que está(ão) correta(s)

- A) I, II e III.
- B) II e III, apenas.
- C) I e II, apenas.
- D) III, apenas.
- E) I, apenas.

QUESTÃO 28

Paciente do sexo masculino, 31 anos, cerca de 70 kg, mecânico, vítima de acidente em local de trabalho por material cortante, deu entrada na unidade básica de saúde com lesão de cerca de 6 cm de extensão em mão direita, necessitando de sutura. Considerando que a unidade de saúde dispõe de lidocaína 2%, qual a quantidade máxima do anestésico que deve ser aplicada para a realização do procedimento?

- A) 14 mL
- B) 10 mL
- C) 7,0 mL
- D) 3,5 mL
- E) 1,75 mL

QUESTÃO 29

A apendicite aguda é a causa mais comum de abdômen agudo cirúrgico e tem como fator etiológico principal a obstrução luminal apendicular. Pode ser classificada como apendicite aguda simples, supurativa e gangrenosa. O atendimento inicial do paciente é de suma importância para a definição quanto à necessidade ou não de cirurgia. Sobre as colocações apresentadas, assinale a alternativa correta.

- A) Leucocitoses com neutrofia dentro da faixa de 16.000-18.000/ μ L com desvio à esquerda sugerem apendicite simples.
- B) As manobras diagnósticas que provoquem dor precisam ser executadas logo no início com o paciente em decúbito.
- C) A apendicite pode ocorrer sem febre, vômitos, anorexia e a dor pode ter início em qualquer quadrante abdominal.
- D) Queixas de abdômen agudo, dor e náuseas, juntamente com piúria no exame de urina indicam litíase ureteral.
- E) A dor localizada com defesa de parede e sinais de irritação peritoneal exclui a necessidade de cirurgia.

QUESTÃO 30

Um hemograma pode ser considerado o espelho do corpo, segundo alguns autores. Através dele pode-se inferir a respeito da provável etiologia dos processos patológicos envolvidos durante a investigação clínica de um paciente. Isso porque o exame informa dados a respeito dos leucócitos, hemácias e plaquetas. Sobre o hemograma, é correto afirmar:

- A) os glicocorticoides, síndrome de Cushing, estresse agudo e queimaduras são condições eosinofílicas.
- B) na inflamação crônica grave, o grau de microcitose pode ser tão acentuado quanto na deficiência de ferro.
- C) o uso de ácido acetilsalicílico produz trombocitopenia naqueles pacientes com dengue hemorrágica.
- D) na policitemia vera, os valores de eritrócitos, hemoglobina e hematócrito estão diminuídos.
- E) nas infecções bacterianas agudas e crônicas, a monocitose vem antes da neutrofilia.

QUESTÃO 31

Dadas as afirmativas referentes a uma doença parasitária que leva ao prurido perianal noturno,

- I. Os exames parasitológicos de fezes convencionais não dão o diagnóstico.
- II. O principal sintoma se deve a migração das fêmeas.
- III. O albendazol em dose diária de 100 mg por três dias trata a doença.
- IV. O ciclo evolutivo leva 5 dias.

verifica-se que está(ão) correta(s)

- A) I, II, III e IV.
- B) I, III e IV, apenas.
- C) III e IV, apenas.
- D) I e II, apenas.
- E) II, apenas.

QUESTÃO 32

Os pacientes com infarto agudo do miocárdio com supradesnivelamento de seguimento ST (IAM-cST) se beneficiam com a terapia de reperfusão miocárdica evoluindo com menor mortalidade. A terapia clínica utilizada para IAM-cST possui várias opções terapêuticas e justificativas para seu uso. Dadas as afirmativas quanto a IAM-cST,

- I. O ácido acetilsalicílico tem efeito rápido por inibição da glicoproteína IIb/IIIa plaquetária.
- II. A adição de clopidogrel ao ácido acetilsalicílico tem benefício comprovado.
- III. O inibidor da enzima conversora de angiotensina deve ser utilizado no primeiro dia de tratamento com redução de dose nos pacientes com pressão arterial baixa.
- IV. Os antagonistas da aldosterona devem ser utilizados nos pacientes sem disfunção ventricular.

verifica-se que está(ão) correta(s)

- A) I, II, III e IV.
- B) I, II e IV, apenas.
- C) III e IV, apenas.
- D) I e III, apenas.
- E) II, apenas.

QUESTÃO 33

Uma criança de cinco meses de idade deu entrada com quadro de vômitos e diarreia há cerca de 8 horas. A mãe relatou quatro episódios de êmese e três dejeções aquosas, sem sangue ou muco. Ao examinar a criança, verificou-se que se encontrava ativa, corada, com turgor da pele preservado, temperatura de 37° C, fontanelas normotensas, abdome flácido com aumento do timpanismo e ruídos hidroaéreos presentes. Dentre as possibilidades terapêuticas para o caso, assinale a alternativa correta.

- A) Probióticos são úteis como adjuvantes na terapia, especialmente aqueles a base de *Lactobacillus caseii GG*.
- B) Indica-se antibioticoterapia a base de Trimetoprim e sulfametoxazol.
- C) Deve-se prescrever a metoclopramida para o tratamento sintomático.
- D) A paciente deve ser mantida em observação em unidade hospitalar.
- E) A loperamida é uma opção terapêutica útil no caso descrito.

QUESTÃO 34

Dadas as afirmativas quanto aos marcadores biológicos da Insuficiência Cardíaca Congestiva (ICC),

- I. O pró-peptídeo natriurético tipo B é específico para o diagnóstico da ICC por doença de Chagas.
- II. O peptídeo natriurético tipo B auxilia no diagnóstico.
- III. A troponina T tem utilidade para direcionar a terapêutica inicial da ICC.
- IV. A aldosterona serve como marcador ideal e mais sensível para as doenças não cardíacas que levam ao quadro de ICC.

verifica-se que está(ão) correta(s)

- A) I, II, III e IV.
- B) I, II e IV, apenas.
- C) III e IV, apenas.
- D) I e III, apenas.
- E) II, apenas.

QUESTÃO 35

Considere a situação hipotética: Você está de plantão numa cidade do interior de Alagoas, distante cerca de 3 horas do centro de referência em cardiologia mais próximo. Atende um homem de 55 anos com infarto de parede inferior (supradesnível de ST em D2, D3 e aVF), início dos sintomas há 3 horas. Hemodinamicamente estável, ainda com forte dor precordial, irradiando para o epigástrico. Considerando que no hospital você dispõe de UTI e de tenecteplase (Metalyse®), qual a conduta mais apropriada para o caso?

- A) Transferência para um centro onde pudesse ser realizada uma angioplastia transluminal coronária (ATC) primária.
- B) Heparinização plena apenas, já que o infarto é de parede inferior.
- C) Uso de morfina + nitrato + AAS, apenas.
- D) Tratamento conservador simples.
- E) Trombólise imediata.

QUESTÃO 36

Dadas as afirmativas a respeito da pneumonia adquirida na comunidade (PAC),

- I. A radiografia de tórax (PA e perfil) é o método de imagem de escolha na abordagem inicial da PAC.
- II. Pacientes com PAC, classificados como de baixo risco, tratados ambulatorialmente, devem realizar apenas a radiografia de tórax como exame complementar de imagem.
- III. O padrão radiológico não pode ser usado para prever o agente etiológico da PAC.
- IV. A radiografia de tórax deve ser repetida após seis semanas do início dos sintomas em fumantes com mais de 50 anos e, na persistência dos sintomas ou achados anormais, ao exame físico.

verifica-se que está(ão) correta(s)

- A) I, II, III e IV.
- B) I, II e III, apenas.
- C) III e IV, apenas.
- D) I e II, apenas.
- E) IV, apenas.

QUESTÃO 37

A febre reumática (FR) é um processo imunopatológico surgido após infecção da orofaringe causada por bactérias e que pode acometer o coração, tecido conjuntivo ou as articulações. Apesar de não haver um critério diagnóstico fixo, a FR é confirmada por meio de exame clínico em conjunto com dados laboratoriais. Sobre o tema, é correto afirmar:

- A) a apresentação nodular da artrite reumatoide (AR) é comum com nódulos moles, dolorosos, móveis e localizados sobre as coxas e abdômen.
- B) caracteristicamente, as crises de artrite da febre reumática são crônicas, com comprometimento das pequenas articulações.
- C) a cardite é a manifestação mais discreta da FR porque está associada à baixa mortalidade na população brasileira.
- D) é causada pela infecção dos estreptococos beta-hemolíticos do grupo A e acomete preferencialmente crianças.
- E) a utilização de anti inflamatórios de amplo espectro contribui para o descobrimento do foco das crises dolorosas.

QUESTÃO 38

Uma paciente de 75 anos, há um ano submetida a uma mastectomia radical por tumor mamário maligno, encontra-se internada em um hospital geral no 5º dia de pós-operatório de uma cirurgia ortopédica de quadril. No segundo dia de pós-operatório, foi diagnosticada uma trombose venosa profunda no membro inferior direito, ipsilateral ao quadril abordado. Apresentou dispneia e dor torácica (tipo pleurítica) súbitas e hipotensão, vindo a falecer 30 minutos após o início dos sintomas, apesar de manobras químico-mecânicas prontas e adequadas de reanimação cardiopulmonar-cerebral. Baseado em diagnóstico clínico, qual seria a sequência mais lógica de eventos a constar no atestado de óbito, partindo da causa básica, causas intermediárias e causa imediata?

- A) Pós-operatório de cirurgia ortopédica/tromboembolismo pulmonar/choque cardiogênico/insuficiência respiratória aguda.
- B) Pós-operatório de cirurgia ortopédica/dissecção aórtica aguda/choque cardiogênico/insuficiência respiratória aguda.
- C) Pós-operatório de cirurgia ortopédica/infarto agudo do miocárdio/fibrilação ventricular/insuficiência cardíaca aguda.
- D) Pós-operatório de cirurgia ortopédica/infarto agudo do miocárdio/choque cardiogênico/fibrilação ventricular.
- E) Pós-operatório de cirurgia ortopédica/infarto do ventrículo direito/choque cardiogênico/cianose.

QUESTÃO 39

O vírus varicela zoster (VZV) pertence à família *Herpesviridae* que provoca uma infecção inicial, seguida de um estado infeccioso latente e persistente. Causa duas entidades clínicas: a catapora e o herpes zoster. O herpes zoster é uma síndrome com inflamação segmentar dos nervos e lesão no dermatomo associado que surge após reativação do VZV. Sobre o herpes zoster, dadas as afirmativas,

- I. O VZV é um vírus que sofre resistência para a transmissão materno-fetal através da placentária.
- II. As principais complicações da infecção pelo VZV são infecções parasitárias e meningites linfocíticas.
- III. A dor pode permanecer no dermatomo afetado mesmo após o desaparecimento das lesões cutâneas.
- IV. Por se tratar de uma infecção viral, o tratamento direcionado inclui o uso de antibióticos de amplo espectro.

verifica-se que está(ão) correta(s)

- A) I, II, III e IV.
- B) I, II e IV, apenas.
- C) II e IV, apenas.
- D) I e III, apenas.
- E) III, apenas.

QUESTÃO 40

As diarreias agudas apresentam duração de até quatro semanas, enquanto que as crônicas apresentam duração superior. Nas formas agudas, geralmente há um componente infeccioso bacteriano ou viral. Já nas apresentações crônicas, normalmente estão associadas aos processos inflamatórios, má absorção ou neoplasias. Sobre o processo diarreico, é correto afirmar:

- A) as diarreias inflamatórias ou disenterias envolvem preferencialmente o intestino delgado e evacuações volumosas.
- B) a que melhora com o jejum, produz flatulência, ausência de leucócitos fecais, são indícios de diarreia do tipo osmótica.
- C) diarreias com período de incubação superior a quatorze horas e associada a vômitos são indicativas de toxinas.
- D) o hipertireoidismo culmina com o aumento da motilidade intestinal, daí a diarreia ser considerada tóxica.
- E) pouca perda hidroeletrólítica nas fezes, excesso de leucócitos e sangue indicam diarreia secretora.

ATENÇÃO!

O candidato está **proibido** de **destacar** esta folha com o **gabarito**, sob pena de **eliminação** do processo. Somente o **Fiscal de Sala** está autorizado a fazer isso no momento da saída do candidato em definitivo do Local de Prova.

Gabarito do Candidato

1	2	3	4	5	6	7	8	9	10	11	12	13	14	15	16	17	18	19	20	
21	22	23	24	25	26	27	28	29	30	31	32	33	34	35	36	37	38	39	40	

EDITAL Nº 01/2018 – Município de Porto Calvo/AL

7.1. A COPEVE/UFAL divulgará o gabarito preliminar, juntamente com as Provas Objetivas, no endereço eletrônico: www.copeve.ufal.br, na data provável de **06/12/2018**, a partir das 21h00.

GABARITO OFICIAL

www.copeve.ufal.br

REALIZAÇÃO



www.ufal.edu.br



Você confia no resultado!

www.copeve.ufal.br



www.fundepes.br



Município de Porto Calvo - Alagoas