



Concurso Público

Município de Barra de São Miguel

PROVA TIPO

1

2017

MUNICÍPIO
DE BARRA DE
SÃO MIGUEL
Edital nº 01/2017




Cargo (**Nível Médio – NM**):

28. GUARDA MUNICIPAL

**Provas de Português, Raciocínio Lógico
e Conhecimentos Específicos**

CADERNO DE QUESTÕES

INSTRUÇÕES GERAIS

1. Este **Caderno de Questões** somente deverá ser aberto quando for autorizado pelo **Fiscal**.
2. Antes de iniciar a prova, confira se o tipo da prova do **Caderno de Questões** é o mesmo da etiqueta da banca e da **Folha de Respostas** de questões objetivas.
3. Ao ser autorizado o início da prova, verifique se a numeração das questões e a paginação estão corretas. Verifique, também, se contém **40 (quarenta)** questões objetivas com 5 (cinco) alternativas cada. Caso contrário, comunique imediatamente ao Fiscal.
4. O tempo disponível para esta prova é de **4 horas**. Faça-a com tranquilidade, mas **controle seu tempo**. Esse **tempo** inclui a marcação da **Folha de Respostas** de questões objetivas.
5. Você somente poderá sair em definitivo do Local de Prova depois de decorridas **2 horas** do início da aplicação.
6. Na **Folha de Respostas** de questões objetivas, confira seu nome, número do seu documento de identificação, tipo de prova e cargo escolhido.
7. Em hipótese alguma lhe será concedida outra **Folha de Respostas** de questões objetivas.
8. Preencha a **Folha de Respostas** de questões objetivas utilizando caneta esferográfica de tinta azul ou preta. Na **Folha de Respostas** de questões objetivas, preencha completamente o círculo correspondente à alternativa escolhida, conforme o modelo:

9. Será atribuído o valor ZERO à questão que contenha na **Folha de Respostas** de questões objetivas: dupla marcação, marcação rasurada, emendada ou com "X", não preenchida totalmente ou que não tenha sido transcrita.
10. A correção da prova objetiva será efetuada de forma eletrônica, considerando-se apenas o conteúdo da **Folha de Respostas** de questões objetivas.
11. Caso a Comissão julgue uma questão como sendo nula, os pontos serão atribuídos a todos os candidatos.
12. Não será permitida qualquer espécie de consulta.
13. Ao terminar a prova, **devolva** ao **Fiscal de Sala** este **Caderno de Questões**, juntamente com a **Folha de Respostas** de questões objetivas, e **assine a Lista de Presença**.
14. Na sala que apresentar apenas 1 (um) Fiscal, os 3 (três) últimos candidatos somente poderão ausentar-se da sala juntos, após a **assinatura da Ata de Encerramento** de provas.
15. **Assine** neste **Caderno de Questões** e **coloque** o número do seu documento de identificação (RG, CNH etc.).

Boa Prova!

N. do doc. de identificação (RG, CNH etc.):

Assinatura do(a) candidato(a):

PORTUGUÊS

QUESTÃO 01

A presença algodoeira no Nordeste é antiga. Os indígenas alagoanos dominavam a produção dessa planta, mesmo antes do descobrimento do Brasil e, com ela, fabricavam redes, cordas e panos para vestimentas.

CARVALHO, Cícero Péricles de. *Formação histórica de Alagoas*. Maceió: Edufal, 2016. p. 210.

Pelas características do texto, qual a função predominante?

- A) Fática.
- B) Poética.
- C) Emotiva.
- D) Referencial.
- E) Metalinguística.

QUESTÃO 02

A um poeta

Olavo Bilac

Longe do estéril turbilhão da rua,
Beneditino escreve! No aconchego
Do claustro, na paciência e no sossego,
Trabalha, e teima, e lima, e sofre, e sua!
[...]

BILAC, Olavo. In: CANDIDO, Antonio. *Presença da literatura brasileira*. São Paulo: Difel, 1966. p. 256.

Os trechos sublinhados nos versos indicam que a atividade do escritor

- A) refaz a vida nas ruas a partir da clausura.
- B) é árdua e se compõe dos rumores da vida.
- C) encontra no turbilhão da rua a sua matéria.
- D) elabora-se no recolhimento e na ausência dos rumores.
- E) é uma fusão perfeita entre a quietude e o turbilhão da rua.

QUESTÃO 03

Maninha

Chico Buarque

Se lembra da fogueira.
se lembra dos balões.
se lembra dos luars dos sertões.
A roupa no varal, feriado nacional,
as estrelas salpicadas nas canções.
Se lembra quando toda modinha falava de amor.
Pois nunca mais cantei, maninha,
depois que ele chegou.
[...]

Disponível em: <<https://www.letras.com.br/chico-buarque/maninha>>. Acesso em: 10 nov. 2017.

Em que aspecto o autor – em nome da liberdade poética – provoca um desvio da norma culta?

- A) Regência do verbo “lembrar”.
- B) Início do 7º verso por conjunção.
- C) Posição proclítica do pronome “se”.
- D) Ponto final nos dois primeiros versos.
- E) Separação com vírgulas do termo “maninha”.

QUESTÃO 04

Mãos dadas

Carlos Drummond de Andrade

Não serei o poeta de um mundo caduco.
Também não cantarei o mundo futuro.
Estou preso à vida e olho meus companheiros.
Estão taciturnos mas nutrem grandes esperanças
Entre eles, considero a enorme realidade.
O presente é tão grande, não nos afastemos.
Não nos afastemos muito, vamos de mãos dadas.
[...]

ANDRADE, Carlos Drummond de. *Sentimento do mundo*. Rio de Janeiro: Record, 2005. p. 39.

Segundo os versos, é correto afirmar que o trabalho poético está associado

- A) à vida presente e ao engajamento à realidade.
- B) às reminiscências e às revelações da memória.
- C) ao mundo que pode ser revelado a partir da imaginação.
- D) à possibilidade de cantar o futuro, embora preso ao mundo presente.
- E) à busca por atos do cotidiano, os quais se estabelecem desde o mundo pretérito.

QUESTÃO 05

Andavam devagar, olhando para trás, como quem quer voltar.
Não tinham pressa em chegar, porque não sabiam aonde iam.
Expulsos de seu paraíso por espadas de fogo, iam ao acaso, em descaminhos, no arrastão dos maus fados.

Fugiam do sol e o sol guiava-os nesse forçado nomadismo.

Adelgaçados na magreira cômica, cresciam, como se o vento os levantasse. E os braços afinados desciam-lhes aos joelhos, de mãos abanando.

[...]

Não tinham sexo, nem idade, nem condição nenhuma. Eram os retirantes, nada mais.

ALMEIDA, J. Américo de. *A bagaceira*. Rio de Janeiro: J. Olympio, 1978. p. 43.

Em relação ao texto, chega-se à conclusão de que

- A) se trata de indivíduos expulsos de sua terra, que vagam em direção a lugares amenos.
- B) o nomadismo não se dava a partir do desejo dos retirantes, mas pela crueldade do fenômeno climático que os compelia a vagar à toa.
- C) o autor retrata uma paisagem pitoresca, baseada em cenas remotas e destituídas de relação com fenômenos climáticos regionalizados.
- D) a verossimilhança do texto se estabelece num tempo longínquo e esquecido na memória afetiva do homem sertanejo nordestino.
- E) as imagens expressas pelos indivíduos simbolizam um universo paralelo ao fenômeno climático, posto que aquilo que se evidencia é a expulsão social e econômica dos retirantes.

QUESTÃO 06

Sobre esses índios assombrados com o que lhes sucedia é que caiu a pregação missionária, como um flagelo. A cristandade surgia a seus olhos como o mundo do pecado, das enfermidades dolorosas e mortais, de covardia, que se adonava do mundo indígena, tudo maculando, tudo apodrecendo.

RIBEIRO, Darcy. *O povo brasileiro*. São Paulo: Companhia das Letras, 1995. p. 43.

Que sentido no texto o autor atribui à palavra “cristandade”?

- A) Um flagelo que se abateu sobre os valores indígenas e se apossou de seu mundo.
- B) Era necessário salvar as almas de seus infortúnios, do mundo do pecado e das enfermidades.
- C) O conceito do paganismo indígena se alinhava às ideias cristãs relacionadas ao processo de colonização.
- D) A decadência dos valores primitivos de uma nação deveria encontrar na pregação religiosa um caminho, uma forma de vida menos bárbara.
- E) Na exuberância de um mundo hostil e sem religião, o lenimento ao pecado e às enfermidades dolorosas era a pregação missionária.

QUESTÃO 07



Charge de Nunes Lima, publicada na Gazeta de Alagoas nos anos 80.

Sobre a charge, é correto afirmar:

- A) a constituição texto e imagem resulta na ausência de intertextualidade.
- B) a mensagem é fundamentada na inexistência de elementos básicos da narração.
- C) a tese contida na fala do personagem está dissociada do conjunto de imagens.
- D) a expressão verbal é monológica, pois se refere a uma reflexão individual do personagem.
- E) apesar de pictórico, o conjunto expressivo se estrutura nos principais elementos da narrativa: personagem, fala, espaço e enredo.

QUESTÃO 08

Minha mãe agradeceu-lhe a amizade que me tinha, e ele respondeu com muita polidez, ainda que um tanto atado, como se carecesse de palavra pronta. Já viste não era assim, a palavra obedecia-lhe, mas o homem não é sempre o mesmo em todos os instantes. O que ele disse foi que me estimava pelas minhas qualidades e aprimorada educação; no seminário todos me queriam bem, nem podia deixar de ser assim.

ASSIS, Machado de. *Dom Casmurro*. Rio de Janeiro: Ediouro, 1997. p. 173.

Quanto aos aspectos da estrutura gramatical do texto, assinale a alternativa correta.

- A) O pronome **lhe** em “agradeceu-lhe” e “obedecia-lhe” apresenta a mesma classificação sintática.
- B) O trecho “que me estimava” poderia também ser escrito “que estimava-me” sem violar a norma culta.
- C) O uso da vírgula em “que me tinha, e ele respondeu” está incorreto.
- D) A expressão “de palavra pronta” é complemento nominal.
- E) O **me** em “que me tinha” é objeto direto.

QUESTÃO 09

Não sei se disse que isto se passava em casa de uma baronesa, que tinha a modista ao pé de si, para não andar atrás dela. Chegou a costureira, pegou do pano, pegou da agulha, pegou da linha e entrou a coser.

ASSIS, Machado de. *Várias histórias*. São Paulo: Ática, 1997. p. 106.

Assinale a alternativa correta quanto aos aspectos gramaticais do texto.

- A) A oração “se disse” é um complemento nominal.
- B) Os complementos do verbo **pegar** são objetos indiretos.
- C) A expressão **a costureira** em “Chegou a costureira” é objeto direto.
- D) O **se** em “que isto se passava” deveria estar na posição enclítica.
- E) O pronome **que** em “que tinha a modista ao pé de si” exerce função sintática de sujeito.

QUESTÃO 10

A gravidez da mulher jovem não é um problema exclusivo do nosso tempo. Isto era um fato comum e cotidiano: nossas avós casavam-se aos 15 ou 16 anos e começavam a procriar, nunca ocorrendo a ninguém daquela época que isso pudesse ser um problema, pois essas gestações eram desejadas. O que se tem constituído em preocupação é isso: o crescente número de gestações indesejadas na adolescência.

VITELLO, Nelson. *Pais & teens*, ano 2, n. 3 (adaptado).

Assinale a alternativa cujo fragmento extraído do texto apresenta um desvio da norma culta da língua quanto ao uso dos pronomes demonstrativos.

- A) “O que se tem constituído em preocupação é isso: o crescente número...”
- B) “Isto era um fato comum e cotidiano: nossas avós...”
- C) “pois essas gestações eram desejadas”
- D) “ocorrendo a ninguém daquela época”
- E) “que isso pudesse ser um problema”

QUESTÃO 11

Pessoas que _____ a cabeça erguida mesmo em situações difíceis _____ uma peculiaridade: _____-se ativas até nas crises. Esse tipo de pessoa _____ de uma dignidade independente das circunstâncias externas e, muitas vezes, _____ a capacidade de encarar o fracasso como oportunidade.

SCHONBURG, Alexander. *Rico sem dinheiro*. São Paulo: Gente, 2007. p. 55.

Qual das opções preenche adequadamente as lacunas do texto?

- A) mantém; tem; mantêm; dispõe; têm
- B) mantem; tem; mantem; dispõe; têm
- C) mantêm; têm; mantêm; dispõe; tem
- D) mantêm; têm; mantém; dispõem; tem
- E) mantém; têm; mantém; dispõem; tem

QUESTÃO 12

A um arranco mais forte, a alça de trás rebentou-se, o vaqueiro meteu as mãos pela borracha energicamente. Nada conseguindo, levantou-se resolvido a entrar na rua assim mesmo [...] A carne comprimiu-se, os ossos estalaram, rasgou-se a meia molhada e o pé amarrotado se encaixou entre as paredes da vaqueta. Fabiano soltou um suspiro largo de satisfação e dor. Em seguida tentou prender o colarinho duro no pescoço, mas os dedos trêmulos não realizaram a tarefa. Sinha Vitória auxiliou-o: o botão entrou na casa estreita e a gravata foi amarrada.

RAMOS, Graciliano. *Vidas secas*. Rio de Janeiro: Record, 2003. p. 73.

Dados os fragmentos do texto,

- I. "levantou-se resolvido a entrar na rua assim mesmo"
- II. "A carne comprimiu-se"
- III. "rasgou-se a meia molhada"
- IV. "e a gravata foi amarrada"

verifica-se que a voz passiva está presente apenas em

- A) I e II.
- B) I e III.
- C) II e IV.
- D) I, III e IV.
- E) II, III e IV.

QUESTÃO 13

Não, senhora, não se enganou, disse afinal com um tom frio e inflexível. Vendi me; pertencço lhe. A senhora teve o mau gosto de comprar um marido aviltado; aqui o tem como desejou. Podia ter feito de um caráter, talvez gasto pela educação, um homem de bem, que se enobrece com sua afeição; preferiu um escravo branco; estava em seu direito, pagava generosamente. Tem aqui esse escravo; é seu marido, porém nada mais do que seu marido.

ALENCAR, José de. *Senhora*. São Paulo: Saraiva, 2007. p. 75.

Dos termos sublinhados, qual se classifica como objeto indireto?

- A) me
- B) lhe
- C) senhora
- D) esse escravo
- E) um marido aviltado

QUESTÃO 14

Vai então, empacou o jumento em que eu vinha montado; fustiguei-o, ele deu dois corcovos, depois mais três, enfim mais um, que me sacudiu fora da sela, e com tal desastre, que o pé esquerdo me ficou preso no estribo; tento agarrar-me ao ventre do animal, mas já então, espantado, disparou pela estrada a fora.

ASSIS, Machado de. *Memórias póstumas de Brás Cubas*. São Paulo: Ateliê Editorial, 2001. p. 109.

Em qual das alternativas o trecho entre parênteses apresenta discordância de sentido em relação ao original?

- A) "fustiguei-o, ele deu dois corcovos" (açoitei-o, ele deu dois corcovos).
- B) "tento agarrar-me ao ventre do animal" (tento não me desprender do ventre do animal).
- C) "mas já então, espantado, disparou pela estrada a fora" (todavia então, atônito, desembestou estrada a fora).
- D) "Vai então, empacou o jumento em que eu vinha montado" (vinha montado, vai então, que o jumento paralisou).
- E) "depois mais três, enfim mais um, que me sacudiu fora da sela" (depois mais três, mais um, então me conteve fora da sela).

QUESTÃO 15

No dia seguinte, quinta-feira pela manhã, fizemos vela e seguimos a terra, mantendo os navios pequenos diante, por dezessete, dezesseis, quinze, catorze, doze, dez e nove braças, até meia légua de terra, onde todos nós lançamos as âncoras defronte a boca do rio. Completou-se a ancoragem mais ou menos as dez horas.

CASTRO, Sílvio. *A carta de Pero Vaz de Caminha*. Porto Alegre: L&PM, 1996. p. 76.

Quanto aos fragmentos sublinhados, assinale a alternativa cuja sequência representa o uso correto do acento indicador de crase.

- A) a terra; as âncoras; à boca do rio; a ancoragem; às dez horas.
- B) à terra; as âncoras; à boca do rio; à ancoragem; as dez horas.
- C) a terra; às âncoras; a boca do rio; a ancoragem; às dez horas.
- D) à terra; as âncoras; a boca do rio; à ancoragem; as dez horas.
- E) a terra; às âncoras; à boca do rio; a ancoragem; às dez horas.

RACIOCÍNIO LÓGICO

QUESTÃO 16

Para controlar o consumo de água de sua residência, uma dona de casa estimou as quantidades de água utilizadas nas lavagens dos utensílios utilizados no café da manhã, tendo obtido os dados apresentados na tabela.

Utensílio	Quantidade de água (mL)
Colher	120
Faca	200
Garfo	190
Pires	250
Prato	310
Xícara	420

Considerando esses dados, numa ocasião em que foram lavados três colheres, duas facas, três garfos, três pires, dois pratos e três xícaras, o consumo de água foi de

- A) 1,49 L.
- B) 2,54 L.
- C) 3,96 L.
- D) 1 490 L.
- E) 3 960 L.

QUESTÃO 17

Cap.II. Funções Lineares, Função Modular e Função Piso

[...]

Definição:

A Função Piso, que denotamos por $[[x]]$, é definida por: $[[x]] =$ maior inteiro menor ou igual a x .

Disponível em: <http://www.uff.br/webmat/Calc1_LivroOnLine/Cap02_Calc1.html>. Acesso em: 25 out. 2017.

Dadas as igualdades, no contexto do texto,

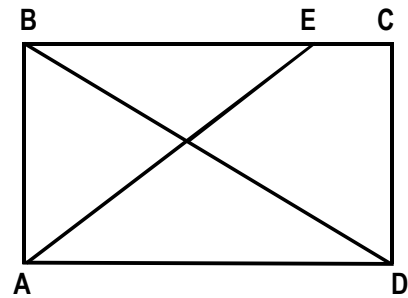
- I. $[[2]] = 2$.
- II. $[[3,1]] = 3$.
- III. $[[-1,5]] = -1$.

verifica-se que é(são) verdadeira(s)

- A) I, apenas.
- B) III, apenas.
- C) I e II, apenas.
- D) II e III, apenas.
- E) I, II e III.

QUESTÃO 18

A figura, desenhada sem escala, apresenta o projeto de uma praça retangular com 30 m de largura (AB) e 40 m de comprimento (AD), tendo dois passeios BD e AE, para circulação de pedestres, com E situado a 10 m de C.



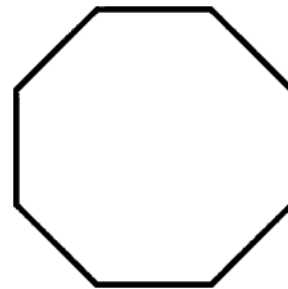
Se desprezarmos as larguras das calçadas e dos passeios e adotarmos $\sqrt{2} = 1,4$, qual é, em metros, o comprimento do passeio AE?

- A) 40
- B) 42
- C) 50
- D) 52
- E) 60

QUESTÃO 19

O que é octógono?

Octógono, em geometria, é um polígono com oito lados, com oito ângulos internos e oito ângulos externos. Um octógono regular tem todos os lados de mesmo tamanho e todos os ângulos com a mesma medida, sendo utilizado, por exemplo, como formato dos ringues das lutas de UFC (*Ultimate Fighting Championship*).



Disponível em: <<https://www.significados.com.br/octogono/>>. Acesso em: 06 ago. 2017 (adaptado).

Aplicando-se os princípios de contagem, infere-se que o número de diagonais de um octógono regular é igual a

- A) 20.
- B) 28.
- C) 32.
- D) 56.
- E) 64.

QUESTÃO 20

A política de uma empresa de entrega de correspondências estabelece que as cartas são entregues na mesma ordem em que elas foram postadas. Quantos metros, a partir da primeira entrega, andará o carteiro para entregar as cartas das casas de números 10, 70, 30, 50, 40 e 80 (ordenação de postagem) de uma rua cuja numeração das casas é ordenada (10, 20, 30, ...), se a distância entre duas casas vizinhas é de quinze metros?

- A) 45 m
- B) 105 m
- C) 170 m
- D) 255 m
- E) 280 m

QUESTÃO 21

Cada salto de algumas modalidades de disputa dos saltos ornamentais do campeonato mundial de esportes aquáticos de 2017 era avaliado por sete juízes, sendo descartadas as duas maiores e as duas menores notas. A nota atribuída ao salto era o produto da soma das três notas consideradas pelo grau de dificuldade do salto. Se a tabela apresenta as notas atribuídas pelos juízes aos saltos dos três atletas que ganharam medalhas numa certa modalidade e os graus de dificuldade respectivos,

Atletas	Notas							Grau de dificuldade
	Juiz 1	Juiz 2	Juiz 3	Juiz 4	Juiz 5	Juiz 6	Juiz 7	
A	7,5	8,0	6,5	7,5	7,0	8,0	7,5	3,2
B	8,0	7,0	6,5	8,0	7,5	7,0	6,5	3,4
C	8,0	8,5	9,0	8,5	7,5	9,0	8,0	3,0

os medalhistas de ouro, prata e bronze foram, respectivamente, os atletas

- A) A, B e C.
- B) A, C e B.
- C) B, C e A.
- D) C, A e B.
- E) C, B e A.

QUESTÃO 22

REGRAS OFICIAIS DO VOLEIBOL

[...]

6.2 PARA VENCER UM SET

Vencerá um set, exceto o 5º set, a equipe que primeiro alcançar a marca de 25 pontos, com uma diferença mínima de 2 pontos.

[...]

7.4 POSIÇÕES

As posições dos jogadores em quadra são numeradas da seguinte forma: três jogadores ao longo da extensão da rede formam a linha de frente e ocupam as posições 4 (frente-esquerda), 3 (frente central) e 2 (frente-direita) e os três restantes formam a linha de trás, ocupando as posições 5 (traseira esquerda), 6 (traseira central) e 1 (traseira direita).

[...]

7.6 ROTAÇÃO

A ordem de rotação é determinada pela formação inicial da equipe e controlada através da ordem de saque e posição dos jogadores durante todo o set. Quando a equipe receptora do saque ganha um ponto (*recupera a bola*), os jogadores avançam uma posição no sentido dos ponteiros do relógio: jogador na posição 2 avança para a posição 1 para sacar, jogador da 1 retorna para a posição 6 e assim por diante.

[...]

Disponível em: <<http://2017.cbv.com.br/pdf/regulamento/quadra/RegrasOficiaisdeVoleibol-2015-2016.pdf>>. Acesso em: 19 jun. 2017.

Após fazer o primeiro ponto do primeiro set de uma partida de voleibol, a equipe que começou sacando somente conseguiu fazer outros pontos (um de cada vez) após a outra equipe conseguir três pontos consecutivos. Dadas as afirmativas a respeito desse contexto,

- I. O placar do set foi 25 x 9.
- II. O jogador que efetuou o primeiro saque terminou o set na posição 5.
- III. O último jogador da equipe vencedora a sacar foi o que iniciou o set na posição 4.

verifica-se que está(ão) correta(s)


- A) I, II e III.
- B) I e III, apenas.
- C) I e II, apenas.
- D) III, apenas.
- E) II, apenas.

QUESTÃO 23

A quadra de tênis e suas medidas

[...]

O tênis é jogado em uma superfície plana retangular, geralmente de grama, saibro ou em piso duro. A quadra tem 23,78 m de comprimento, e 8,23 m de largura para partidas de simples, e 10,97 m para partidas de duplas, como mostra a figura.



Dadas as afirmativas sobre essas dimensões,

- I. A razão entre o comprimento da quadra para partidas de simples e a largura para partidas de simples é menor que a razão entre o comprimento da quadra para partidas de duplas e a largura para partidas de duplas.
- II. A razão entre as áreas da quadra para partidas de duplas e para partidas de simples é igual à razão entre as larguras da quadra para partidas de duplas e para partidas de simples.
- III. A razão entre as diagonais da quadra para partidas de duplas e para partidas de simples é igual à razão entre os comprimentos da quadra para partidas de duplas e para partidas de simples.

verifica-se que está(ão) correta(s)

- A) I, apenas.
- B) II, apenas.
- C) I e III, apenas.
- D) II e III, apenas.
- E) I, II e III.

QUESTÃO 24

Dadas as proposições quantificadas,

- I. $\forall x \in \mathbb{R}$, se $x < -2$, então $x^2 > 4$.
- II. $\forall x \in \mathbb{Z}$, se x é par, então x não é primo.
- III. $\exists x \in \mathbb{R}$ tal que $x^3 < 0$.
- IV. $\exists x \in \mathbb{Z}$ tal que $x^2 + 1 = 0$.

verifica-se que são verdadeiras apenas

- A) II, III e IV.
- B) I, II e IV.
- C) II e III.
- D) I e IV.
- E) I e III.

QUESTÃO 25

Dadas as afirmativas a respeito de divisibilidade de inteiros,

- I. Um inteiro cuja classe das unidades simples é 369 é divisível por 3.
- II. Um inteiro cuja classe das unidades simples é 148 é múltiplo de 4.
- III. Um inteiro cuja casa das unidades simples é 700 é divisível por 100.

verifica-se que está(ão) correta(s)

- A) I, apenas.
- B) III, apenas.
- C) I e II, apenas.
- D) II e III, apenas.
- E) I, II e III.

CONHECIMENTOS ESPECÍFICOS

QUESTÃO 26

Dados os fundamentos da República Federativa do Brasil previstos na Constituição Federal de 1988,

- I. A dignidade da pessoa humana.
- II. O repúdio ao terrorismo e ao racismo.
- III. O pluralismo político.
- IV. A cidadania.

verifica-se que está(ão) correto(s)

- A) II, apenas.
- B) I e II, apenas.
- C) III e IV, apenas.
- D) I, III e IV, apenas.
- E) I, II, III e IV.

QUESTÃO 27

Sobre os direitos e as garantias fundamentais previstos na Constituição Federal brasileira, assinale a alternativa correta.

- A) A lei penal não retroagirá, mesmo que para benefício do réu.
- B) Será concedida extradição de estrangeiro por crime político ou de opinião.
- C) É garantido o direito de propriedade, que deverá atender a sua função social.
- D) A obrigatoriedade de associação para fins lícitos é assegurada pela Constituição.
- E) É livre a manifestação do pensamento, permitindo o anonimato apenas nos casos previstos na Constituição Federal.

QUESTÃO 28

Acerca da Lei nº 11.340/2006, é correto afirmar:

- A) A violência doméstica e familiar contra a mulher não constitui uma violação dos direitos humanos, salvo nos casos de morte, lesão, sofrimento físico, sexual ou psicológico.
- B) No atendimento à mulher em situação de violência doméstica e familiar, a autoridade policial não deverá encaminhar a ofendida ao hospital ou posto de saúde, e sim, ao Instituto Médico Legal, cabendo ao médico legista prestar o primeiro atendimento.
- C) O poder público desenvolverá políticas que visem garantir os direitos humanos das mulheres no âmbito das relações domésticas e familiares no sentido de assegurá-las de toda forma de negligência, discriminação, exploração, violência, crueldade e opressão.
- D) Serão asseguradas às mulheres as condições para o exercício efetivo dos direitos à vida, à segurança, à saúde, à alimentação, à educação, à cultura, à moradia, ao acesso à justiça, ao esporte, ao lazer, ao trabalho, à cidadania, à liberdade, à dignidade, ao respeito e à convivência familiar e comunitária.
- E) Toda mulher, dependendo de sua classe, raça, etnia, orientação sexual, renda, cultura, nível educacional, idade e religião, goza dos direitos fundamentais inerentes à pessoa humana, sendo-lhe asseguradas as oportunidades e facilidades para viver sem violência, preservar sua saúde física e mental e seu aperfeiçoamento moral, intelectual e social.

QUESTÃO 29

De acordo com o Estatuto da Criança e do Adolescente, dadas as afirmativas sobre o jovem que trabalha na condição de aprendiz,

- I. É permitido trabalho noturno, realizado entre as vinte e duas horas de um dia e as cinco horas do dia seguinte, desde que devidamente remunerado e em locais não prejudiciais à sua formação.
- II. É vedado trabalho perigoso, insalubre ou penoso, desde que prejudique o seu desenvolvimento físico ou psíquico.
- III. Ao adolescente aprendiz, maior de quatorze anos, são assegurados os direitos trabalhistas e previdenciários.

verifica-se que está(ão) correta(s)

- A) I, apenas.
- B) III, apenas.
- C) I e II, apenas.
- D) II e III, apenas.
- E) I, II e III.

QUESTÃO 30

Conduzir veículo automotor com capacidade psicomotora alterada em razão da influência de álcool ou de outra substância psicoativa que determine dependência, acarretará na pena de

- A) detenção, de 6 (seis) meses a 2 (dois) anos, multa e suspensão ou proibição de se obter a permissão ou a habilitação para dirigir veículo automotor.
- B) detenção, de 6 (seis) meses a 3 (três) anos, multa e suspensão ou proibição de se obter a permissão ou a habilitação para dirigir veículo automotor.
- C) detenção, de 10 (dez) meses a 3 (três) anos, multa e suspensão ou proibição de se obter a permissão ou a habilitação para dirigir veículo automotor.
- D) detenção, de 12 (doze) meses a 2 (dois) anos, multa e suspensão ou proibição de se obter a permissão ou a habilitação para dirigir veículo automotor.
- E) detenção, de 12 (doze) meses a 3 (três) anos, multa e suspensão ou proibição de se obter a permissão ou a habilitação para dirigir veículo automotor.

QUESTÃO 31

Embora não seja sua função precípua, um guarda municipal deve estar atento aos equipamentos de segurança que devem ser utilizados em locais públicos para prevenção de acidentes. Dadas as afirmativas sobre o que a legislação vigente estabelece em relação às cores desses equipamentos,

- I. A cor vermelha é a cor empregada para identificar e distinguir equipamentos de proteção e combate a incêndio, e sua localização, inclusive portas de saída de emergência.
- II. A cor laranja é utilizada em equipamentos de salvamento aquático, como, por exemplo, boias e coletes salva-vidas.
- III. A cor verde é a cor usada em placas que indicam "cuidado!", como, por exemplo, "cuidado, piso molhado!".

verifica-se que está(ão) correta(s)

- A) II, apenas.
- B) III, apenas.
- C) I e II, apenas.
- D) I e III, apenas.
- E) I, II e III.

QUESTÃO 32

Na labuta diuturna, um guarda municipal pode ser instado a realizar ações de primeiros socorros em algum transeunte acometido de um mal súbito, de uma queda, ou vítima de uma queimadura. Nesse contexto, dadas as afirmativas,

- I. Um dos possíveis sinais de traumatismo cranioencefálico é a otorragia.
- II. O primeiro procedimento a ser realizado para estancar o sangramento moderado de um corte profundo em uma perna esquerda é a aplicação de um torniquete no membro superior respectivo.
- III. Em casos de lesão provocada por queimaduras não se deve usar gelo.

verifica-se que está(ão) correta(s)

- A) I, apenas.
- B) II, apenas.
- C) I e III, apenas.
- D) II e III, apenas.
- E) I, II e III.

QUESTÃO 33

Um guarda municipal violou, sem ordem judicial, um domicílio. Nesse contexto, dadas as afirmativas,

- I. O guarda municipal somente pode ser sancionado administrativamente.
- II. O guarda municipal pode ser, administrativamente, sancionado com advertência.
- III. O guarda municipal pode ser, administrativamente, demitido.

verifica-se que, de acordo com a Lei nº 4.898/1965, está(ão) correta(s)

- A) I, apenas.
- B) III, apenas.
- C) I e II, apenas.
- D) II e III, apenas.
- E) I, II e III.

QUESTÃO 34

A Lei nº 4.898/1965 regula o direito de representação e o processo de responsabilidade administrativa civil e penal, nos casos de abuso de autoridade. Dentre as sanções de natureza penal previstas na Lei, está a

- A) perda do cargo e a inabilitação para o exercício de qualquer outra função pública por prazo de até 5 (cinco) anos.
- B) suspensão do cargo ou função por prazo de 90 (noventa) dias, com perda de vencimentos e vantagens.
- C) suspensão de porte de arma de fogo por tempo indeterminado.
- D) prestação de serviços comunitários de 6 (seis) a 12 (doze) meses.
- E) detenção por 10 (dez) dias a 6 (seis) meses.

QUESTÃO 35

Considere a situação hipotética: William, Serena e Juliana são guardas municipais de um município cuja população é de 39 200 habitantes, não integrante de nenhuma região metropolitana. Diante disso, dadas as afirmativas segundo o Estatuto do Desarmamento,

- I. Se William possuir ou mantiver sob sua guarda arma de fogo, acessório ou munição, de uso permitido, em desacordo com determinação legal ou regulamentar, no interior de sua residência ou dependência desta, poderá ser condenado a uma pena de detenção, de 1 (um) a 3 (três) anos, e multa.
- II. Se Serena disparar arma de fogo em lugar habitado ou em suas adjacências, em via pública ou em direção a ela, poderá ser condenada a uma pena de reclusão, de 4 (quatro) a 7 (sete) anos, e multa.
- III. Se Juliana portar, detiver, adquirir, fornecer, receber, tiver em depósito, transportar, ceder, ainda que gratuitamente, emprestar, remeter, empregar, mantiver sob guarda ou ocultar arma de fogo, acessório ou munição, de uso permitido, sem autorização e em desacordo com determinação legal ou regulamentar, poderá ser condenada a uma pena de reclusão, de 8 (oito) a 11 (onze) anos, e multa.

verifica-se que está(ão) correta(s)

- A) I, apenas.
- B) III, apenas.
- C) I e II, apenas.
- D) II e III, apenas.
- E) I, II e III.

QUESTÃO 36

De acordo com a Constituição Federal, dadas as afirmativas a respeito da segurança pública,

- I. Os Municípios poderão constituir guardas municipais destinadas à proteção de seus bens, serviços e instalações.
- II. Aos guardas municipais cabem a preservação da ordem pública.
- III. Às polícias civis incumbem as funções de polícia judiciária e a apuração de infrações penais.
- IV. As polícias militares e corpos de bombeiros militares, forças auxiliares e reserva do Exército, subordinam-se, juntamente com as polícias civis, aos Governadores dos Estados, do Distrito Federal e dos Territórios.

verifica-se que está(ão) correta(s)

- A) II, apenas.
- B) I e IV, apenas.
- C) II e III, apenas.
- D) I, III e IV, apenas.
- E) I, II, III e IV.

QUESTÃO 37

LEI Nº 12.288, DE 20 DE JULHO DE 2010.

Institui o Estatuto da Igualdade Racial; altera as Leis nºs 7.716, de 5 de janeiro de 1989, 9.029, de 13 de abril de 1995, 7.347, de 24 de julho de 1985, e 10.778, de 24 de novembro de 2003.

O PRESIDENTE DA REPÚBLICA Faço saber que o Congresso Nacional decreta e eu sanciono a seguinte Lei:

TÍTULO I

DISPOSIÇÕES PRELIMINARES

Art. 1º Esta Lei institui o Estatuto da Igualdade Racial, destinado a garantir à população negra a efetivação da igualdade de oportunidades, a defesa dos direitos étnicos individuais, coletivos e difusos e o combate à discriminação e às demais formas de intolerância étnica.

Disponível em: <http://www.planalto.gov.br/ccivil_03/_ato2007-2010/2010/lei/l12288.htm>.
Acesso em: 17 nov. 2017.

Dadas as afirmativas sobre o que preceitua a Lei nº 12.288/2010,

- I. Toda distinção, exclusão, restrição ou preferência baseada em raça, cor, descendência ou origem nacional ou étnica que tenha por objeto anular ou restringir o reconhecimento, gozo ou exercício, em igualdade de condições, de direitos humanos e liberdades fundamentais nos campos político, econômico, social, cultural ou em qualquer outro campo da vida pública ou privada, é considerada discriminação racial ou étnico-racial.
- II. É assegurado às vítimas de discriminação étnica o acesso aos órgãos de Ouvidoria Permanente, à Defensoria Pública, ao Ministério Público e ao Poder Judiciário, em todas as suas instâncias, para a garantia do cumprimento de seus direitos.
- III. As pessoas pertencentes à população negra são aquelas de cor preta ou parda.

verifica-se que está(ão) correta(s)

- A) I, apenas.
- B) III, apenas.
- C) I e II, apenas.
- D) II e III, apenas.
- E) I, II e III.

QUESTÃO 38

Considere a situação hipotética: João é brasileiro naturalizado há mais de 35 anos. Conhecido nacionalmente por trabalhar como advogado, economista e lecionar matérias de sociologia e direitos humanos numa Universidade Federal. Desempenha um grande papel de defensor da ética profissional e possui uma reputação impecável. Nesse contexto, qual dos cargos públicos, de acordo com a Constituição Federal, poderá ser ocupado por João?

- A) Diplomata.
- B) Oficial das Forças Armadas.
- C) Ministro de Estado da Defesa.
- D) Ministro do Supremo Tribunal Federal.
- E) Ministro do Superior Tribunal de Justiça.

QUESTÃO 39

O Código de Trânsito Brasileiro (CTB) prevê penalidades que podem ser aplicadas pela autoridade de trânsito às infrações nele previstas. Dadas as penalidades,

- I. Retenção do veículo.
- II. Remoção do veículo.
- III. Recolhimento da Carteira Nacional de Habilitação.
- IV. Frequência obrigatória em curso de reciclagem.

verifica-se que, de acordo com o CTB, é(são) penalidade(s)

- A) IV, apenas.
- B) I e IV, apenas.
- C) II e III, apenas.
- D) I, II e III, apenas.
- E) I, II, III e IV.

QUESTÃO 40

Dados os princípios que norteiam a atuação do servidor público,

- I. Dignidade, decoro, zelo e consciência dos princípios morais.
- II. Moralidade administrativa, como elemento dissociável de sua aplicação e de sua finalidade.
- III. Cortesia, boa vontade e harmonia com a estrutura organizacional, respeitando seus colegas e cada cidadão.

verifica-se que está(ão) correto(s)

- A) I, apenas.
- B) II, apenas.
- C) I e III, apenas.
- D) II e III, apenas.
- E) I, II e III.



ATENÇÃO!

O candidato está **proibido** de **destacar** esta folha com o **gabarito**, sob pena de **eliminação** do processo. Somente o **Fiscal de Sala** está autorizado a fazer isso no momento da saída do candidato em definitivo do Local de Prova.

Gabarito do Candidato

1	2	3	4	5	6	7	8	9	10	11	12	13	14	15	16	17	18	19	20	
21	22	23	24	25	26	27	28	29	30	31	32	33	34	35	36	37	38	39	40	

EDITAL Nº 01/2017 – Município de Barra de São Miguel/AL

7.1. A COPEVE/UFAL divulgará o gabarito preliminar, juntamente com as Provas Objetivas, no endereço eletrônico: www.copeve.ufal.br, na data provável de **26/12/2017**, a partir das 21h00.

GABARITO OFICIAL

www.copeve.ufal.br

REALIZAÇÃO



www.ufal.edu.br



Você confia no resultado!

www.copeve.ufal.br



www.fundepes.br



Município de Barra de São Miguel - Alagoas