



# Concurso Público Município de Maceió

PROVA TIPO

3

2017

MUNICÍPIO  
DE MACEIÓ  
Edital nº 01/2017



Maceió/AL


Cargo (Nível Superior – NS):

## 05. PROFESSOR II - HISTÓRIA

### Provas de Português, Raciocínio Lógico e Conhecimentos Específicos

#### CADERNO DE QUESTÕES

#### INSTRUÇÕES GERAIS

1. Este **Caderno de Questões** somente deverá ser aberto quando for autorizado pelo Fiscal.
2. Antes de iniciar a prova, confira se o tipo da prova do **Caderno de Questões** é o mesmo da etiqueta da banca e da **Folha de Respostas** de questões objetivas.
3. Ao ser autorizado o início da prova, verifique se a numeração das questões e a paginação estão corretas. Verifique, também, se contém **50 (cinquenta)** questões objetivas com 5 (cinco) alternativas cada. Caso contrário, comunique imediatamente ao Fiscal.
4. O tempo disponível para esta prova é de **4 horas**. Faça-a com tranquilidade, mas **controle seu tempo**. Esse **tempo** inclui a marcação da **Folha de Respostas** de questões objetivas.
5. Você somente poderá sair em definitivo do Local de Prova depois de decorridas **2 horas** do início da aplicação.
6. Na **Folha de Respostas** de questões objetivas, confira seu nome, número do seu documento de identificação, tipo de prova e cargo escolhido.
7. Em hipótese alguma lhe será concedida outra **Folha de Respostas** de questões objetivas.
8. Preencha a **Folha de Respostas** de questões objetivas utilizando caneta esferográfica de tinta azul ou preta. Na **Folha de Respostas** de questões objetivas, preencha completamente o círculo correspondente à alternativa escolhida, conforme modelo:  

9. Será atribuído o valor ZERO à questão que contenha na **Folha de Respostas** de questões objetivas: dupla marcação, marcação rasurada, emendada ou com "X", não preenchida totalmente ou que não tenha sido transcrita.
10. A correção da prova objetiva será efetuada de forma eletrônica, considerando-se apenas o conteúdo da **Folha de Respostas** de questões objetivas.
11. Caso a Comissão julgue uma questão como sendo nula, os pontos serão atribuídos a todos os candidatos.
12. Não será permitida qualquer espécie de consulta.
13. Ao terminar a prova, **devolva** ao **Fiscal** de Sala este **Caderno de Questões**, juntamente com a **Folha de Respostas** de questões objetivas, e **assine a Lista de Presença**.
14. Na sala que apresentar apenas 1 (um) Fiscal, os 3 (três) últimos candidatos somente poderão ausentar-se da sala juntos, após a **assinatura da Ata de Encerramento** de provas.
15. **Assine** neste Caderno de Questões e **coloque** o número do seu documento de identificação (RG, CNH etc.).

Boa Prova!

N. do doc. de identificação (RG, CNH etc.):

Assinatura do(a) candidato(a):



## PORTUGUÊS

### QUESTÃO 01

#### Entretanto

Mart'nália

Não vá agora, deixa eu melhorar  
Não fique triste, tudo vai passar  
É só ciúme, doença que contrai porque te amo demais  
**Mas também** é loucura, loucura tem cura, ciúme também  
E paixão é o que me faz bem

**Entretanto** não vá  
Não vá me abandonar  
Você é o remédio  
Que me tira do tédio, quando me faz amar  
[...]

Disponível em: <<https://www.lettras.mus.br/martalia/717507/>>. Acesso em: 11 fev. 2017.

Os termos destacados expressam, respectivamente, relação semântica, adequada ao contexto, de

- A) concessão e conformidade.
- B) acréscimo e sequência.
- C) oposição e conclusão.
- D) adição e adversidade.
- E) contraste e causa.

### QUESTÃO 02

[...]

#### 4. Nada de exageros

Consumir dentro do limite das próprias economias é um bom exemplo para as crianças. "Endividar-se para consumir não está certo", afirma a advogada Noemi Friske Momberger, autora do livro *A publicidade dirigida a crianças e adolescentes, regulamentos e restrições*. Isso vale tanto para as crianças como para os pais. É preciso dar exemplo. Não adianta inventar regras apenas para quem tem menos de 1 metro e meio. É preciso ajudar as crianças a entender o que cabe no orçamento familiar. "Explico para meus filhos que não podemos ter algumas coisas, mesmo que muitos na escola tenham três vezes mais", diz a professora de Inglês Lucia Razeira, de 30 anos, mãe de Vitor, de 7, e Clara, de 10.

[...]

Disponível em: <<http://revistaepoca.globo.com/Revista/Epoca/0,,EM158402-15228,00-EU+QUERO+EU+QUERO+EU+QUERO.html>>. Acesso em: 07 fev. 2017.

Considerando as características predominantes, o gênero textual

- A) é delimitado pela esfera do campo opinativo, uma vez que defende o ponto de vista de que é preciso haver limites para o consumo, por meio de três argumentos básicos.
- B) é uma notícia, já que narra um fato verídico, com informações sobre a necessidade de se ensinar os limites do consumo.
- C) foi totalmente explicitado no recorte apresentado, já que diz respeito a um artigo de opinião.
- D) se enquadra no tipo narrativo, uma vez que há predomínio de sequências descritivas.
- E) é seguramente uma reportagem em que se observam argumentos do autor.

### QUESTÃO 03

Tente outra vez

Raul Seixas

Tente!  
Levante sua mão sedenta  
E recomece a andar  
Não pense  
Que a cabeça aguenta  
Se você parar  
Não! Não! Não!  
Não! Não! Não!  
Há uma voz **que** canta  
Uma voz **que** dança  
Uma voz **que** gira  
(Gira!)  
Bailando no ar  
Uh! Uh! Uh!  
[...]

Disponível em: <<https://www.lettras.mus.br/raul-seixas/48334/>>. Acesso em: 12 fev. 2017.

No texto, a palavra destacada **que** é

- A) pronome relativo com função de sujeito.
- B) pronome relativo com função de objeto direto.
- C) pronome relativo com função de complemento nominal.
- D) conjunção integrante, introduzindo orações substantivas.
- E) conjunção integrante, sem função nos versos.

### QUESTÃO 04



Disponível em: <<https://www.stoodi.com.br/blog/2016/02/15/12-dicas-para-nao-esquecer-mudancas-do-novo-acordo-ortografico-da-lingua-portuguesa/>>. Acesso em: 10 fev. 2017.

Na gravura, o personagem brinca com a reforma ortográfica. Com relação ao emprego do hífen, assinale a alternativa correta quanto à grafia da palavra.

- A) Recém casado.
- B) Mal entendido.
- C) Semi-interno.
- D) Superrevista.
- E) Ante-aurora.

QUESTÃO 05

Canção de nuvem e vento

Mario Quintana

Medo da nuvem  
Medo Medo  
Medo da nuvem que vai crescendo  
Que vai se abrindo  
Que não se sabe  
O que vai saindo  
Medo da nuvem Nuvem Nuvem  
Medo do vento  
Medo Medo  
Medo do vento que vai ventando  
Que vai falando  
Que não se sabe  
O que vai dizendo  
Medo do vento Vento Vento  
Medo do gesto  
Mudo  
Medo da fala  
Surda  
Que vai movendo  
Que vai dizendo  
Que não se sabe...  
Que bem se sabe  
Que tudo é nuvem que tudo é vento  
Nuvem e vento Vento Vento!

Disponível em: <<http://mario-quintana-rh.blogspot.com.br/2013/09/cancao-de-nuvem-e-vento.html>>.  
Acesso em: 06 fev. 2017.

Dadas as afirmativas em relação ao poema,

- I. A repetição dos termos e o uso de letras maiúsculas sugerem o imenso pavor do eu lírico diante da nuvem que se avoluma e da força do vento.
- II. No contexto poético, o vento é personificado, pois o eu lírico lhe confere ações humanas. Assim, fica evidente o uso da linguagem conotativa.
- III. O autor explora a repetição enfática de uma ou mais palavras no início dos versos, o que caracteriza a figura de linguagem denominada *anáfora*.
- IV. No final do poema, o verso "Que não se sabe" é mudado por "Que bem se sabe". Essa alteração significa que o eu lírico continuará temendo a nuvem e o vento.

verifica-se que estão corretas apenas

- A) I, III e IV.
- B) I, II e III.
- C) III e IV.
- D) II e IV.
- E) I e II.

QUESTÃO 06



Disponível em: <<http://pggabaritos.blogspot.com.br/2012/07/pronome-exercicios-2.html>>.  
Acesso em: 11 fev. 2017.

Considerando a proximidade dos personagens, que se manifestam verbalmente na gravura, aos objetos a que eles fazem referência, quais pronomes demonstrativos preenchem, correta e respectivamente, as lacunas?

- A) ESTA e ISSO.
- B) ESTA e ESTA.
- C) ESSA e ESTA.
- D) ESSA e ESSA.
- E) ESSA e ISSO.

QUESTÃO 07



Disponível em: <<http://umvirgulacinco por cento.blogspot.com.br/>>. Acesso em: 09 fev. 2017.

No trecho do quadro, é correto afirmar que a vírgula foi empregada em um período

- A) composto, para separar oração intercalada.
- B) composto, para separar a oração principal da subordinada.
- C) composto, para separar orações pertencentes a uma mesma categoria.
- D) simples, para separar termos de uma mesma função sintática.
- E) simples, para isolar adjuntos adverbiais deslocados.

### QUESTÃO 08

#### Lendo o mundo e escrevendo a vida

O acesso à informação cada vez mais facilitado colocou às claras dois fatos contraditórios. Por um lado, o jovem tem cada vez mais textos à sua frente, quando acessa uma mídia social. Por outro lado, ainda há muitas dificuldades que esse jovem enfrenta para expressar suas ideias através de textos. Como isso ocorre e qual o papel do educador na formação desse leitor escritor?

Difícil identificar o que amedronta mais um aluno: um texto para ser interpretado ou uma folha em branco para que ele a preencha produzindo seu próprio texto. Estes dois atos parecem muito simples para quem analisa, fria e superficialmente, o desenrolar dos ensinamentos a partir da primeira série do ensino fundamental. A expectativa para que a criança comece a ler e escrever, seja por parte dos pais, seja por parte dos educadores, é muito grande; tanto que algumas crianças já vêm para a escola quase alfabetizadas.

O desafio, porém, não é apenas colocá-la em contato com as letras. Vai muito além disso. Há vários pequenos processos dentro deste processo maior chamado leitura e escrita. Quando o texto deixa de ser apenas um modelo do “bem falar e bem escrever”, passa-se a estudar outras funções intrínsecas às suas mais diversas finalidades. Um texto pode divertir, informar, sugerir, entreter, apelar, insinuar, argumentar e assim por diante. Como, então, aproximar o aluno deste mundo tão variado, fazendo com que ele consiga enxergar essa diversidade e entendê-la?

[...]

LÍNGUA PORTUGUESA. Conhecimento Prático. Ed. Escala. n. 62. 2017.

Em se tratando dos aspectos estruturais e das estratégias discursivas utilizadas pelo autor do texto, é válido afirmar que

- A) há, no texto, opção em usar expressões que aludem à abordagem temática do tipo bilateral quando se escreve: “[...] Por um lado, o jovem tem cada vez mais textos à sua frente, quando acessa uma mídia social. Por outro lado, ainda há muitas dificuldades [...]”.
- B) o ponto de interrogação em: “Como isso ocorre e qual o papel do educador na formação desse leitor escritor?” pontua a formulação de uma pergunta, cuja resposta se encontra no primeiro parágrafo.
- C) o segundo parágrafo apresenta, inicialmente, um conectivo de conclusão, representado pela conjunção “porém”, que estabelece uma relação de dedução, de fecho.
- D) há, no contexto, predominância de traços descritivos mesclados a comentários interpretativos do autor.
- E) há, no contexto, relatos de fatos reais e cotidianos associados a análises sentimentais e conflitos internos.

### QUESTÃO 09

Quem forma **se** forma e re-forma ao formar e quem é formado forma-se e forma ao ser formado.

FREIRE, P. *Pedagogia da autonomia: saberes necessários à prática educativa*. 34. ed. São Paulo: Paz e Terra, 1996. p. 67.

No fragmento de texto, o vocábulo destacado **se** classifica-se como

- A) índice de indeterminação do sujeito.
- B) parte integrante do verbo.
- C) pronome apassivador.
- D) pronome reflexivo.
- E) partícula expletiva.

### QUESTÃO 10

#### Crianças e adolescentes na Internet: a responsabilidade dos pais ou responsáveis

Muito se discute sobre os eventuais benefícios ou malefícios às crianças e adolescentes decorrentes do uso da Internet. No Brasil, a preocupação justifica-se pelo número crescente de acesso desses jovens à rede mundial de computadores. **Embora** não se tenham dados estatísticos sobre o acesso dessa camada da população brasileira, acredita-se **que** eles sejam responsáveis pela maioria dos acessos à rede mundial de computadores. Dados recentes demonstram que mais de 20 milhões de pessoas acessam diariamente a Internet com os mais variados interesses e necessidades, uma vez que ela acabou se tornando a intermediária de relações pessoais e comerciais.

Quando a **Internet** é utilizada para obter-se **informação** com vista a **pesquisas, estudos, conversas** entre amigos, notadamente, concluir-se-ia que ela é um bem. Mas, ainda assim, teríamos que especular sobre a fonte de informação e com quem se relacionam esses jovens. Seria essa fonte segura? Seria essa fonte capaz de prover informações confiáveis para contribuir com o processo educacional? Seriam esses relacionamentos estabelecidos com pessoas confiáveis? [...]

Disponível em: <<http://meuartigo.brasilecola.uol.com.br/educacao/criancas-adolescentes-na-internet-responsabilidade.html>>. Acesso em: 10 fev. 2017.

Dadas as afirmativas sobre o texto,

- I. O elemento articulador destacado **Embora** atribui ao contexto uma relação semântica de concessão.
- II. O vocábulo destacado **que** inicia uma oração subordinada substantiva objetiva direta.
- III. As palavras destacadas **Internet, informação, pesquisas, estudos e conversas** representam mecanismos de coesão semântica, já que exemplificam relação de hiponímia e hiponímia.

verifica-se que está(ão) correta(s)

- A) I, II e III.
- B) II e III, apenas.
- C) I e III, apenas.
- D) II, apenas.
- E) I, apenas.



QUESTÃO 11

Se, na educação básica, \_\_\_\_ homogeneidade de conteúdos básicos é uma condição essencial de equidade e de cidadania, na educação superior \_\_\_\_ insistência em um “modelo único” de universidade tem levado na prática \_\_\_\_ consolidação das desigualdades e \_\_\_\_ desqualificação da grande maioria dos estudantes e seus cursos, por contraste com um suposto padrão de “qualidade” que precisaria ser melhor explicitado e compreendido.

CORRÊA, S. B.; MASSON, M. A. C. *Indivíduo, universidade e sociedade brasileira*. Brasília: Educação Brasileira, 1995. p. 47.

Assinale a alternativa que completa, correta e respectivamente, as lacunas do texto.

- A) à / à / a / à
- B) à / à / a / a
- C) a / a / à / à
- D) a / à / à / à
- E) a / a / a / à

QUESTÃO 12

Dia a dia acelerado

Com a mente inquieta, a ansiedade prejudica as atividades do cotidiano – mais do que até um ansioso pode imaginar!

[...]

“Ansiedade é o excesso de futuro”, resume Marcelo Santiago, coach de alta performance e palestrante motivacional. Marcelo lembra um estudo feito pelo Instituto de Psicologia da Universidade de São Paulo que constatou que 95% do sofrimento humano **é causado** pelo pensamento e pela imaginação. “As pessoas ficam presas ao passado e não conseguem se desligar do ‘problema’ ou de um fato que já aconteceu ou então estão preocupados demais com o futuro (‘pré-ocupar’ significa ocupar-se antes). Às vezes, aquele filmezinho só acontece na mente e nem chega de fato a acontecer. Isso acaba gerando medo, estresse e ansiedade”, explica o coach.

SEGREDOS DA MENTE. *Cérebro e Ansiedade*. Ano 2. n. 3, 2017.

A propósito da concordância do verbo e do predicativo destacados no texto, é correto afirmar que

- A) não está de acordo com a norma padrão. Uma situação análoga ocorre no fragmento “A maioria das pessoas ficaria curiosa em saber o que ela quer falar...”
- B) o singular é que é correto, para concordar com o núcleo do sujeito simples, que é o substantivo *humano*.
- C) o plural é que é correto, para concordar com o sujeito composto *pensamento e imaginação*.
- D) o singular é que é correto, porque o núcleo do sujeito é o substantivo *sofrimento*.
- E) é admissível o singular ou o plural.

QUESTÃO 13



Disponível em: <http://veredasdalíngua.blogspot.com.br/2012/03/regencia-verbal-i.html>. Acesso em: 08 fev. 2017.

No que concerne aos aspectos morfosintáticos usados na construção da primeira fala da tira, dadas as afirmativas,

- I. O pronome **lhe** encontra-se enclítico por não haver palavras que o atraiam para antes da locução verbal.
- II. Na utilização prática da língua, a colocação dos pronomes oblíquos é determinada pela eufonia. Considerando o contexto em que se encontra, a posição do pronome **lhe** poderia ser alterada, sem prejuízos à norma gramatical.
- III. No contexto referente, o pronome oblíquo **lhe** desempenha função sintática de adjunto adnominal.
- IV. No contexto referente, o verbo **ensinar** tem sentido de **doutrinar**. Assim, quanto à regência, **ensinar** é verbo intransitivo.

verifica-se que estão corretas apenas

- A) I, III e IV.
- B) I, II e III.
- C) III e IV.
- D) II e IV.
- E) I e II.

QUESTÃO 14

Qual a diferença entre robô, androide e ciborgue?

Robôs **são** máquinas que fazem tarefas pré-programadas de forma autônoma. Quando o robô **tem** aspecto humano **é** um androide. Já os ciborgues são híbridos: parte humanos, parte máquinas.

Disponível em: <super.abril.com.br/blog/oraculo/qual-a-diferenca-entre-robot-androide-e-ciborgue>. Acesso em: 04 abr. 2017.

No contexto, os verbos destacados possuem valores semânticos do presente do indicativo e sugerem noções


- A) de presente em relação a um fato passado.
- B) que não se referem a um tempo específico.
- C) que perduram depois do momento da fala.
- D) corriqueiras, habituais ou repetitivas.
- E) de futuro próximo ou indeterminado.

QUESTÃO 15

**O QUE A LEITURA  
PODE FAZER POR VOCÊ?**

**Bastam 15 minutos por dia mergulhado  
nos livros para você se dar melhor  
nos estudos e na vida**

- 1 SOLTA SUA IMAGINAÇÃO
- 2 ESTIMULA SUA CRIATIVIDADE
- 3 AUMENTA SEU VOCABULÁRIO
- 4 FACILITA A ESCRITA
- 5 SIMPLIFICA A COMPREENSÃO DAS COISAS
- 6 AJUDA NA VIDA PROFISSIONAL
- 7 MELHORA A COMUNICAÇÃO COM OS OUTROS
- 8 AMPLIA SEU CONHECIMENTO GERAL
- 9 LIGA SEU SENSO CRÍTICO NA TOMADA



Disponível em: <[http://labjosefabotelho.blogspot.com.br/2016\\_02\\_01\\_archive.html](http://labjosefabotelho.blogspot.com.br/2016_02_01_archive.html)>.  
Acesso em: 06 fev. 2017.

A respeito das ações enumeradas no texto, verifica-se que

- A) as nove ações apresentam sintaticamente a mesma transitividade verbal.
- B) somente oito, das nove ações, apresentam sintaticamente a mesma transitividade verbal.
- C) somente sete, das nove ações, assemelham-se quanto à transitividade verbal.
- D) somente três, das nove ações, classificam-se como verbos intransitivos.
- E) somente três, das nove ações, classificam-se como verbos de ligação.

**RACIOCÍNIO LÓGICO**

QUESTÃO 16

A tabela apresenta os preços de garrafas de 5 litros de detergente de marcas diferentes, ao longo de quatro meses, praticados por um supermercado.

Marca	Valores (em R\$)			
	Maio	Junho	Julho	Agosto
M	15,00	16,50	15,90	16,00
L	12,00	14,00	18,00	20,00
N	23,00	22,50	14,40	13,00
K	20,00	20,00	20,00	20,10
J	17,00	14,00	16,00	17,00

Se Solange e Benedita são clientes fiéis desse supermercado e a primeira adota o sistema de compra pelo menor preço, e a segunda, o de maior preço, sem levar em conta a compra do mês anterior ("melhor preço, melhor qualidade", repetia ela), qual a média mensal da economia que fez Solange nesses quatro meses em relação ao gasto de Benedita?

- A) R\$ 21,40
- B) R\$ 13,35
- C) R\$ 8,05
- D) R\$ 7,80
- E) R\$ 2,30

QUESTÃO 17

Das premissas,

- I. Ana gosta de queijo ou Maria não gosta de caju.
- II. Bárbara gosta de tapioca e Ana não gosta de queijo.
- III. Pedro gosta de batata doce somente se Maria gosta de caju.

é correto inferir que

- A) Pedro não gosta de batata doce.
- B) Bárbara não gosta de tapioca.
- C) Pedro gosta de batata doce.
- D) Ana gosta de queijo.
- E) Maria gosta de caju.

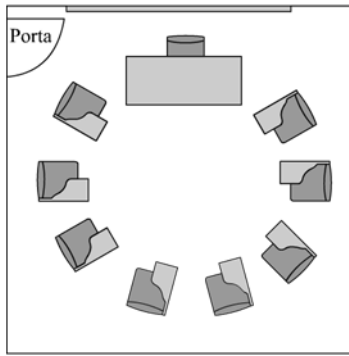
QUESTÃO 18

Na penúltima semana de aulas do ano letivo, o professor de futebol de uma escola fez uma enquete sobre que atividade seria desenvolvida em cada uma das duas últimas aulas do ano: condicionamento físico ou rachão. Com o resultado em mãos, o professor acertou com os alunos que a decisão seria deixada para a sorte: antes de cada aula seria lançado um dado e se o resultado fosse um número par ou um número menor que 3, o desejo de todos os alunos (rachão, naturalmente; como costuma acontecer, os alunos detestavam a atividade física) seria realizado. Qual a probabilidade de os alunos participarem felizes das duas últimas aulas de futebol?

- A) 83,3%
- B) 75,0%
- C) 69,4%
- D) 66,7%
- E) 44,4%

**QUESTÃO 19**

Para promover uma discussão com sete alunos e o tutor da disciplina, um professor arrumou a sala como mostra a figura.



Se o tutor sentar em uma cadeira ao lado da mesa do professor, de quantas formas distintas ele e os alunos podem ser distribuídos nas cadeiras a eles destinadas?

- A) 181 440
- B) 80 640
- C) 40 320
- D) 10 080
- E) 5 040

**QUESTÃO 20**

Considerando que os símbolos  $\neg$ ,  $\wedge$ ,  $\vee$ ,  $\forall$  e  $\exists$  representam negação, conjunção, disjunção, quantificador universal e quantificador existencial, respectivamente, dados os pares de fórmulas,

- I.  $\exists x(P(x) \wedge \neg Q(x))$  e  $\exists x(\neg P(x) \wedge \neg Q(x))$
- II.  $\exists x(P(x) \wedge \neg Q(x))$  e  $\exists x(P(x) \wedge Q(x))$
- III.  $\forall x(P(x) \wedge \neg Q(x))$  e  $\forall x(\neg(P(x) \vee Q(x)))$
- IV.  $\forall x(P(x) \wedge \neg Q(x))$  e  $\neg \forall x(P(x) \wedge \neg Q(x))$

verifica-se que há equivalência das fórmulas em

- A) III, apenas.
- B) I e IV, apenas.
- C) II e IV, apenas.
- D) I, II e III, apenas.
- E) I, II, III e IV.

**QUESTÃO 21**

Considerando que os símbolos  $\neg$ ,  $\wedge$ ,  $\vee$  e  $\rightarrow$  representam negação, conjunção, disjunção e implicação, respectivamente, dadas as fórmulas,

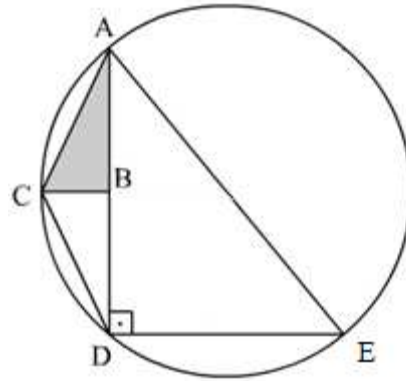
- I.  $(A \rightarrow \neg(A \wedge B)) \rightarrow B$
- II.  $(\neg A \wedge \neg B) \rightarrow \neg(A \wedge B)$
- III.  $(A \rightarrow \neg(\neg A \wedge B)) \rightarrow (B \wedge \neg B)$

verifica-se que é(são) contradição(ões)

- A) I, II e III.
- B) II e III, apenas.
- C) I e II, apenas.
- D) III, apenas.
- E) I, apenas.

**QUESTÃO 22**

Na figura, o triângulo ADE é retângulo e está inscrito em uma circunferência de raio 10 cm. Se os triângulos ABC e BCD são iguais e o menor cateto do triângulo ADE mede 12 cm, qual o valor da área do triângulo ABC em  $\text{cm}^2$ ?



- A)  $6\sqrt{34}$
- B) 32
- C) 16
- D) 10,67
- E)  $3\sqrt{11}$

**QUESTÃO 23**

Para angariar recursos para formatura, os 45 estudantes (dois terços do sexo masculino e o restante do sexo feminino) do nono ano de uma escola decidiram coletar 10 000 latas de refrigerantes para reciclagem. Se cada aluno comprometeu-se a trazer 10 latas por semana e cada aluna a trazer 5 latas na primeira semana e a dobrar a quantidade a cada semana, em quantas semanas a meta será atingida?

- A) 6
- B) 7
- C) 8
- D) 10
- E) 11

**QUESTÃO 24**

Considerando que os símbolos  $\wedge$ ,  $\rightarrow$  e  $\leftrightarrow$  representam conjunção, implicação e bimplicação, dadas as afirmativas sobre conjuntos,

- I.  $(A \subseteq B) \wedge (B \subseteq A) \rightarrow (A = B)$ , quaisquer que sejam os conjuntos A e B.
- II.  $(A \subseteq C) \wedge (B \subseteq C) \rightarrow (A = B)$ , quaisquer que sejam os conjuntos A, B e C.
- III.  $(A \cup B = A) \leftrightarrow (A \cap B = A)$ , quaisquer que sejam os conjuntos A e B.

verifica-se que está(ão) correta(s)

- A) I, II e III.
- B) II e III, apenas.
- C) I e II, apenas.
- D) III, apenas.
- E) I, apenas.



### QUESTÃO 25

Se as afirmativas:

- I. Se Francisco for à aula de Matemática, terá atividades para casa;
- II. Se Francisco tem atividades para casa, então precisa agendar um tempo para o estudo;
- III. Francisco não tem atividades para casa.

são verdadeiras, então Francisco não

- A) tem atividades para casa e não precisa agendar um tempo para o estudo.
- B) precisa agendar um tempo para o estudo e foi à aula de Matemática.
- C) precisa agendar um tempo para o estudo e não foi à aula de Matemática.
- D) foi à aula de Matemática e precisa agendar um tempo para o estudo.
- E) foi à aula de Matemática e não tem atividades para casa.

## CONHECIMENTOS ESPECÍFICOS

### QUESTÃO 26

A sociedade atual está sendo pautada pela tríade: informação, conhecimento e aprendizagem. Essa sociedade está gerando demandas de ensino e de aprendizagem particulares a este novo milênio, que tem privilegiado a informação facilmente produzida e disseminada pela internet. Passamos a ter uma relação mais pessoal e dinâmica com a informação e uma interação mais frequente com as fontes, sejam elas pessoas ou bancos de dados localizados em qualquer lugar do mundo. Nesse sentido, para que o uso da informática possibilite enriquecer os processos educativos, é necessário

- A) configurar os espaços de aprendizagem individual com materiais autossuficientes destinados ao aprendizado dependente.
- B) ter competências para explorar, selecionar e organizar informações relacionadas ao conteúdo planejado para manter apenas os registros de sala de aula.
- C) realizar trocas comunicacionais entre professores e alunos, disponibilizando o material didático em um repositório digital para realização das tarefas ou atividades propostas.
- D) realizar cursos de aperfeiçoamento sobre introdução ao uso de informática na educação, desenvolvendo materiais didáticos que sirvam de consultas virtuais nos repositórios de conteúdos de aprendizagem que dispensem a interação entre professor e aluno.
- E) possuir um conjunto de competências relacionadas à utilização das tecnologias, tais como: letramento digital, cooperação, autonomia, organização, comunicação e presença social, advindas dos aspectos socioculturais nos quais os sujeitos estão envolvidos.

### QUESTÃO 27

O sistema educacional, ao longo da história, tem desempenhado um importante papel na evolução das sociedades, uma vez que prepara as gerações para os desafios evolutivos das nações. No contexto da formação de professores, têm sido produzidos saberes e conhecimentos sobre o planejamento da ação docente como espaço privilegiado para adequar a escola aos objetivos do desenvolvimento social. Assim, o planejamento constitui-se em um ato pedagógico fundado na necessidade de aproximar a escola das demandas da sociedade. São objetivos do planejamento pedagógico:

- I. produzir planos escolares;
- II. definir objetivos e metas do ensino;
- III. estabelecer procedimentos de avaliação.

Das afirmativas, verifica-se que está(ão) correta(s)

- A) I, II e III.
- B) II e III, apenas.
- C) I e III, apenas.
- D) II, apenas.
- E) I, apenas.

### QUESTÃO 28

A Lei nº 13.005, de 25 de junho de 2014, aprovou o Plano Nacional de Educação (PNE), com vigência por dez anos, a contar da sua publicação (26 de junho de 2014). Essa Lei determinou que os Estados, o Distrito Federal e os Municípios deveriam elaborar os seus correspondentes planos de educação ou adequar os planos já aprovados em lei, em consonância com as diretrizes, metas e estratégias previstas no PNE. Nesse contexto, a referida Lei fixou que os entes federados deveriam estabelecer nos respectivos planos de educação estratégias que:

- I. assegurassem a articulação das políticas educacionais com as demais políticas sociais, particularmente as culturais;
- II. considerassem as necessidades específicas das populações do campo e das comunidades indígenas e quilombolas, asseguradas a equidade educacional e a diversidade cultural;
- III. garantissem o atendimento das necessidades específicas na educação especial, assegurando o sistema educacional inclusivo em todos os níveis, etapas e modalidades.

Das afirmativas, verifica-se que está(ão) correta(s)

- A) I, II e III.
- B) I e III, apenas.
- C) I e II, apenas.
- D) III, apenas.
- E) II, apenas.

### QUESTÃO 29

No presente cenário de discussão e análise das questões educacionais escolares, considerada a responsabilidade da educação e a função social da escola, cabe à gestão e organização escolar garantir determinados aspectos no processo educativo no interior da escola, de modo a propiciar a formação dos cidadãos brasileiros. Nesse contexto, assinale a alternativa que apresenta apenas aspectos de responsabilidade da gestão e organização da escola.

- A) Garantir o calendário escolar, podendo reduzir as horas estabelecidas, mediante peculiaridades locais, climáticas e econômicas; desenvolver o processo de avaliação institucional, respeitadas as normas dos sistemas de ensino; assegurar o cumprimento dos dias letivos.
- B) Organizar e desenvolver o ensino; promover a integração da escola com a comunidade; organizar e supervisionar as condições financeiras da escola em comum acordo com o Conselho Escolar e com o Conselho de Classe.
- C) Organizar e desenvolver o currículo; desenvolver a avaliação contínua e cumulativa do desempenho do aluno, com prevalência dos aspectos quantitativos sobre os qualitativos; elaborar plano de trabalho para cada docente.
- D) Respeitar a liberdade e ter apreço à tolerância; garantir o padrão de qualidade, com atenção maior ao ensino desenvolvido na Educação Infantil; valorizar o profissional da educação escolar.
- E) Elaborar e executar a proposta pedagógica; velar pelo cumprimento do plano de trabalho de cada docente; desenvolver o processo de avaliação da aprendizagem.

### QUESTÃO 30

A educação deve ser nacional, como a cidadania. Nós somos todos brasileiros e brasileiras. Acima das particularidades locais existe a nacionalidade. A enorme criatividade dos municípios deve ter por referência uma matriz comum nacional. Os planos estaduais e municipais precisam estar em harmonia com o PNE. A dispersão curricular atual atenta contra o próprio regime federativo. O nacional é composto de enorme riqueza: a diversidade.

Disponível em: <[http://conae2014.mec.gov.br/images/pdf/artigogadoti\\_final.pdf](http://conae2014.mec.gov.br/images/pdf/artigogadoti_final.pdf)>. Acesso em: 16 abr. 2017.

A partir da Gestão Democrática e da participação social nos processos educativos, uma proposta de Currículo Nacional deve

- A) estruturar uma dependência normativa.
- B) colaborar para a melhoria dos índices.
- C) respeitar as especificidades regionais.
- D) organizar uma matriz única e mínima.
- E) padronizar os conteúdos escolares.

### QUESTÃO 31

O Art. 59 da Lei nº 9.394, de 20 de dezembro de 1996, assegura aos educandos com deficiência, transtornos globais do desenvolvimento e altas habilidades ou superdotação:

- I. terminalidade específica para aqueles que não puderem atingir o nível exigido para a conclusão do ensino fundamental, em virtude de suas deficiências;
- II. a educação especial para o trabalho, visando a sua efetiva integração na vida em sociedade;
- III. que deve haver condições adequadas para os que não revelarem capacidade de inserção no trabalho competitivo.

Das afirmativas, verifica-se que está(ão) correta(s)

- A) I, II e III.
- B) II e III, apenas.
- C) I e III, apenas.
- D) II, apenas.
- E) I, apenas.

### QUESTÃO 32

A produção do conhecimento, no contexto da Sociedade em Rede, gera a necessidade de articulação do currículo escolar com a produção da ciência e tecnologia no contexto de cada nação. A velocidade do processo de globalização por meio das redes exige relações curriculares complexas viabilizadas pelas tecnologias digitais. São atributos das tecnologias que influenciam diretamente a cultura curricular:

- I. interatividade;
- II. mobilidade;
- III. conectividade;
- IV. velocidade.

Dos itens, verifica-se que estão corretos

- A) I, II, III e IV.
- B) III e IV, apenas.
- C) II e III, apenas.
- D) I e IV, apenas.
- E) I e II, apenas.

### QUESTÃO 33

Dadas as afirmativas sobre a distribuição e apropriação dos recursos referentes ao Fundo de Manutenção e Desenvolvimento da Educação Básica e de Valorização dos Profissionais da Educação – FUNDEB, regulamentado pela Lei nº 11.494, de 20 de junho de 2007,

- I. A distribuição de recursos dos Fundos dar-se-á igualmente para todas as etapas, modalidades e tipos de estabelecimento de ensino da educação básica.
- II. A apropriação dos recursos em função das matrículas na modalidade de educação de jovens e adultos observará, em cada Estado e no Distrito Federal, percentual de até 25% (vinte e cinco por cento) dos recursos do Fundo respectivo.
- III. Para os fins da distribuição dos recursos de que trata a referida Lei, serão consideradas exclusivamente as matrículas presenciais efetivas, conforme os dados apurados no censo escolar mais atualizado, realizado anualmente pelo Instituto Nacional de Estudos e Pesquisas Educacionais Anísio Teixeira – INEP, considerando as ponderações aplicáveis.

verifica-se que está(ão) correta(s)

- A) I, II e III.
- B) II e III, apenas.
- C) I e II, apenas.
- D) III, apenas.
- E) I, apenas.

### QUESTÃO 34

As narrativas contidas no currículo, explícita ou implicitamente, corporificam noções particulares sobre conhecimento, sobre formas de organização da sociedade e sobre os diferentes grupos sociais e representam os diferentes grupos sociais de forma diferente. Enquanto as formas de vida e a cultura de alguns grupos são valorizadas e instituídas como cânon, as de outros são desvalorizadas e proscritas. Assim, contam histórias que fixam noções particulares sobre gênero, raça, classe – noções que acabam também nos fixando em posições muito particulares (SILVA, 2005, p. 195). Segundo o autor, as narrativas contidas no currículo contribuem para:

- I. o entendimento de que o currículo vincula-se a aspectos políticos inerentes às relações de poder que acentuam as desigualdades étnico-raciais e de gênero;
- II. a superação das desigualdades instituídas em relação às questões étnico-raciais e de gênero;
- III. a compreensão de que o currículo representa, de forma igualitária, os diferentes grupos sociais.

Das afirmativas, verifica-se que está(ão) correta(s)

- A) I, II e III.
- B) II e III, apenas.
- C) I e II, apenas.
- D) III, apenas.
- E) I, apenas.

### QUESTÃO 35

O Decreto nº 5.622, de 19 de dezembro de 2005, caracteriza a educação a distância como modalidade educacional na qual a mediação didático-pedagógica nos processos de ensino e aprendizagem ocorre com a utilização de meios e tecnologias de informação e comunicação, com estudantes e professores desenvolvendo atividades educativas em lugares ou tempos diversos. Esse Decreto prevê a obrigatoriedade de momentos presenciais para:

- I. atividades relacionadas a laboratórios de ensino, quando for o caso;
- II. estágios obrigatórios, quando previstos na legislação pertinente;
- III. defesa de trabalhos de conclusão de curso, quando previstos na legislação pertinente.

Das afirmativas, verifica-se que está(ão) correta(s)

- A) I, II e III.
- B) II e III, apenas.
- C) I e III, apenas.
- D) II, apenas.
- E) I, apenas.

### QUESTÃO 36

Aos 12 anos de idade, no sétimo ano do ensino fundamental, o estudante brasileiro típico é apresentado aos conceitos de colônia de povoamento e de exploração [...]. Esse passado influencia fortemente a história de algumas regiões, pois as características de desenvolvimento de alguns países estão ligadas ao tipo de colonização recebida. [...] Cabe ao aluno entender como o passado pode afetar o presente.

MONASTERIO, Leonardo; EHRL, Philipp. *Colônias de povoamento versus colônias de exploração: de Heeren a Acemoglu*. Brasília: Ipea, 2015 (adaptado).

O texto aborda o fato de que, de uma forma geral,

- A) os países que foram colônias de exploração atraíram durante esse período um contingente maior de imigrantes, tornando-se atualmente áreas com grande densidade demográfica.
- B) o processo de colonização dos países no passado permitiu estabelecer relações comerciais com suas antigas metrópoles, garantindo forte crescimento econômico.
- C) as colônias de povoamento desenvolveram a policultura de exportação, através do sistema de plantation, o que as tornou hoje grandes exportadoras de alimentos.
- D) os países que foram colônia no passado, independentemente do tipo de colonização, sofrem hoje as consequências negativas desse processo.
- E) as colônias de povoamento deram origem a países desenvolvidos, enquanto as de exploração deram origem a países subdesenvolvidos.

### QUESTÃO 37

O período da Convenção Nacional (1792-1794/95) é considerado como a segunda fase da Revolução Francesa. Foi um período bastante complicado em que os populares conseguiram assumir o comando da revolução. Com medo que outras nações europeias invadissem a França, os revolucionários formaram um grande exército. Em 1792, os impérios austríacos e prussianos invadiram a França, o que motivou o povo a sair nas ruas e lutar, organizando assim a Comuna Insurrecional de Paris. Após vencerem, os revolucionários foram tomados por um sentimento nacionalista, um novo governo começou a surgir e a República foi instituída com a convocação de uma Convenção Nacional.

Disponível em: <<http://revolucao-francesa.info/convencao-nacional.html>>. Acesso em: 18 fev. 2017 (adaptado).

O grupo mais radical da convenção, liderado por Marat e Danton, ficou conhecido como

- A) sans-culottes.
- B) girondinos.
- C) cordeliers.
- D) jacobinos.
- E) planície.

### QUESTÃO 38

O ciclo da borracha foi um importante momento da história econômica e social do Brasil. [...] Seu marco ocorreu na região amazônica, proporcionando a expansão da colonização. Tal fato acarretou grandes transformações socioculturais, formando vilas e povoados, na beira de rios, que depois se transformaram em cidades. Manaus, Porto Velho e Belém, entre outras, foram algumas das cidades que enriqueceram expressivamente durante o breve ciclo. Mas houve também alterações nos contornos territoriais do Brasil e da Bolívia, que por pouco não iniciaram uma guerra.

D'AGOSTINI, S. et al. *Ciclo econômico da borracha – seringueira*. Páginas do Inst. Biol., São Paulo, v. 9, n. 1, p. 6-14, jan./jun. 2013.

O conflito entre Brasil e Bolívia, descrito no texto, foi resolvido com

- A) a anexação do Acre ao território brasileiro, o que culminou com a assinatura do tratado de Petrópolis.
- B) o estabelecimento de uma pesada multa aos bolivianos e a devolução do estado de Roraima ao Brasil.
- C) a sujeição do Brasil aos interesses bolivianos, que dominavam o mercado mundial de borracha.
- D) o acordo de La Paz, que assegurou ao Brasil uma rota de transporte pelo território boliviano até o oceano pacífico.
- E) a reordenação do espaço amazônico, que deu a Bolívia o monopólio do comércio da borracha e, ao Brasil, o da produção.

### QUESTÃO 39

As preocupações com uma guerra generalizada na Europa mostraram-se frequentes já no final do século XIX. Um sinal da iminência da guerra foi a corrida armamentista que se acelerou no início do século XX, conduzida em grande medida pela situação internacional que lançou as nações em uma acirrada competição. A Europa dividiu-se gradualmente em dois blocos, derivados do surgimento no cenário europeu de um Império Alemão unificado, através de alianças e contra-alianças.

Disponível em: <<http://cpdoc.fgv.br/sites/default/files/verbetes/primeira-republica/PARTICIPACAO%20BRASILEIRA%20NA%20PRIMEIRA%20GUERRA%20MUNDIAL.pdf>>. Acesso em: 18 fev. 2017.

Qual país abandonou a Tríplice Aliança para integrar a Tríplice Entente em maio de 1915?

- A) Rússia.
- B) Japão.
- C) Brasil.
- D) Itália.
- E) EUA.

### QUESTÃO 40



NOVAES, Carlos Eduardo; RODRIGUES, Vilmar. *Capitalismo para principiantes: a história dos privilégios econômicos*. 27. ed. São Paulo: Ática, 2003. p. 88.

Na charge, está representado um momento importante do imperialismo no século XIX, reflexo do capitalismo monopolista que se caracteriza

- A) pelo investimento em infraestrutura de transporte, com o intuito de integrar as regiões ocupadas e dinamizar o comércio local.
- B) pela divisão para ocupação dos territórios africanos por potências europeias, desconsiderando os interesses dos povos nativos.
- C) pela definição dos limites territoriais dos novos países baseados em regime democrático, em substituição as monarquias.
- D) pela separação dos grupos étnicos de interesse econômico para os europeus, excluindo os mais belicosos e menos rentáveis.
- E) pelo acordo de fornecimento exclusivo de matérias primas dos países europeus para os países africanos.



### QUESTÃO 41

Em outubro de 1921, apareceu estampada em fac-símile, no jornal carioca *Correio da Manhã*, a primeira carta, datada de 3 de junho. Com a suposta assinatura de Bernardes, e dirigida ao senador Raul Soares, a carta se referia ao marechal Hermes da Fonseca como “esse sargento sem compostura”, e ao banquete em que sua candidatura à presidência fora lançada por oficiais como uma “orgia”. Sempre se referindo aos militares, dizia o texto que “essa canalha precisa de uma reprimenda para entrar na disciplina”. No dia seguinte, mais uma carta foi publicada, datada de 6 de junho, referindo-se a uma prorrogação da Convenção. Em torno das cartas passou a girar todo o noticiário da imprensa, e em todo o país foi desencadeada enorme agitação política. O escândalo que elas provocaram expressava a desaprovação de setores da sociedade à política praticada pelo governo.

Disponível em: <<http://cpdoc.fgv.br/sites/default/files/verbetes/primeira-republica/REVOLTA%20DE%205%20DE%20JULHO%20DE%201922.pdf>>. Acesso em: 18 fev. 2017 (adaptado).

A publicação dessas cartas foi o estopim para um movimento conhecido como

- A) revolução de 30.
- B) coluna Prestes.
- C) quererismo.
- D) integralismo.
- E) tenentismo.

### QUESTÃO 42

No período da imigração em massa, que também inclui a formação das etnicidades, a tendência predominante no pensamento nacionalista brasileiro privilegiou o ideário das três raças e a mestiçagem como base na formação nacional. Uma raça a ser formada a partir da superação das diversidades étnicas produzidas pela imigração, através de um amplo processo de assimilação e mestiçagem imaginado em termos explicitamente racistas porque partiu de pressupostos de inferioridade de negros, índios e seus mestiços. A tese do branqueamento da raça respaldou as especulações nacionalistas sobre o futuro da nação após 1888 – tema bastante conhecido por suas implicações racistas nunca reconhecidas por seus formuladores.

SEYFERTH, G. Algumas considerações sobre identidades étnicas e racismo no Brasil. *Revista de Cultura Brasileira*, Madrid, p. 223-237, mar. 1998.

No Brasil, a tese relatada no texto pressupunha que

- A) o extermínio de grupos não desejados deveria ser colocado em prática pelo governo, utilizando técnicas de esterilização masculina e feminina como a única maneira de garantir a superioridade numérica dos brancos.
- B) o aumento do número de habitantes brancos europeus aceleraria a miscigenação e a difusão do “sangue branco” na população, causando seu embranquecimento.
- C) os europeus que imigrassem para o país não deveriam se miscigenar com brasileiros negros, índios ou mestiços, como uma forma de preservar o fenótipo branco.
- D) apenas os brasileiros de fenótipo branco poderiam ocupar cargos públicos, o que gerou revoltas populares entre os grupos de negros, indígenas e mestiços.
- E) a miscigenação combateria o preconceito existente no país, diminuindo os conflitos internos, a desigualdade social e ampliando o desenvolvimento nacional.

### QUESTÃO 43

O humanismo trouxe uma nova forma de ver as relações do homem com a natureza e com seu próprio eu, influenciando a literatura, a sociologia, a filosofia e a história, criando uma nova forma de pensar, rompendo com as relações de dominação nem sempre objetivas, nem sempre palpáveis, mas sempre presentes. Devido a suas ideias inovadoras, o humanismo renascentista se destacou

- A) pela capacidade de unir de forma harmônica as ideias teológicas com o princípio da capacidade humana de se autodeterminar.
- B) por possuir um caráter claramente anticlerical, buscando distanciamento da influência da igreja e de seus dogmas.
- C) por defender a existência de uma autoridade superior, a quem o conhecimento gerado pelo homem está submetido.
- D) por exaltar a ética e a dignidade do homem, combatendo o ateísmo e o agnosticismo.
- E) pela exaltação da capacidade do homem comum em realizar a vontade de Deus.

### QUESTÃO 44

Dadas as afirmativas acerca do governo de Juscelino Kubitschek,

- I. Seu programa de governo tinha como proposta 50 anos de progresso em 5 anos.
- II. Seu Plano de Metas consistia em 31 objetivos.
- III. O Plano de Metas mencionava cinco setores básicos, sendo alimentação e educação os setores com maior investimento.

verifica-se que está(ão) correta(s)

- A) I, II e III, apenas.
- B) II e III, apenas.
- C) I e II, apenas.
- D) III, apenas.
- E) I, apenas.

### QUESTÃO 45

Entre os povos da antiguidade, os Hebreus se destacaram por terem influenciado a civilização ocidental de uma maneira tão marcante que seus ideais fundamentam os princípios sociais, políticos e religiosos de várias nações, principalmente na Europa e na América. Essa influência se justifica pelo fato de que

- A) a América e a Europa receberam grande contingente de imigrantes judeus fugidos da segunda guerra mundial.
- B) a criação do Estado de Israel inspirou o surgimento de países organizados com base nos princípios democráticos.
- C) o sistema econômico mundial se baseia nos princípios comerciais dos hebreus.
- D) a religião hebraica ainda é a mais difundida entre os países americanos e europeus.
- E) o cristianismo é considerado uma continuação das tradições religiosas hebraicas.



### QUESTÃO 46

No dia 13 de dezembro de 1838, começou a Guerra [...]. Foi uma das maiores e mais significativas rebeliões populares já registradas [...] e com forte repercussão em todo o país. Os milhares de “caboclos” e “negros quilombolas”, que pegaram em armas no Maranhão no fim do Período Regencial, não devem ser considerados como meros bandidos, porque os seus crimes, os desatinos cometidos, as violências e atrocidades foram consequências e não causa dessa guerra.

JANOTTI, Maria de Lourdes Monaco. [...]: construção da memória histórica. HISTÓRIA, São Paulo, v. 24, n. 1, p. 41-76, 2005 (adaptado).

O texto destaca a revolta conhecida como

- A) Guerra dos Farrapos.
- B) Revolta dos Malês.
- C) Cabanagem.
- D) Sabinada.
- E) Balaiada.

### QUESTÃO 47

Dadas as afirmativas sobre a Lei Adolfo Gordo, de 1907,

- I. Propunha a expulsão de estrangeiros envolvidos em greves.
- II. Foi uma resposta do Congresso às greves de 1907, que lutavam pela jornada de trabalho de 8 horas.
- III. Defendia que estrangeiros casados com brasileiras ou viúvos com filhos brasileiros não poderiam ser expulsos.
- IV. O Adolfo Gordo era Ministro chefe da Casa Civil e criou a Lei para expulsar os anarquistas do país.

verifica-se que estão corretas

- A) I, II, III e IV.
- B) III e IV, apenas.
- C) II e IV, apenas.
- D) I e III, apenas.
- E) I e II, apenas.

### QUESTÃO 48

Tendo como estopim a transgressão do Paralelo 38, esta Guerra viria a ser a primeira sancionada pelas Nações Unidas. Outros quinze países além dos EUA tentaram defender a independência do país invadido com suas forças armadas.

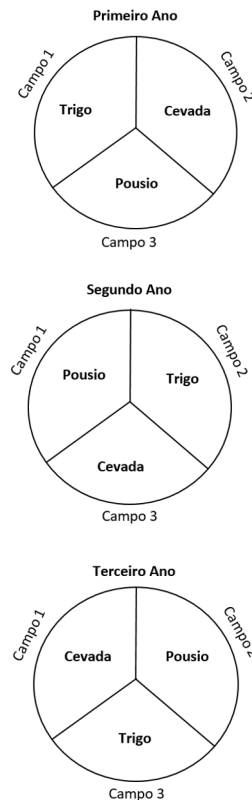
MATTHEWS, J.; GUPTA, A. *Twilight Struggle*: manual de regras. São Paulo: Devir, 2016. p. 22 (adaptado).

A guerra descrita no texto é chamada de

- A) Guerra Indo-Paquistanesa.
- B) Guerra Árabe-Israelense.
- C) Guerra das Trincheiras.
- D) Guerra da Coreia.
- E) Guerra Fria.

### QUESTÃO 49

#### ESQUEMA DE UM MODO DE PRODUÇÃO AGRÍCOLA DA EUROPA FEUDAL



O sistema agrícola mostrado na figura ficou conhecido como

- A) agricultura de campos livres.
- B) agricultura de jardinagem.
- C) rotação trienal de cultivos.
- D) agricultura itinerante.
- E) rotação de terras.

### QUESTÃO 50

A forma como o estado legitima o poder vai além do exercício da força, mas ela não é condição suficiente para a manutenção do poder. É preciso alguma legitimidade, configurada pelo consentimento dos governados. Em alguns casos, é a crença de que o poder legítimo vem da vontade de Deus, sendo sustentado por uma crença religiosa; em outros, o poder é tido como um direito, que é transmitido de geração a geração e mantido pela força da tradição.

BONAMDES, Paulo. *Ciência política*. São Paulo: Malheiros Editores, 2000 (adaptado).

O texto descreve duas formas de organização do estado e sua forma de legitimação pelos governados. Esses sistemas de organização são, respectivamente,

- A) as monarquias hereditárias e os governos aristocráticos.
- B) os estados teocráticos e as monarquias hereditárias.
- C) os estados teocráticos e os governos aristocráticos.
- D) os governos aristocráticos e os estados teocráticos.
- E) a democracia e as monarquias hereditárias.

## ATENÇÃO!

O candidato está **proibido** de **destacar** esta folha com o **gabarito**, sob pena de **eliminação** do processo. Somente o **Fiscal de Sala** está autorizado a fazer isso no momento de sua saída em definitivo do Local de Prova.

## Gabarito do Candidato

1	2	3	4	5	6	7	8	9	10	11	12	13	14	15	16	17	18	19	20	21	22	23	24	25	
26	27	28	29	30	31	32	33	34	35	36	37	38	39	40	41	42	43	44	45	46	47	48	49	50	

## EDITAL Nº 01/2017 – Município de Maceió/AL

7.1. A COPEVE/UFAL divulgará o gabarito preliminar, juntamente com as Provas Objetivas, no endereço eletrônico: [www.copeve.ufal.br](http://www.copeve.ufal.br), na data provável de **11/05/2017**, a partir das 21h00.

## GABARITO OFICIAL

[www.copeve.ufal.br](http://www.copeve.ufal.br)

## REALIZAÇÃO



[www.ufal.edu.br](http://www.ufal.edu.br)



*Você confia no resultado!*

[www.copeve.ufal.br](http://www.copeve.ufal.br)



**FUNDEPES**  
Fundação Universitária de Desenvolvimento  
de Extensão e Pesquisa

[www.fundepes.br](http://www.fundepes.br)



Município de Maceió - Alagoas