



TIPO 03

Conselho Regional de Medicina do Estado de Alagoas Concurso Público - Autarquia Federal

ASSISTENTE ADMINISTRATIVO - 2005

Prova de Português, Matemática Conhecimentos Específicos e Informática

INSTRUÇÕES

- 01 - Leia com atenção todas as instruções deste **Caderno de Questões**;
- 02 - Este Caderno de Questões só deverá ser aberto quando for autorizado pelo Fiscal de Sala;
- 03 - **Assine** neste Caderno de Questões e coloque o seu número de inscrição;
- 04 - Verifique se este Caderno de Questões contém 50 (cinquenta) questões com 05 (cinco) alternativas cada, caso contrário comunique imediatamente ao Fiscal;
- 05 - A prova terá a duração de 04 (quatro) horas. Você só poderá sair do Local de Prova 02 (duas) horas após o seu início;
- 06 - Ao receber a **Folha de Respostas**, confira seu **nome**, seu **número de inscrição** e o **cargo** escolhido (**Médico-Fiscal ou Assistente Administrativo**);
- 07 - Em hipótese alguma lhe será concedida outra Folha de Respostas;
- 08 - Marque suas respostas na Folha de Respostas utilizando caneta esferográfica azul ou preta, preenchendo completamente o círculo correspondente à alternativa escolhida, conforme modelo: ● ;
- 09 - Será atribuído o valor ZERO à questão que contenha na Folha de Respostas: dupla marcação, marcação rasurada, não preenchida totalmente ou que não tenha sido transcrita do Caderno de Questões para a Folha de Respostas;
- 10 - A correção das provas será efetuada considerando-se apenas o conteúdo da Folha de Respostas;
- 11 - Caso a Comissão julgue uma questão como sendo nula, seus pontos serão atribuídos à todos os candidatos;
- 12 - Ao terminar a prova, devolva ao Fiscal este Caderno de Questões, juntamente com a sua Folha de Respostas e assine a **Lista de Presença**.

Nº de Inscrição:

Nome do Candidato:

Nº Sala:

Assinatura do Candidato:

CREMAL



Maceió/AL, 17 de julho de 2005



LÍNGUA PORTUGUESA

Pesquisa mostra que homens são mais predispostos ao stress

Uma pesquisa da Universidade de Cambridge mostra que homens podem ser naturalmente mais predispostos ao *stress*, mesmo antes do nascimento. A pesquisa mostra que a razão pode ser o maior índice do hormônio cortisona entre os homens do que entre as mulheres.

Cientistas examinaram os níveis do hormônio em fetos de carneiros e verificaram que os níveis do cortisona são maiores entre os machos do que entre as fêmeas. Eles acreditam que a descoberta, apresentada no encontro anual da Sociedade de Endocrinologia britânica, também pode ser aplicada aos seres humanos e pode explicar porque os dois sexos reagem de forma diferente ao *stress*.

"Há muito tempo nós sabemos que homens e mulheres respondem de forma diferente a condições de *stress*", explicou o chefe do estudo, doutor Dino Giussani. "Pensava-se que os motivos eram ambientais, mas agora nós mostramos que essas diferenças são determinadas desde o nascimento", afirmou.

O estudo com carneiros mostrou que os machos tinham o dobro de cortisona do que as fêmeas. "Este trabalho também mostra que o sexo masculino pode ser mais predisposto do que o feminino a reagir de forma exagerada a condições de *stress* mais tarde", Giussani disse que o estudo vai agora continuar com fetos humanos.

Data: 4/12/2001
Fonte: BBC Brasil

01 – De acordo com o texto, qual é a descoberta científica obtida por meio de uma pesquisa experimental?

- A) As mulheres sofrem mais do *stress* do que os homens.
- B) Os fetos humanos do sexo masculino possuem mais hormônios que os femininos.
- C) Homens são mais predispostos ao *stress*.
- D) Homens e mulheres reagem de forma diferente ao *stress*.
- E) Os fetos de carneiros machos possuem o dobro do hormônio cortisona das fêmeas.

02 – Qual é a hipótese surgida após essa descoberta?

- A) Eles acreditam que a descoberta, apresentada no encontro anual da Sociedade de Endocrinologia britânica, também pode ser aplicada aos seres humanos e pode explicar porque os dois sexos reagem de forma diferente ao *stress*.
- B) A pesquisa não apresenta hipótese.
- C) O estudo continuará com fetos humanos.
- D) Cientistas examinaram os níveis do hormônio em fetos de carneiros e verificaram que os níveis do cortisona são maiores entre os machos do que entre as fêmeas.
- E) "Pensava-se que os motivos eram ambientais, mas agora nós mostramos que essas diferenças são determinadas desde o nascimento".

03 – Os dois sexos podem reagir de forma diferente ao *stress* porque possuem níveis diferentes do hormônio cortisona. Nesse período, a conjunção **porque** indica

- A) concessão.
- B) oposição.
- C) causa.
- D) explicação.
- E) consequência.

04 – Em várias passagens do texto, o autor utiliza a construção **do que** para estabelecer uma relação de sentido entre palavras ou expressões. Qual o sentido expresso por essa construção?

- A) Comparação
- B) Acréscimo
- C) Contraste
- D) Oposição
- E) Conclusão

05 – Observe o emprego da pontuação no trecho "A cartomante disse que 2005 seria muito bom, tão bom ou melhor do que 2004, ano que tinha ganhado muito dinheiro: com a crise, as pessoas ficavam ansiosas, queriam saber do futuro e ela faturava". É correto afirmar que

- A) não há vírgula depois da palavra **ansiosas**.
- B) se deve retirar os dois pontos e colocar um ponto depois de **crise**.
- C) há vírgulas demais.
- D) a pontuação está perfeita.
- E) no lugar dos dois pontos deveria ser uma vírgula.

06 – Substitua as pausas (marcadas por dois pontos, vírgulas ou ponto final) pelos conectores que estabelecem a relação de sentido adequada.

- I – Resolveu isolar-se do mundo: não acreditava mais nos homens.
- II – Perde o vício de mentir. Acabará descreditado.
- III – Não participei do simpósio: não posso dizer-lhe a que conclusão chegou.

- A) assim – ou – portanto
- B) dessa forma – com isso – então
- C) visto que – por isso – portanto
- D) já que – se não – ou
- E) porque – ou então – sendo assim

07 – O sinal grave indicador de crase foi corretamente usado em:

- I – Solicitamos as alunas que respondam às perguntas a seguir, importantes para efeitos de pesquisa.
- II – Acompanhado do assessor de imprensa, o empresário entregou 50 apartamentos à seus novos proprietários.
- III – Eles invadiram às 7h30 um luxuoso sobrado e se renderam às 9h20 à polícia.

- A) III.
- B) II e III.
- C) I, II e III.
- D) I.
- E) II.

08 – Assinale a alínea em que o acento indicativo de crase está corretamente empregado em todos os casos.

- A) Foi-se avolumando à pilha de reclamações.
- B) A universidade moderna é um santuário, local onde os sábios transmitem conhecimentos à geração seguinte.
- C) Se não tomassem providências, estaria colocada à questão de quem restabeleceria a ordem.
- D) Ele ficará numa sela individual, apesar de não ter direito à tratamento especial.
- E) Às três horas, sairemos à procura de alguém que possa ficar frente à frente com o preso.

09 – Qual período apresenta desvio de concordância verbal?

- A) Eles não de decidir ainda hoje, pois faz mais de dez horas que estão reunidos naquela sala.
- B) Tratavam-se de questões fundamentais para o processo de ensino-aprendizagem.
- C) Deve-se registrar os vocábulos cujas consoantes se pronunciam, pondo-se em primeiro lugar o uso mais generalizado.
- D) Dessa forma, acredita-se que não se trata de mudança de palavra, mas do desconhecimento da etimologia.
- E) É comum verem-se algumas crianças que vendem balas nos semáforos intitulem-se de trombadinhas.

10 – A oração reduzida de participio “Equipadas com sonares e softwares de localização por satélite” está incompleta. Indique a oração que pode completá-la para formar um período composto.

- A) ...as embarcações pesqueiras.
- B) ...as embarcações encontram cardumes com muita facilidade.
- C) ...seguirão nesse ritmo até chegarem à Antártica.
- D) ...a sobrepesca é agravada pelo desperdício.
- E) ...os barcos pesqueiros se aventuram em águas profundas.

11 – Indique o período que contém uma oração reduzida de gerúndio.

- A) Ouvidas as testemunhas, o júri retirou-se para deliberar.
- B) Não é conveniente deixar as portas abertas.
- C) Tendo perdido o emprego, não tinha como sustentar a família.
- D) Do cais observava os barcos afastarem-se lentamente.
- E) Apesar de ter idade avançada, continuava bonita e elegante.

12 – Do conjunto de períodos abaixo, aponte aquele formado por uma oração subordinada adjetiva.

- A) Quando o rapaz se dirigiu à portaria para entregar uma encomenda, Maria sentiu um frio na barriga.
- B) Os convidados dirigiram-se ao salão para assistirem a exibição do filme.
- C) Cada qual tire a sua conclusão.
- D) Reconheceu que estava muito longe de sua tribo e que o remédio era conformar-se.
- E) E saindo do seu lugar, aproximou-se do professor a quem entregou o papel.

13 – Assinale a alínea que apresenta todas as palavras grafadas corretamente.

- A) vácuo; abdicar; abcesso; exceder.
- B) arguição; tranqüilo; inóspito; espontaneo.
- C) recôndito; lâmpada; adail; obliques.
- D) averigüe; paranóico; rouxinóis; balaústre.
- E) circunflexo; imundície; pendula; expectativa.

14 – Assinale a alínea que apresenta todas as palavras acentuadas pela mesma regra.

- A) lírio; mágoa; cajá; área.
- B) jacaré; dendê; público; régua.
- C) cafeína; caís; saúde; viúvo.
- D) jibóia; país; fêmur; fôlego.
- E) vácuo; lâmina; límpido; exercício.

15 – Assinale a alínea que apresenta todas as palavras com os respectivos significados CORRETOS.

- A) cessão (divisão); seção (ato de ceder); acerto (ato de acertar); asserto (afirmação).
- B) acento (banco); assento (intensidade); vultoso (empolado); vultuoso (volumoso).
- C) cavaleiro (que cavalga); cavalheiro (homem cortês); deferimento (adiamento); diferimento (concessão).
- D) emigrar (deixar um país); imigrar (entrar num país); descrição (ato de descrever); discrição (prudência).
- E) mandado (participio de mandar); mandato (procuração); sortir (produzir efeito); surtir (abastecer).

16 – Palavras mal posicionadas na frase podem causar ambigüidades. Indique a frase que não contém duplo sentido.

- A) Os policiais prenderam os bandidos da viatura.
- B) Os casos de violência dentro da escola estão aumentando.
- C) Eles conversavam sobre o barco.
- D) Todos aplaudiam o espetáculo do corredor.
- E) O cachorro do meu vizinho morreu.

17 – Na frase “O famoso jornalista desentendeu-se com o jornal por causa de sua campanha a favor do presidente”, indique qual termo refere-se a dois antecedentes distintos.

- A) Jornal
- B) Presidente
- C) Campanha
- D) Sua
- E) Jornalista

18 – Assinale a alínea que está gramaticalmente INCORRETA.

- A) Os senadores cujos mandatos se prorrogaram foram cassados.
- B) Em se tratando de medicina, ele é especialista.
- C) O recibo que lhe deram não é válido.
- D) Os filhos recebê-la-iam bem se ela os respeitasse.
- E) Como recordo-me daquele feriado.

19 – O pressuposto é uma idéia não expressa de maneira explícita, que decorre logicamente do sentido de certas palavras ou expressões contidas na frase. Indique a frase que contém um pressuposto, ou seja, uma informação implícita.

- A) Ontem choveu muito.
- B) Os estudantes participaram da eleição.
- C) Na leitura, é muito importante destacar os pressupostos.
- D) Maria participa de todas as festas.
- E) Todos compareceram à festa; até Maria.

20 – Na oração “Os brasileiros, que não se importam com a coletividade, somente se preocupam com o seu bem-estar e, por isso, jogam lixo na rua, ultrapassam o sinal vermelho [...]” o pressuposto é?

- A) Todos os brasileiros ultrapassam o sinal vermelho.
- B) Todos os brasileiros são mal-educados.
- C) Todos os brasileiros não se importam com a coletividade.
- D) Alguns brasileiros não se importam com a coletividade e somente esses praticam atos prejudiciais ao convívio na sociedade.
- E) Todos os brasileiros jogam lixo na rua.

MATEMÁTICA

21 – Um tanque de forma cilíndrica tem 8m de diâmetro, 6m de profundidade e contém água até a altura de 4m. O volume de água necessário para encher completamente o tanque é

- A) $36\pi \text{ m}^3$.
- B) $24\pi \text{ m}^3$.
- C) $64\pi \text{ m}^3$.
- D) $16\pi \text{ m}^3$.
- E) $32\pi \text{ m}^3$.

22 – Dados os números racionais $p = \frac{12}{15}$, $q = \frac{3}{7}$ e $r = \frac{5}{4}$, assinale a alternativa correta.

- A) $q < p < r$
- B) $q < r < p$
- C) $p < q < r$
- D) $r < p < q$
- E) $r < q < p$

23 – Seja $f : R \rightarrow R$ uma função definida por $f(x) = \frac{3}{1+x^2}$, qual é o valor de $f(\sqrt[4]{3})$?

- A) $\frac{1-\sqrt{9}}{4}$
- B) $\frac{1-\sqrt{9}}{8}$
- C) $1-\sqrt{9}$
- D) $\frac{\sqrt{9}-1}{8}$
- E) $\frac{\sqrt{3}-1}{2}$

24 – O produto das raízes da equação $\frac{2}{x^2-1} + \frac{1}{x+1} = 1$ é um número

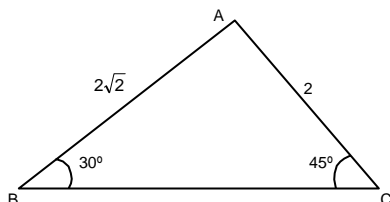
- A) natural.
- B) negativo.
- C) ímpar.
- D) positivo.
- E) nulo.

25 – A equação da reta que passa pelo ponto $A = (-1, -3)$ e é perpendicular a reta $x - y - 3 = 0$ é

- A) $x + y + 4 = 0$.
- B) $x + y - 7 = 0$.
- C) $x - y + 4 = 0$.
- D) $x - y - 4 = 0$.
- E) $y - x - 4 = 0$.

26 – No triângulo ABC abaixo, os lados \overline{AB} e \overline{AC} medem, respectivamente, $2\sqrt{2}$ m e 4m. Se os ângulos \hat{B} e \hat{C} medem, respectivamente, 30° e 45° , determine a área desse triângulo.

- A) $(\sqrt{2} + 1) \text{ m}^2$
- B) $2(\sqrt{2} + 1) \text{ m}^2$
- C) $2(\sqrt{3} + 1) \text{ m}^2$
- D) $(\sqrt{3} + 1) \text{ m}^2$
- E) 4 m^2



27 – Um romancista escreveu, em um certo dia, as 20 primeiras linhas de um romance. A partir desse dia, ele escreveu, em cada dia, tantas linhas quantas havia escrito no dia anterior, mais 5 linhas. Se o livro tem 17 páginas, cada uma com exatamente 25 linhas, assinale a alternativa correta no que diz respeito à quantidade de dias que o escritor levou para escrever o livro.

- A) É exatamente igual a 10 dias
- B) É maior que 11 dias e menor que 16 dias.
- C) É menor que 10 dias.
- D) É exatamente igual a 17 dias.
- E) É maior que 20 dias

28 – Se m é o 30° termo da progressão geométrica $(2, 4, 8, \dots)$, então o valor de $\log_4 m$ é igual a

- A) 15.
- B) 30.
- C) 35.
- D) 25.
- E) 20.

29 – Considerando as soluções da equação $\frac{4^x + 16}{10} = 2^x$, é CORRETO afirmar que

- A) todas são positivas.
- B) são positivas e uma delas é igual a $\frac{1}{3}$.
- C) todas são negativas.
- D) uma é zero e a outra é negativa.
- E) uma é negativa e a outra é positiva.

30 – Se x é a solução da equação $3\log x = 2\log 8$, identifique a alternativa CORRETA.

- A) $x = \sqrt{3}$
- B) $\sqrt{x} = 4$
- C) x é um número par.
- D) x é um número ímpar.
- E) $x^5 = 16$

CONHECIMENTOS ESPECÍFICOS

31 – Apenas uma das alternativas abaixo NÃO diz respeito ao documento **Ata**. Identifique esta alternativa.

- A) Uma narração por escrito, do que se passou em uma reunião, em uma cerimônia, em uma assembléia, em uma sessão.
- B) Depois de lavrada e discutida, é submetida à apreciação dos participantes da reunião e assinada por eles.
- C) Os erros que, por acaso, forem cometidos, serão corrigidos com a ressalva **digo** e a forma correta em seguida.
- D) Não se divide em parágrafos, não tem espaços em branco e, por isso, os períodos são contínuos, sem mudança de linha.
- E) É a narração escrita pomenorizada e autenticada de um fato.

32 – Assinale a alternativa que representa uma característica do documento **Memorando**.

- A) Explicita um acordo entre duas ou mais pessoas que transfere entre si algum direito ou se sujeitam a alguma obrigação.
- B) Finalidade de complementar uma correspondência anterior, fazer comunicações e solicitações ligeiras.
- C) Expedir comunicações internas referentes ao serviço.
- D) Documento que estabelece um acordo entre pessoas ou entidades.
- E) Trata de negócios e é trocada entre empresas comerciais.

33 – O documento através do qual uma autoridade estabelece normas administrativas, baixa instruções ou define situações funcionais é denominado

- A) Aviso.
- B) Edital.
- C) Portaria.
- D) Processo.
- E) Circular.

34 – O documento equivalente ao documento **Declaração**, que as repartições públicas, em razão de sua natureza, fornecem é

- A) Atestado.
- B) Parecer.
- C) Recibo.
- D) Certidão.
- E) Requerimento.

35 – Apenas um dos itens abaixo é FALSO. Identifique-o.

- A) A estrutura do documento Requerimento consiste de invocação, texto e fecho.
- B) Quanto à apresentação, o Relatório contém três partes bem definidas: introdução, contexto e conclusão.
- C) O papel usado para escrever um Memorando é o de meio-ofício.
- D) O Atestado difere da Certidão, porque, enquanto esta prova fatos permanentes, aquele se refere a fatos transitórios.
- E) A Ata não é um documento de valor jurídico.

36 – A respeito dos pronomes **Vossa Excelência** e **Sua Excelência**, assinale a alternativa CORRETA.

- A) Quanto ao uso, **Vossa Excelência** e **Sua Excelência** empregam-se indistintamente um pelo outro.
- B) Referindo-se ao Presidente da República, pode-se empregar **Sua Excelência** de forma abreviada.
- C) Ambos os tratamentos fazem concordância na terceira pessoa do singular.
- D) **Vossa Excelência** requer verbo na segunda pessoa do plural enquanto **Sua excelência**, na terceira pessoa do singular.
- E) **Vs. Exas.** é abreviatura correta no plural para **V. Exa.**

37 – Assinale a alternativa ERRADA quanto ao emprego dos pronomes de tratamento.

- A) **Sua Eminência**, o Cardeal-Arcebispo de S. Paulo, dirigiu mensagem ao povo brasileiro.
- B) **Excelentíssimo Senhor**, Coronel Billoti, gostaria de agendar um encontro para obter informações sobre a "Operação Gabiru".
- C) **Vossa Majestade** é bondoso, Sr. Príncipe.
- D) **Sua Reverendíssima**, Padre Francisco, esteve visitando nossa casa.
- E) **V. Ex.^a**, Senhor Embaixador, deve ter viajado por muitos países.

38 – O pronome de tratamento **Vossa Excelência** pode ser empregado nos seguintes casos, EXCETO para

- A) Chefe do Serviço Nacional de Informações.
- B) Oficiais-Coronéis.
- C) Presidente da República.
- D) Oficiais-Generais.
- E) Governador do Estado.

39 – Apenas uma das alternativas abaixo é FALSA. Identifique-a.

- A) O documento **Parecer** difere do documento **Informação**, porque enquanto o primeiro **interpreta** fatos, o segundo apenas os **fornece**.
- B) A solução dada por uma autoridade a um **Requerimento** ou **Petição** é denominada **Certidão**.
- C) O documento **Requerimento** também pode ser denominado **Petição** ou **Recurso**.
- D) **Relatório** é o documento através do qual se expõem os resultados de atividades variadas.
- E) O **Livro de Atas** deve conter um **Termo de Abertura** e um **Termo de Encerramento**.

40 – Suponha que você deseje dirigir-se a personalidades eminentes, cujos títulos são: **senador, juiz de direito, imperador, bispo e coronel**. A seqüência que associa CORRETAMENTE os pronomes de tratamento usados ao se dirigir a estas personalidades é

- A) V. Em.^a; V. EX.^a; V. A.; V. EX.^a e V. S.^a
- B) V. Em.^a; V. EX.^a; V. A.; V. EX.^a e V. EX.^a
- C) V. EX.^a; V. EX.^a; V. M.; V. EX.^a e V. S.^a
- D) V. EX.^a; V. Em.^a; V. M.; V. EX.^a e V. S.^a
- E) V. EX.^a; V. EX.^a; V. A.; V. EX.^a e V. S.^a

INFORMÁTICA

Nas questões referentes a **informática**, a menos que seja explicitamente informado o contrário, considere o seguinte: a) todos os programas mencionados estão em configurações-padrão e em português; b) o *mouse* está configurado para pessoas destros; c) expressões como **clique**, **clique simples**, **clique duplo** e **clique triplo** referem-se a cliques com o botão esquerdo do *mouse*; d) não há restrições de proteção, de funcionamento e de uso em relação aos programas, arquivos, diretórios e equipamentos mencionados.

41 – Marque a alternativa que melhor define, respectivamente, **hardware / software / peopleware**:

- A) Parte física de um computador responsável pela entrada, saída, processamento e armazenamento de dados. / Parte lógica de um computador da qual faz parte a memória RAM. / Usuários do computador.
- B) Parte física de um computador, responsável pela entrada, saída, processamento e armazenamento de dados. / Programa, ou parte lógica de um computador, ou conjunto de ordens em uma seqüência lógica. / Pessoas que manuseiam o computador.
- C) Parte física de um computador da qual faz parte o sistema operacional. / Programa, ou parte lógica de um computador, ou conjunto de ordens em uma seqüência lógica. / Pessoas que manuseiam o computador.
- D) Parte física de um computador, responsável apenas pela entrada e saída de dados. / Parte lógica de um computador da qual faz parte a memória RAM. / Usuários do computador.
- E) Pessoas que manuseiam o computador. / Parte física de um computador, responsável apenas pela entrada e saída de dados. / Parte lógica de um computador da qual faz parte a memória RAM.

42 – Marque a alternativa CORRETA com relação aos conceitos básicos de informática:

- A) A **CPU** é o dispositivo de hardware responsável pelo processamento dos dados.
- B) A **CPU** é o dispositivo de hardware ao qual são ligados todos os componentes do computador como: monitor, impressora, teclado, mouse e drives de cd-rom e de disquete.
- C) O **monitor** é um dispositivo de hardware de saída de dados com a função de monitorar o funcionamento da CPU.
- D) O **teclado** é um dispositivo de hardware de saída de dados utilizado pelo usuário para operar o computador.
- E) O **mouse** é um dispositivo de software de entrada de dados com dispositivo de rolagem e de botões para facilitar a navegação no computador.

43 – No Windows 98, há mais de uma maneira de se **desligar** o computador; uma delas é

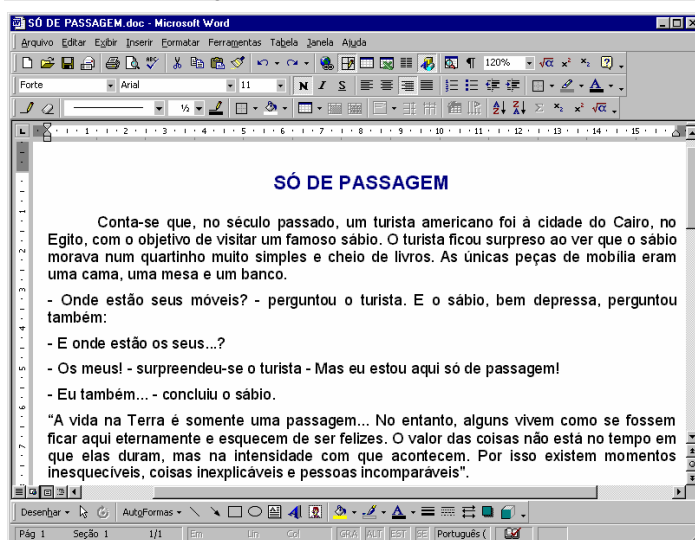
- A) pressionar simultaneamente as teclas CTRL + ALT + DEL, e logo após pressionar CTRL + SHIFT +DEL.
- B) pressionar simultaneamente as teclas CTRL + ALT + DEL, e logo após pressionar novamente CTRL + ALT + DEL.
- C) pressionar simultaneamente as teclas CTRL + ALT + DEL, e logo após clicar em **Desligar**.
- D) pressionar simultaneamente as teclas CTRL + SHIFT + DEL, e logo após clicar em **Desligar**.
- E) pressionar simultaneamente as teclas CTRL + SHIFT + DEL, e logo após pressionar CTRL + ALT +DEL.




44 – Assinale a alternativa que apresenta uma característica do Windows 2000:

- A) Por padrão, novos programas são instalados numa pasta chamada **Novos Aplicativos**.
- B) Não possui ferramenta de atualização automática (*Windows Update*), pois só pode ser atualizado manualmente por questão de segurança.
- C) Não é possível criar usuários com vários níveis de privilégios de acesso ao computador, há apenas dois grupos de usuários.
- D) Pode ser instalado apenas em **PCs** (*Computadores Pessoais*), ou seja, não é possível instalá-lo em **Notebooks**.
- E) Apenas usuários do grupo **Administradores** possuem privilégio para visualizar pastas e arquivos de todos os usuários.

Com base na figura a seguir, responda a questão 45.

45 –Análise as afirmativas a seguir na janela do **Microsoft Word 2000** em português.



- I – Na barra **Padrão** com o botão , podemos escolher entre os modelos de fax, cartas, relatórios ou currículo para um novo documento.
- II – Utilizando o botão  da barra de **Tabelas e Bordas**, podemos alterar as cores das fontes uma vez selecionadas.
- III – Utilizando a combinação de teclas CTRL + O, abre-se um novo documento em branco.
- IV – Clicando no botão  com o botão direito do *mouse*, é possível definir as configurações na nova planilha a ser inserida.

É CORRETO o que se afirma em

- A) I e III.
- B) I e IV.
- C) I.
- D) II.
- E) III.

46 – Utilizando a combinação de teclas CTRL + A no **Word 2000**, é possível

- A) ativar o **AutoTexto**.
- B) **AutoAjustar** uma tabela selecionada.
- C) selecionar todo o texto do documento ativo.
- D) abrir a caixa de diálogo **Abrir**.
- E) ativar a **AutoCorreção** do menu **Ferramentas**.

47 – Existe um recurso no **Microsoft Word 2000** chamado **Substituir** responsável pela substituição de seqüência de caracteres, palavras ou frases em documentos; este recurso pode ser ativado com a combinação de teclas

- A) CTRL + S.
- B) CTRL + U.
- C) ALT + C.
- D) ALT + S.
- E) SHIFT + U.

48 – Sobre o **Microsoft Excel 2000**, na versão em Português, podemos afirmar APENAS que

- A) os últimos arquivos utilizados são informados no menu **Arquivo**; por sua vez, essa quantidade de arquivos poderá ser modificada na guia/aba **Exibir** em **Opções** no menu **Janela**.
- B) a configuração de cabeçalho e rodapé somente é possível através do item **Cabeçalho e rodapé** do menu **Exibir**.
- C) o número de planilhas de uma nova pasta pode ser alterado na guia/aba **Geral** em **Opções** no menu **Ferramentas**.
- D) para proteger uma planilha, deve-se escolher **Opções** no menu **Ferramentas** e, em seguida, **Proteger Planilha...**, não esquecendo de informar uma senha obrigatoriamente.
- E) após atualizar alguns dados em uma planilha será possível utilizar a combinação de teclas CTRL+S para salvar as últimas modificações.

49 – Com relação aos conceitos básicos de **Intranet**, **Internet** e **Correio Eletrônico**, é CORRETO afirmar que

- A) o **Correio Eletrônico** é um tipo de comunicação feito pela Internet, semelhante à utilização de um telegrama fonado.
- B) o **Correio Eletrônico** é um aplicativo que armazena apenas mensagens de texto enviadas pela Internet.
- C) **Intranet** é um conjunto de aplicativos públicos acessível a qualquer usuário através da Internet.
- D) a **Internet** é um conjunto de redes interligadas através da arquitetura TCP/IP para comunicação mundial de dados.
- E) **Intranet** é uma rede de informação particular, não acessível através da Internet e desvinculada de qualquer instituição pública ou privada.

Com base na figura a seguir, responda a questão 50.

50 Analise as afirmativas a seguir na janela do **Microsoft Internet Explorer 6** em português.



- I – A combinação de teclas CTRL + N, faz com que o **Internet Explorer** abra uma nova janela.
- II – A combinação de teclas CTRL + L, abre no **Internet Explorer** a ferramenta de **Localizar**.
- III – O **Internet Explorer** é considerado um **Browser**.
- IV – A tecla F2 tem a função de atualizar a página atual no **Internet Explorer**.

É CORRETO o que se afirma em

- A) II e III.
- B) III e IV.
- C) I e II.
- D) I e III.
- E) I, II e III.

