

Cargo (Nível Superior):

Código 11


ANALISTA DE PROCESSOS ORGANIZACIONAIS
Economia ou Administração de Empresas

Prova de Português, Raciocínio Lógico e
Conhecimentos Específicos

CADERNO DE QUESTÕES

INSTRUÇÕES GERAIS

1. Este **Caderno de Questões** somente deverá ser aberto quando for autorizado pelo Fiscal.
2. **Antes de iniciar** a prova, **confira** se o **tipo** da prova do **Caderno de Questões** é o mesmo da **etiqueta da banca** e da **Folha de Respostas** de questões objetivas.
3. Ao ser autorizado o início da prova, verifique se a numeração das questões e a paginação estão corretas. Verifique também se contém **60 (sessenta)** questões objetivas com 5 (cinco) alternativas cada. Caso contrário, comunique imediatamente ao Fiscal.
4. O tempo disponível para esta prova é de **3 horas e 30 minutos**. Faça-a com tranquilidade, mas **controle seu tempo**. Esse **tempo** inclui a marcação da **Folha de Respostas** de questões objetivas.
5. Você somente poderá sair em definitivo do Local de Prova depois de decorridas **2 horas** do início da aplicação.
6. Na **Folha de Respostas** de questões objetivas, confira seu **nome, número do seu documento de identificação, tipo de prova e cargo escolhido**.
7. Em hipótese alguma lhe será concedida outra **Folha de Respostas** de questões objetivas.
8. Preencha a **Folha de Respostas** de questões objetivas utilizando caneta esferográfica de tinta azul ou preta. Na **Folha de Respostas** de questões objetivas, preencha completamente o círculo correspondente à alternativa escolhida, conforme modelo:

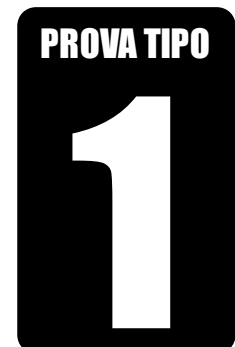


9. Será atribuído o valor ZERO à questão que contenha na **Folha de Respostas** de questões objetivas: dupla marcação, marcação rasurada, emendada ou com "X", não preenchida totalmente ou que não tenha sido transcrita.
10. A correção da prova objetiva será efetuada de forma eletrônica, considerando-se apenas o conteúdo da **Folha de Respostas** de questões objetivas.
11. Caso a Comissão julgue uma questão como sendo nula, os pontos serão atribuídos a todos os candidatos.
12. Não será permitida qualquer espécie de consulta.
13. Ao terminar a prova, **devolva** ao **Fiscal** de Sala este **Caderno de Questões**, juntamente com a **Folha de Respostas** de questões objetivas, e **assine a Lista de Presença**.
14. Na sala que apresentar apenas 1 (um) Fiscal, os 3 (três) últimos candidatos somente poderão ausentar-se da sala juntos, após a **assinatura da Ata de Encerramento** de provas.
15. **Assine** neste Caderno de Questões e **coloque** o número do seu documento de identificação (RG, CNH etc.).

Boa Prova!

N. do doc. de identificação (RG, CNH etc.):

Assinatura do(a) candidato(a):



2014

ALGÁS

(Edital n° 001/2014)



FUNDEPES

Maceió - AL, 8 de junho de 2014.

PORTUGUÊS

A questão 1 refere-se à tirinha abaixo.



Disponível em: <<http://vidadeleiturista.blogspot.com.br>>. Acesso em: 5 maio 2014.

1. No trecho “Leitura do livro!”, presente no balão do último quadrinho, o ponto de exclamação revela um efeito

- A) de dúvida do leitor, que não sabe quem bate à porta.
- B) de irritação do leitor, que não quer ser interrompido.
- C) de cansaço do leitor, pelo longo período de leitura.
- D) de alegria do leitor, por ter terminado a leitura.
- E) de surpresa do leitor, pela visita inesperada.

A questão 2 refere-se à charge abaixo.



Disponível em: <<http://www1.folha.uol.com.br/opiniaio/>>. Acesso em: 12 maio 2014.

2. Dadas as afirmativas a respeito da concordância do verbo “colocou”,

- I. A forma verbal “colocou” está na terceira pessoa do singular, uma vez que o sujeito é o pronome relativo “quem”.
- II. Uma vez que o sujeito é o pronome relativo “quem”, a forma verbal poderia estar também na 1ª pessoa do singular (coloquei), concordando com o antecedente do pronome relativo.
- III. Caso o pronome relativo “quem” fosse substituído pelo pronome “que”, haveria necessidade de adequação da forma verbal, a qual passaria para a 1ª pessoa do singular (coloquei).

verifica-se que está(ão) correta(s)

- A) I, apenas.
- B) III, apenas.
- C) I e II, apenas.
- D) II e III, apenas.
- E) I, II e III.

A questão 3 refere-se ao fragmento abaixo.

Ouviu-se um forte sibilo, que foi acompanhado por um bramido da fera; a pequena seta despedida pelo índio se cravara na orelha, e uma segunda, açoitando o ar, ia ferir-lhe a mandíbula inferior.

ALENCAR, José. *O guarani*. São Paulo: Ática, 1991.

3. Em relação às estruturas linguísticas, assinale a alternativa correta.

- A) O termo “um forte sibilo” é sujeito simples.
- B) O “lhe” em “ferir-lhe a mandíbula” é objeto indireto.
- C) O “se” em “se cravara na orelha” é pronome reflexivo.
- D) O “que” em “que foi acompanhado” é conjunção integrante.
- E) O “se” em “Ouviu-se um forte sibilo” é indicador de sujeito indeterminado.

A questão 4 refere-se ao texto abaixo.

Dança da chuva

senhorita chuva
me concede a honra
desta contradança
e vamos sair
por esses campos
ao som desta chuva
que cai sobre o teclado

Paulo Leminski – *Toda Poesia*. 2013.

4. O termo “chuva”, sublinhado, utilizado pelo poeta no primeiro e sexto versos, é polissêmico porque

- A) tem significado único no texto.
- B) tem mais de um significado no texto.
- C) as ocorrências têm sentido denotativo.
- D) as ocorrências têm relação de sinonímia.
- E) as ocorrências têm relação de antonímia.

5. As orações que compõem o período: “Disciplina é liberdade; compaixão é fortaleza; ter bondade é ter coragem.” são

- A) subordinadas adjetivas.
- B) coordenadas sindéticas.
- C) subordinadas adverbiais.
- D) coordenadas assindéticas.
- E) subordinadas substantivas.

A questão 6 refere-se ao texto abaixo.

Dobrando o cotovelo da estrada, Fabiano sentia distanciar-se um pouco dos lugares onde tinha vivido alguns anos; o patrão, o soldado amarelo e a cachorra Baleia esmoreceram no seu espírito.

Graciliano Ramos. *Vidas Secas*.

6. No trecho destacado, Graciliano Ramos se vale de um recurso estilístico conhecido como figura de linguagem, que é denominada de

- A) anáfora.
- B) hipérbole.
- C) catacrese.
- D) metonímia.
- E) prosopopeia.

A questão 7 refere-se à tirinha abaixo.



Disponível em: <http://discidopedia.org/wiki/Recruta_Zero>. Acesso em: 1 maio 2014.

7. No primeiro quadro da tirinha, na fala do recruta Zero, há um problema de adequação à norma padrão. A reescrita, de acordo com a tradição gramatical, é:

- A) Não jogo cartas com tu se tu não tirar a camisa, Cosme!
- B) Não jogo cartas contigo se tu não tirar a camisa, Cosme!
- C) Não jogo cartas contigo se tu não tirares a camisa, Cosme!
- D) Não jogo carta com você se tu não tirares a camisa, Cosme!
- E) Não jogo cartas consigo se você não tirardes a camisa, Cosme!

A questão 8 refere-se ao texto abaixo.

Eu não podia pensar nos outros porque não existiam outros. O mundo era uma gramática em branco. Só havia eu, e todos os verbos eram na primeira pessoa. Eu abri os olhos. Eu olhei em volta. Eu vi que estava no paraíso (do grego *paradeisos*, um jardim dos prazeres). Eu perguntei: o que devo fazer, Senhor?, e Deus me respondeu: Nada, apenas exista. E eu fui tomado pelo tédio. A primeira sensação humana.

VERÍSSIMO, Luís Fernando. *Orgias*. Rio de Janeiro: Objetiva, 2005.

8. Acerca de aspectos gramaticais do texto acima, assinale a alternativa correta.

- A) O trecho "porque não existiam outros" pode ser também escrito corretamente "porque não haviam outros".
- B) A vírgula em "o que devo fazer, Senhor?" pode ser retirada da sentença, visto que não há justificativa para o uso.
- C) No período "Eu vi que estava no paraíso", a oração "que estava no paraíso" exerce a função sintática de sujeito.
- D) No trecho "Só havia eu, e todos os verbos eram na primeira pessoa", o uso da vírgula não se justifica, pois antes de conjunção aditiva não se utiliza vírgula.
- E) O trecho "Eu abri os olhos. Eu olhei em volta. Eu vi que estava no paraíso" pode ser transformado num único período sem danos à norma culta: "Eu abri os olhos, olhei em volta e vi que estava no paraíso".

A questão 9 refere-se ao texto abaixo.

Preço da cerveja

Pela segunda vez em menos de um mês, o governo elevou os impostos sobre a bebida. Com o repasse dos fabricantes, o preço do produto pode aumentar em até 10%.

VEJA. São Paulo: Ed. Abril, n. 19, 7 maio 2014.

9. Quanto ao emprego das vírgulas no texto é correto afirmar que

- A) ambas foram utilizadas com a finalidade de separar o sujeito do predicado.
- B) ambas apresentam a mesma finalidade: foram usadas para isolar orações adverbiais.
- C) ambas apresentam a mesma finalidade: foram usadas para isolar adjuntos adverbiais deslocados.
- D) a primeira vírgula foi empregada para indicar elipse verbal; a segunda, para assinalar orações adverbiais.
- E) a primeira vírgula foi empregada a fim de desfazer ambiguidades; a segunda, na separação de orações.

A questão 10 refere-se ao texto abaixo.

O nexa entre o real e as imagens faz com que conceitos abstratos tornem-se vivos e inesquecíveis.

Literatura e Educação. Belo Horizonte: Autêntica, 2006.

10. No texto, o escritor Gabriel Perissê informa que

- A) a lógica entre o real e as imagens acentua a abstração dos conceitos.
- B) a incongruência entre o real e as imagens torna vivos os conceitos abstratos.
- C) os conceitos abstratos são resultantes da existência de nexa entre o real e as imagens.
- D) as associações entre o real e as imagens são formas conceituais subjetivas e inesquecíveis.
- E) a associação lógica entre o real e as imagens transforma o conceito abstrato em algo plausível e inesquecível.

A questão 11 refere-se à tirinha abaixo.



Disponível em: <<http://www.pinterest.com/pin/>>. Acesso em: 15 maio 2014.

11. Considerando-se o enunciado do 1º balão com a conjunção "se" no lugar de "a menos que", o efeito de sentido seria alterado de "esperança" para indicar

- A) hipótese ou condição necessária.
- B) consequência ou conclusão.
- C) explicação enfática.
- D) valor de atenuação.
- E) valor comparativo.

A questão 12 refere-se ao texto abaixo.

Com o Sol

Essa que amo mora num sobrado e o sol, que a quer também, para-se em frente e até que o sol se canse e, enfim, se ausente; a janela é deserta, e eu, desolado.

Marcelo Gama (adaptado).

12. Os “quês” destacados no poema exercem, respectivamente, as funções de

- A) pronome relativo, pronome substantivo e preposição.
- B) conjunção subordinativa concessiva, pronome adjetivo e partícula de realce.
- C) pronome substantivo, pronome adjetivo e conjunção coordenativa explicativa.
- D) pronome relativo, pronome relativo e conjunção subordinativa temporal.
- E) conjunção integrante, pronome relativo e conjunção subordinativa consecutiva.

A questão 13 refere-se à estrofe abaixo.

Negras mulheres, suspendendo às tetas
Magras crianças, cujas bocas pretas
Rega o sangue das mães:
Outras, moças... mas nuas, espantadas,
No turbilhão de espectros arrastadas,
Em ânsia e mágoa vãs.

ALVES, Castro. Os escravos. In: *Obra Completa*. Rio de Janeiro: Nova Aguilar, 1986.

13. Se fosse retirado o acento grave de “às tetas”, essa expressão exerceria a função sintática de

- A) complemento nominal.
- B) adjunto adverbial.
- C) objeto indireto.
- D) objeto direto.
- E) sujeito.

A questão 14 refere-se ao texto abaixo.

Dia da água

Criado pela ONU em 1993, o Dia Mundial da Água foi uma tentativa de organizar os países membros para realizarem campanhas de conscientização sobre o consumo da água no mundo. Cada ano tem um tema específico, mas cabe aos países escolherem as ações a serem tomadas.

Galileu. São Paulo: Ed. Globo, mar. 2014.

14. A expressão destacada estabelece entre as orações uma relação semântica de

- A) conclusão.
- B) finalidade.
- C) concessão.
- D) causalidade.
- E) consecutividade.

A questão 15 refere-se ao texto abaixo.

A potência da acupuntura

A acupuntura já se consagrou como método eficiente para aliviar dores. Agora, embasada por sólidas pesquisas científicas realizadas em todo mundo, suas aplicações começam a se expandir. A prática é usada contra doenças como depressão, na recuperação de sequelas de acidente vascular cerebral e até em procedimentos de beleza. O avanço do método, nascido na China, em terras ocidentais é consequência de algumas transformações ocorridas nos últimos anos. A primeira foi a demanda crescente por técnicas que melhoram a saúde sem a necessidade de se recorrer a remédios. A acupuntura se ajusta perfeitamente nesse quesito. A segunda deve-se ao fato de que a medicina finalmente encontrou meios de avaliar com mais refinamento científico o efeito das agulhas no organismo. [...]

REVISTA ISTOÉ. Editora Três, edição nº 2317 – Ano 38 – 23 Abr./ 2014.

15. Em: “A primeira foi a demanda crescente por técnicas que melhoram a saúde [...]”, o vocábulo sublinhado é um mecanismo de coesão que faz alusão, no contexto,

- A) a algumas transformações ocorridas.
- B) à recuperação de sequelas.
- C) a terras ocidentais.
- D) às aplicações.
- E) à acupuntura.

A questão 16 refere-se ao texto abaixo.

O Leão e o Rato

Um Leão dormia sossegado, quando foi acordado por um Rato, que passava correndo em cima de seu rosto. Com um ataque ágil ele o agarrou, e estava pronto para matá-lo, ao que o Rato implorou: Por favor, se o senhor me soltar, tenho certeza que um dia poderia retribuir sua bondade. Rindo por achar ridícula a ideia, assim mesmo, ele resolveu soltá-lo. Pouco tempo depois, o Leão caiu numa armadilha colocada por caçadores. Preso ao chão, amarrado por fortes cordas, sequer podia mexer-se. O Rato, ouvindo seu rugido, aproximou-se e roeu as cordas até deixá-lo livre. Então disse: O senhor riu da ideia de que eu jamais seria capaz de ajudá-lo. Nunca esperava receber de mim qualquer favor em troca do seu! Mas agora sabe que mesmo um pequeno Rato é capaz de retribuir um favor a um poderoso Leão.

Moral da História - Os pequenos amigos podem se revelar os melhores e mais leais.

Baseada na obra de Esopo - Fabulista grego do século VI.a.C. - <http://www.clickatualidade.com.br>.

16. De acordo com a gramática da língua portuguesa, quando anteposto ao substantivo, o adjetivo favorece uma predicação em que se ressaltam valores afetivos ou psicológicos. Diante desse princípio semântico, o significado para a expressão “pequenos amigos”, contida na Moral da História, é:

- A) amigos de feições rudes.
- B) amigos de baixa estatura.
- C) amigos de muitas posses, ricos.
- D) amigos muito novos, ainda na infância.
- E) amigos pouco apreciáveis, de pouco valor.

A questão 17 refere-se ao poema abaixo.

Teresa, se algum sujeito bancar o sentimental em cima de você
 E te jurar uma paixão do tamanho de um bonde
 Se ele chorar
 Se ele ajoelhar
 Se ele se rasgar todo
 Não acredita não, Teresa
 É lágrima de cinema
 É tapeação
 Mentira
 Cai fora.

BANDEIRA, Manuel. *Poesia completa*. São Paulo: M. Fontes, 1997.

17. Ao construir o texto, o poeta Manuel Bandeira

- A) prescinde de marcadores textuais inerentes ao texto prosaico.
- B) apresenta imagens poéticas pitorescas e dissociadas da proposta original do poema.
- C) transpõe para o poema marcadores linguísticos prosaicos, reveladores de coloquialidade.
- D) abdica de elementos expressivos cotidianos para construir um texto de concepções rebuscadas.
- E) reforça os marcadores estruturais do poema, utilizando a rima, a métrica e a pontuação rigorosa.

18. Dadas as orações, quanto à concordância verbal, de acordo com a norma culta,

- I. Fernanda Montenegro é uma das atrizes que mais recebem convites para participar de filmes em Hollywood.
- II. Férias é um período para descansar e recarregar as energias gastas.
- III. De todo o eleitorado, apenas vinte e cinco por cento compareceu à votação da nova diretoria.
- IV. Já não se faz mais móveis como antigamente.

verifica-se que está(ão) correta(s)

- A) II, apenas.
- B) I e II, apenas.
- C) I e III, apenas.
- D) III e IV, apenas.
- E) I, II, III e IV.

A questão 19 refere-se ao texto abaixo.

Uma cultura da narração é substituída de alguma maneira por uma cultura de movimento; uma cultura lírica ou melódica é substituída por uma cultura cinematográfica, construída sobre o choque e o dilúvio de imagens, sobre a busca da sensação imediata.

LIPOVETSKY, Gilles. *O império do efêmero*. São Paulo: Companhia das Letras, 1989.

19. A expressão “dilúvio de imagens”, utilizada pelo autor, está relacionada à(ao)

- A) estabilidade da cultura cinematográfica.
- B) constituição estática da cultura imagética.
- C) profusão de imagens, constituinte da cultura cinematográfica.
- D) inundação de formas e imagens que resultam da cultura lírica.
- E) caráter da cultura cinematográfica, fundamentada no comedimento das imagens.

A questão 20 refere-se ao texto abaixo.

Podemos definir o homem como o animal que pode dizer “eu”, que tem consciência de si mesmo como entidade independente. O animal, por estar dentro da Natureza sem transcendê-la, não tem consciência de si mesmo, não necessita de um sentimento de identidade. O homem, afastado da Natureza, dotado de razão e de imaginação, necessita formar conceito de si mesmo, necessita dizer e sentir.

FROMM, Erich. *Psicanálise da sociedade contemporânea*. Rio de Janeiro: Zahar, 1970.

20. A ideia principal do autor está fundamentada na seguinte proposição:

- A) o homem prescinde de estratégias que o impulsionem a construir conceitos sobre si mesmo.
- B) o animal e o homem se diferenciam pela consciência do “eu”. O homem se dissipou da Natureza; o animal não.
- C) pode-se afirmar que os atos de sentir e de dizer se dissociam da capacidade humana de formar conceitos sobre a realidade.
- D) o homem, por se reconhecer na escala dos elementos naturais, não transcende de seu caráter estritamente zoomórfico para uma consciência identitária.
- E) o sentimento de identidade está associado à concepção do “eu”, mas o homem não desenvolveu estratégias que o submeteria a ser reconhecido como ser individual.

RACIOCÍNIO LÓGICO

RASCUNHO

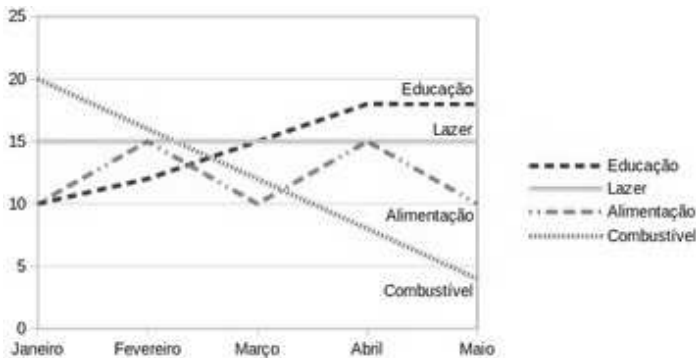
21. Sabe-se que “Se José é obeso, então ele não faz dieta alimentar”. Como José faz dieta alimentar, podemos concluir que José não é obeso. A inferência lógica aplicada é

- A) contraditória.
- B) predicativa.
- C) dedutiva.
- D) reflexiva.
- E) indutiva.

22. Sejam as premissas: “Algum filósofo é jovem” e “Todo jovem é aventureiro”. Para que o argumento seja válido, devemos concluir que

- A) todo jovem é filósofo.
- B) todo filósofo é aventureiro.
- C) algum jovem não é filósofo.
- D) algum aventureiro é filósofo.
- E) nenhum aventureiro é filósofo.

23. O gráfico abaixo apresenta as despesas de uma família nos primeiros cinco meses do corrente ano.



Assinale a alternativa correta quanto as informações apresentadas no gráfico.

- A) Os maiores gastos com alimentação ocorreram nos meses de fevereiro, março e abril.
- B) Os gastos com lazer e combustível diminuíram entre fevereiro e maio.
- C) Os gastos com alimentação e educação subiram de janeiro para fevereiro.
- D) A maior despesa com combustível ocorreu no mês de abril.
- E) As despesas com educação cresceram a cada mês.

24. Num experimento científico, é observado que apenas um dentre três eventos e_1 , e_2 e e_3 pode ser observado por vez. Sabendo-se que a probabilidade de ocorrer e_1 ou e_2 é de 55% e que a probabilidade de ocorrer e_1 ou e_3 é de 62%, qual a probabilidade de ocorrer e_2 ou e_3 ?

- A) 17%
- B) 38%
- C) 45%
- D) 83%
- E) 91%

25. Dadas as fórmulas abaixo relativas a conjuntos A, B e C quaisquer,

- I. $(A \subseteq B) \leftrightarrow (A - B = \emptyset)$
- II. $(A \cap B = C) \rightarrow \forall x((x \in A) \vee (x \in B)) \rightarrow (x \in C)$
- III. $(A - B = A) \rightarrow (B = \emptyset)$

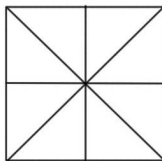
verifica-se que está(ão) correta(s)

- A) I, apenas.
- B) III, apenas.
- C) I e II, apenas.
- D) II e III, apenas.
- E) I, II e III.

26. Considerando o alfabeto da Língua Portuguesa composto de 26 letras, quantas pessoas, no mínimo, devem estar presentes numa sala para que se possa garantir com absoluta certeza que ao menos quatro delas possuam primeiros nomes iniciando com a mesma letra?

- A) 4
- B) 79
- C) 89
- D) 108
- E) 109

27. Quantos triângulos existem na figura abaixo?



- A) 8
- B) 10
- C) 12
- D) 16
- E) 18

28. No último ano, devido às condições climáticas da região sudeste do país, o preço do tomate sofreu três aumentos de 20%. Esses aumentos consecutivos no ano produziram um aumento total do produto em, aproximadamente,

- A) 40%.
- B) 50%.
- C) 60%.
- D) 64%.
- E) 72%.

29. Uma urna contém seis bolas de pesos e tamanhos iguais, duas delas identificadas pela letra S e as demais pelas letras A, C, E e O. Sorteando-se as bolas, uma a uma e sem reposição, qual é a probabilidade de que a ordem de retirada das bolas forme a palavra ACESSO?

- A) 0,002
- B) 0,008
- C) 0,02
- D) 0,032
- E) 0,08

30. Dadas as premissas,

Ana e Bruno jogam basquete.

Carlos anda de bicicleta se Ana joga basquete.

Daniela corre ou Carlos não anda de bicicleta.

Daniela não correr é condição necessária para Edson patinar.

é correto inferir que

- A) Bruno joga e Edson patina.
- B) Daniela corre e Edson não patina.
- C) Daniela não corre ou Bruno não joga.
- D) Daniela corre e Carlos não anda de bicicleta.
- E) Se Carlos anda de bicicleta, Ana não joga basquete.

RASCUNHO

CONHECIMENTOS ESPECÍFICOS

A questão 31 refere-se ao texto abaixo.

Nos últimos dez anos, o mercado mundial de gás natural passou por uma série de mudanças, como o desenvolvimento da produção do gás não convencional nos EUA e o aumento do comércio internacional de gás natural liquefeito. Essas mudanças transformaram a dinâmica mundial do mercado de gás natural. Uma revolução impensável há 20 anos que viabilizou a oferta de gás a partir de formações de *shale* no miolo do sistema de transporte e do denso mercado de gás natural americano e fez com que os preços do gás despencassem de cerca de US\$ 11/MMBTU, em meados de 2008, para algo em torno de US\$ 4/MMBTU, em 2013, e abandonassem qualquer correlação com os preços do petróleo.

PIRES, Adriano e BALTHAZAR, Marcio. O preço do gás natural no Brasil. *O Estado de São Paulo*. Caderno de Economia e Negócios. Publicado em 17 de julho de 2013. Disponível em: <<http://www.estadao.com.br/noticias/impreso,o-preco-do-gas-natural-no-rasil,1054247,0.htm>>. Acesso em: 05 maio 2014.

31. Considerando que as quantidades de gás em 2008 e em 2013 fossem dadas no texto, que tipo de conceito de elasticidade poderia ser calculado?

- A) Elasticidade – Preço da oferta.
- B) Elasticidade – Preço da demanda.
- C) Elasticidade – Preço cruzada da demanda.
- D) Elasticidade – Renda cruzada.
- E) Elasticidade – Renda.

32. Dadas as afirmativas abaixo quanto às formas de intervenção do Estado na economia,

- I. O Estado intervém na economia como agente normativo e regulador da atividade econômica, exercendo a função de fiscalização, incentivo e planejamento.
- II. O Estado intervém na economia como legislador.
- III. O Estado intervém na economia como ofertante de bens e serviços, explorando diretamente a atividade econômica.

verifica-se que está(ão) correta(s)

- A) I, apenas.
- B) III, apenas.
- C) I e II, apenas.
- D) II e III, apenas.
- E) I, II e III.

33. Cada país determina as funções que devem desempenhar o seu Banco Central. No Brasil, o Banco Central tem as atribuições de:

- I. exercer o controle de crédito;
- II. realizar operações de redesconto;
- III. efetuar o controle de capitais estrangeiros.

Dos itens acima, verifica-se que está(ão) correto(s)

- A) I, II e III.
- B) II e III, apenas.
- C) I e II, apenas.
- D) III, apenas.
- E) I, apenas.

34. Considere a seguinte situação: a TUDOGÁS S/A resolveu comprar um terreno para implantação de uma nova planta industrial. Sendo o pagamento efetuado a prazo e o valor do terreno de R\$ 5.000.000,00, a utilização do método de partidas dobradas a levará a

- A) debitar na conta Terrenos, diminuindo o Ativo, e a creditar na conta Contas a pagar, diminuindo o Passivo.
- B) creditar na conta Terrenos, aumentando o Ativo, e a debitar na conta Contas a pagar, aumentando o Passivo.
- C) debitar na conta Terrenos, aumentando o Ativo, e a creditar na conta Contas a pagar, aumentando o Passivo.
- D) creditar na conta Terrenos, diminuindo o Ativo, e a debitar na conta Contas a pagar, diminuindo o Passivo.
- E) debitar na conta Terrenos, aumentando o Ativo, e a creditar na conta Caixa, diminuindo o Ativo.

A questão 35 refere-se ao texto abaixo.

Ela é responsável por mais de 95% da produção de gás natural do país e por 99% da comercialização, por 100% da regaseificação, por 100% da malha de gasodutos domésticos e por 51% do gasoduto Brasil-Bolívia. A Petrobras está presente em 21 das 27 distribuidoras estaduais de gás natural, sendo que em duas detém o controle (Oeste de São Paulo e Espírito Santo), e possui mais de 50% da capacidade termoelétrica instalada a gás natural, que corresponde a 80% do gás usado no setor termoelétrico, volume que atinge 95% do total quando consideramos os contratos de gás com as térmicas que não são controladas.

TAVARES, Marco. Os desafios do mercado brasileiro de gás natural. *Interesse Nacional*. n. 22, jul./set., 2013. p. 23

35. Considerando que o texto acima se refere à Petrobras, conclui-se que o mercado brasileiro de gás natural, quanto à distribuição por gasodutos domésticos, é representado por um(a)

- A) oligopólio.
- B) monopólio.
- C) concorrência monopolista.
- D) concorrência perfeita.
- E) duopólio.

A questão 36 refere-se ao texto abaixo.

Na realidade, no Brasil, a inflação se tornara uma espécie de sócia do Tesouro Nacional, de duas formas: (i) pela geração do chamado imposto inflacionário; e (ii) pela redução do valor real dos gastos públicos [...]

MODENESI, André de Melo. *Regimes monetários: teoria e a experiência do real*. Barueri: Manole, 2005. p. 300.

36. Qual o nome dado ao fenômeno descrito no texto?

- A) Efeito cascata.
- B) Efeito multiplicador.
- C) Efeito transbordamento.
- D) Efeito Tanzi às avessas.
- E) Efeito Balassa-Samuelson.

37. Considere a seguinte situação real apresentada pela empresa Petróleo Brasileiro S.A. – Petrobrás em 31/12/2012. (Valores estão em milhares de reais)

Receita de vendas	= R\$ 281.379,00
Custo dos produtos e serviços vendidos	= R\$ 210.472,00
Despesas com vendas	= R\$ 9.604,00
Despesas administrativas e gerais	= R\$ 9.842,00
Custos exploratórios para extração de petróleo e gás	= R\$ 7.871,00
Custos com pesquisa e desenvolvimento tecnológico	= R\$ 2.238,00
Despesas tributárias	= R\$ 760,00
Outras despesas operacionais, líquidas	= R\$ 8.195,00

Assinale a alternativa correta que corresponde ao Lucro Bruto do Exercício, em milhares de reais.

- A) R\$ 70.907,00
- B) R\$ 63.036,00
- C) R\$ 60.798,00
- D) R\$ 33.157,00
- E) R\$ 32.397,00

38. A figura abaixo representa o Balanço Patrimonial resumido da Petrobras.

Ativo / Passivo		Jun 2013
1	Ativo Total	628,36B
1.01	Ativo Circulante	122,57B
1.02	Ativo Não Circulante	505,80B
2	Passivo Total	628,36B
2.01	Passivo Circulante	69,01B
2.02	Passivo Não Circulante	220,83B
2.03	Patrimônio Líquido	338,53B

Disponível em: <<http://br.adfn.com/bolsa-de-valores/bovespa/petrobras-PETRA4/balanco>>. Acesso em: 05 maio 2014.

A folha de pagamento da Petrobras foi computada no grupo

- A) Ativo Circulante.
- B) Ativo Não Circulante.
- C) Passivo Não Circulante.
- D) Passivo Circulante.
- E) Patrimônio Líquido.

39. Um determinado posto de combustível, atuando em um mercado de concorrência perfeita, comercializa o m³ do GNV a R\$ 1,75. Considerando que a sua função de custo total seja representada por $CT = 0,0002Q^2 + 0,25Q + 10$, assinale a alternativa correta que apresenta a quantidade comercializada, em m³, que maximizará o lucro do posto de combustível.

- A) 4.000
- B) 3.750
- C) 3.500
- D) 3.250
- E) 3.000

40. Durante o ano de 2014, em função das eleições, serão disponibilizados os resultados dos diversos institutos de pesquisa, que irão revelar a tendência de desempenho dos candidatos. Os dados não serão divulgados de forma individual, mas sim através de gráficos de setores e tabelas. Dentro deste cenário, as medidas de posição e dispersão da estatística são importantes parâmetros que resumem e facilitam a análise dos dados das pesquisas. Dadas as afirmativas abaixo quanto às medidas de posição e dispersão da estatística,

- I. A mediana tem por finalidade verificar o nível de dispersão dos dados.
- II. Os valores extremos de um determinado conjunto de dados não interferem no cálculo do desvio padrão.
- III. O cálculo da média aritmética, como processo de previsão de vendas, pode ser recomendado para dados que apresentam desvio padrão insignificante.
- IV. A variância e o desvio padrão são parâmetros que caracterizam as chamadas medidas de posição.

verifica-se que está(ão) corretas(s)

- A) II, apenas.
- B) III, apenas.
- C) III e IV, apenas.
- D) I, II e IV, apenas.
- E) I, II, III e IV.

A questão 41 refere-se ao texto abaixo.

Medidas de distribuição de renda e desigualdade

Caso a renda fosse perfeitamente distribuída entre os integrantes de uma determinada sociedade, o PIB *per capita* ou a renda média por habitante – calculado pela razão entre PIB e o total da população – poderia ser um indicador adequado do nível de bem estar do país.

ALÉM, Ana Cláudia. *Macroeconomia: teoria e prática no Brasil*. São Paulo: Elsevier, 2010.

41. Dadas as afirmativas abaixo quanto às formas de medidas de desigualdades,

- I. A curva de Lorenz apresenta os diferentes extratos de renda em relação as suas respectivas participações na renda total.
- II. O índice de Gini varia de 0 a 1, sendo 0 correspondente a uma situação de desigualdade total e 1 correspondente a uma situação de igualdade perfeita.
- III. O índice de desenvolvimento humano (IDH) é calculado a partir da renda *per capita*, da longevidade da população e da educação da população.

verifica-se que está(ão) correta(s)

- A) I, apenas.
- B) II, apenas.
- C) I e III, apenas.
- D) II e III, apenas.
- E) I, II e III.

42. A Lei nº 8.666, de 21/06/93, que regulamenta o Art. 37, Inciso XXI, da Constituição Federal, instituiu normas para Licitações e Contratos Administrativos, pertinentes a Obras, Serviços, Compras, Alienações e Locações no âmbito dos Poderes da União (Executivo, Legislativo e Judiciário) dos Estados, do Distrito Federal e dos Municípios. Todas as contratações com terceiros serão necessariamente precedidas de Licitação, ressalvadas as hipóteses previstas na Lei (Art. 2º – 8.666/93). Dadas as afirmativas abaixo sobre os princípios da licitação,

- I. DA LEGALIDADE – a atuação do gestor público e a realização da licitação devem ser processadas na forma da Lei, sem nenhuma interferência pessoal da autoridade.
- II. DA IGUALDADE – previsto no art. 37, XXI da Constituição, onde proíbe a discriminação entre os participantes do processo.
- III. DA PUBLICIDADE – transparência do processo licitatório exclusiva na fase de definição da proposta vencedora.
- IV. DA IMPESSOALIDADE – será dispensado a todos os interessados tratamento proporcional ao tamanho de cadastro da empresa: pequena, média ou grande.

verifica-se que está(ão) corretas(s)

- A) I, apenas.
- B) II, apenas.
- C) I e II, apenas.
- D) III e IV, apenas.
- E) I, II, III e IV.

A questão 43 refere-se ao texto abaixo.

O atual cenário empresarial é caracterizado pela alta competitividade, pelo elevado grau de instabilidade, e pelo processo violento de globalização. Diante desta realidade, um número cada vez maior de empresas corre no sentido de buscar ferramentas e técnicas que as auxiliem no processo gerencial. Dentre estas ferramentas destaca-se o Planejamento e o Acompanhamento da Produção, contemplando a gestão de estoques.

QUALIT@S Revista Eletrônica. v.4, n. 1, 2005.

43. Com relação ao controle de estoque, dois procedimentos são fundamentais para garantir o abastecimento contínuo de material:

- I. conhecer o tempo decorrido desde a emissão do documento de compra (requisição) até o recebimento da mercadoria;
- II. conhecer o nível de estoque que, ao ser atingido, determina imediata emissão de um pedido de compra.

Assinale a alternativa que identifica, respectivamente, estes dois conceitos.

- A) Tempo de processamento do pedido - Estoque de segurança.
- B) Tempo de processamento do pedido - Ponto de pedido.
- C) Tempo da entrega do fornecedor - Estoque de segurança.
- D) Tempo de ressuprimento - Lote de compra.
- E) Tempo de ressuprimento - Ponto de pedido.

A questão 44 refere-se ao texto abaixo.

Srouf (2008) afirma que as mulheres ocidentais “conquistaram direitos no século XX que lhes eram negados no século anterior [...] votar, usar contraceptivos, não ser deserdada pelo pai por ter perdido a virgindade [...]”

SROUR, Robert Henry. Ética empresarial: o cido virtuoso dos negócios. São Paulo: Elsevier, 2008, pg. 8.

44. Dadas as afirmativas abaixo quanto aos fatos morais e observando o texto acima,

- I. Os fatos morais são estáticos no tempo e no espaço.
- II. Os fatos morais são fatos sociais que dizem respeito ao bem e ao mal.
- III. Os fatos morais são convenções históricas sobre o que é justificável ou injustificável.

verifica-se que está(ão) correta(s)

- A) I, apenas.
- B) III, apenas.
- C) I e II, apenas.
- D) II e III, apenas.
- E) I, II e III.

A questão 45 refere-se ao texto abaixo.


O mercado de gás natural passa por uma revolução no mundo com a produção competitiva de reservas de gás não convencional, por meio da utilização de novas tecnologias de perfuração, que tornaram viáveis reservas antes conhecidas e ainda não exploradas, notadamente nos Estados Unidos. Hoje, o mundo já conhece mais reservas provadas de gás natural do que reservas provadas de petróleo em energia equivalente, quadro que se acentuará nas próximas décadas. Essa corrida do ouro apenas está começando.

TAVARES, Marco. Os desafios do mercado brasileiro de gás natural. *Interesse Nacional*. n. 22, jul./set. 2013. p. 21.

45. No texto de Tavares (2013), petróleo e gás são considerados bens econômicos. Ao estudar os mercados para esses bens, o aumento de preço de um deles _____ o consumo do outro. Isso se deve ao fato de esses bens serem considerados _____. Assinale a alternativa que complementa, respectivamente, de maneira correta, as lacunas do período acima.

- A) aumentará/complementares.
- B) aumentará/substitutos.
- C) diminuirá/substitutos.
- D) diminuirá/complementares.
- E) não afetará/complementares.

46. Observe o gráfico abaixo e suponha que ele represente o mercado de gás natural veicular (GNV).



Assinale a alternativa correta que pode explicar o deslocamento da demanda de D₁ para D₂.

- A) Diminuição do preço da gasolina.
- B) Diminuição do preço do álcool.
- C) Diminuição do preço do GNV.
- D) Aumento do preço da gasolina.
- E) Aumento do preço do GNV.

47. A Agência Nacional do Petróleo, Gás Natural e Biocombustíveis (ANP) tem como finalidade a regulação, a contratação e a fiscalização da indústria do petróleo, gás natural e biocombustíveis. Dadas as afirmativas abaixo quanto à finalidade de regulação, contratação e fiscalização,

- I. A contratação das atividades de lavra das jazidas de gás natural será feita através de concessão, por meio de licitação.
- II. As atividades de importação e exportação de gás natural serão exercidas mediante licitação.
- III. A atividade de fiscalização da ANP poderá ser feita mediante convênio com órgãos dos Estados.

verifica-se que está(ão) correta(s)

- A) I, apenas.
- B) II, apenas.
- C) I e III, apenas.
- D) II e III, apenas.
- E) I, II e III.

48. Dadas as afirmativas abaixo quanto ao processo decisório da Agência Nacional do Petróleo, Gás Natural e Biocombustíveis (ANP),

- I. Deverá obedecer ao princípio da responsabilidade social.
- II. As iniciativas de alteração de normas administrativas serão precedidas de audiência pública, quando implicar efetiva afetação de direitos dos agentes econômicos do setor.
- III. As sessões deliberativas da Diretoria da ANP serão públicas, podendo ser gravadas, quando destinadas a resolver pendências entre agentes econômicos da indústria do petróleo.

verifica-se que está(ão) correta(s)

- A) I, II e III.
- B) II e III, apenas.
- C) I e III, apenas.
- D) II, apenas.
- E) I, apenas.

A questão 49 refere-se ao texto abaixo.

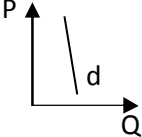
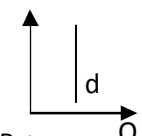
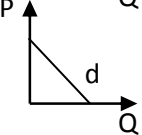
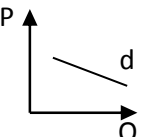
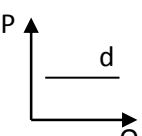
RASCUNHO

Pressão por preço

Argumenta-se que uma segunda rodada de esfriamento econômico mundial poderia trazer os preços a patamares mais reduzidos. No entanto, é possível pensar mais em um cenário de estabilização do que de redução sistêmica dos preços, dado que o consumo de petróleo e derivados apresenta um comportamento histórico de inelasticidade em um curto-médio prazo diante das crises econômicas.

ERNEST & YOUNG TERCO. *Brasil sustentável: perspectivas dos mercados de petróleo, etanol e gás*. Relatório Técnico, 2011.
Disponível em: <<http://www.ey.com.br>>. Acesso em: 05 maio 2014.

49. Assinale a alternativa que retrata corretamente o gráfico que representa, de acordo com a teoria econômica, um comportamento inelástico.

- A) 
- B) 
- C) 
- D) 
- E) 

50. A partir de uma pesquisa de mercado em profundidade, uma rede de supermercado verifica a possibilidade de abrir uma filial numa cidade vizinha. Para tanto, pretende investir determinado capital numa linha de crédito de certa instituição financeira. Considerando que este capital, no final de 12 meses, gera juros simples iguais a 1/5 do seu valor, determine o valor da taxa anual de juros simples da referida aplicação.

- A) 1,5% ao ano.
- B) 1,67% ao ano.
- C) 6% ao ano.
- D) 18% ao ano.
- E) 20% ao ano.

51. A prefeitura de uma cidade do Estado de Alagoas realizou uma pesquisa com 100 pequenos empresários para identificar o perfil socioeconômico e definir a possibilidade de inserção de novos empreendimentos. Os resultados apresentados na tabela de frequência a seguir, agrupa a renda destes 100 empresários em função do número de salários mínimo recebidos.

Salário Recebido (quantidade de salários mínimo)	Frequência Absoluta
1 – 3	12
4 – 6	18
7 – 9	30
10 – 12	40

Dadas as afirmativas abaixo quanto ao valor da mediana e da moda dos dados agrupados da tabela de frequência da renda dos empresários,

- I. A classe mediana dos valores agrupados está situada entre 1 e 3 salários mínimos.
- II. A classe modal está situada entre 10 e 12 salários mínimos.
- III. A classe mediana está situada entre 7 e 9 salários mínimos.
- IV. Os dados agrupados na tabela de frequência apresentam distribuição amodal.

verifica-se que estão corretas apenas

- A) I e II.
- B) I e IV.
- C) II e III.
- D) III e IV.
- E) I, II e III.

A questão 52 refere-se ao texto abaixo.

Atualmente em função do crescimento significativo da Construção Civil em todo o Brasil, as instituições financeiras têm apresentado formas variadas para aquisição dos imóveis aos seus clientes. Dentro deste contexto, se destacam os sistemas de financiamento PRICE e SAC, que são caracterizados por uma série limitada de pagamentos, com o objetivo de amortizar o saldo devedor de forma gradativa.

Um sistema de amortização é, antes de tudo, um modelo matemático estando, portanto, constituído de um conjunto de equações destinadas a descrever sua estrutura e garantir a sua consistência e, de uma maneira geral, qualquer fluxo de pagamentos para liquidar um empréstimo é um sistema de amortização.

CHIANG, Alpha. *Matemática para economistas*. São Paulo: Mcgraw-Hill, 1982.

52. Identifique a alternativa que apresenta uma característica do sistema de amortização SAC.

- A) O valor da prestação é constante.
- B) A amortização do saldo devedor é crescente.
- C) É um sistema destinado para financiamento em até 10 anos.
- D) O saldo devedor é amortizado de forma uniforme a cada prestação paga.
- E) Após o pagamento da última prestação, o saldo devedor restante corresponde a 20% do valor inicial financiado.

53. Uma pessoa quer depositar R\$ 1.000,00 em uma aplicação financeira e irá analisar duas opções de crédito. A opção 01, que rende juros compostos de 12% ao ano, e a opção 02, que rende juros compostos de 12% ao ano com capitalizações semestrais. Sabendo-se que essa pessoa deixa o dinheiro aplicado por 1 (um) ano na aplicação de maior rendimento, qual é o valor do resgate desta aplicação?

- A) R\$ 1.060,00
- B) R\$ 1.120,00
- C) R\$ 1.123,60
- D) R\$ 1.220,00
- E) R\$ 1.254,40

54. Nas aplicações que são realizadas nas instituições financeiras é fundamental conhecer o regime de capitalização do principal: simples ou composto. Os referidos regimes são caracterizados por diversas taxas de juros, que proporcionam capitalizações variadas. Dadas as afirmativas abaixo quanto à natureza das taxas,

- I. No regime de capitalização simples, as taxas proporcionais são também consideradas equivalentes.
- II. No regime de capitalização composto, a taxa nominal de 12% ao ano, com capitalizações mensais, corresponde a uma taxa efetiva de 1% ao mês.
- III. No regime composto de capitalização, uma aplicação submetida a uma taxa de 1% ao mês, durante certo período de tempo, gera o mesmo montante se for aplicada a uma taxa de 12% ao ano, em período idêntico.
- IV. No regime de capitalização composto, as taxas proporcionais são também consideradas equivalentes.

verifica-se que está(ão) corretas(s)

- A) II, apenas.
- B) I e II, apenas.
- C) I e III, apenas.
- D) III e IV, apenas.
- E) I, II, III e IV.

55. Considere a seguinte situação real apresentada por uma empresa de gás em 31/12/2010 (Valores estão em milhares de reais).

Receita operacional líquida	=	R\$	747.671,00
Custo dos produtos e serviços	=	R\$	609.877,00
Despesas com vendas	=	R\$	7.098,00
Despesas administrativas e gerais	=	R\$	56.184,00
Outras receitas	=	R\$	1.398,00
Resultado negativo da equivalência patrimonial	=	R\$	236,00
Despesas financeiras	=	R\$	45.145,00
Receitas financeiras	=	R\$	20.728,00
Imposto de renda e contribuição correntes	=	R\$	10.492,00
Participação dos empregados	=	R\$	10.612,00

Assinale a alternativa correta que corresponde ao Lucro Líquido do Exercício, em milhares de reais.

- A) R\$ 51.472,00.
- B) R\$ 51.042,00.
- C) R\$ 40.430,00.
- D) R\$ 30.290,00.
- E) R\$ 30.153,00.

A questão 56 refere-se ao texto abaixo.

RASCUNHO

GNV ESTÁ MAIS BARATO EM ALAGOAS

Os motoristas alagoanos que utilizam GNV – Gás Natural Veicular já puderam perceber a redução do preço do combustível em vários postos do estado neste mês de junho. O valor que estava em torno de R\$1,979, já pode ser encontrado por R\$1,939 em alguns postos da capital alagoana.

Com essa redução, que é decorrente da queda da tarifa praticada pela ALGÁS e que foi repassada ao consumidor final pela maioria dos postos de Alagoas, o GNV permanece sendo a alternativa mais vantajosa para quem quer economizar.

Atualmente, o quilômetro rodado com GNV é 54% mais econômico quando comparado ao etanol e 42% com relação à gasolina. Dessa forma, o GNV é o combustível ideal para os motoristas que rodam muito com o veículo, como profissionais liberais, representantes comerciais e taxistas. Outro segmento que também tem se beneficiado da economia do GNV é o das frotas empresariais.

Além de ser mais econômico para o consumidor por conta de seu rendimento, o gás natural veicular ainda proporciona um benefício ambiental para toda população: decorrente da sua queima mais limpa e completa, emite menos poluentes na atmosfera.

Alagoas em Tempo Real. Notícia veiculada em 27 de junho de 2013. Disponível em: < <http://www.seplande.al.gov.br>>. Acesso em: 05 maio 2014.

56. Considere que as curvas de demanda e de oferta do GNV no mercado alagoano sejam representadas pelas equações abaixo.

$$P^d = 2,2 - 0,002Q^d$$

$$P^o = 1,0 + 0,01Q^o$$

Onde,

P^d = preço da demanda, em reais.

P^o = preço da oferta, em reais.

Q^d = quantidade demandada, em milhões de metros cúbicos.

Q^o = quantidade ofertada, em milhões de metros cúbicos.

Assinale a opção correta quanto ao preço e a quantidade de equilíbrio do mercado do GNV.

- A) R\$ 1,90 e 150 milhões de metros cúbicos.
- B) R\$ 1,95 e 125 milhões de metros cúbicos.
- C) R\$ 2,00 e 100 milhões de metros cúbicos.
- D) R\$ 2,25 e 125 milhões de metros cúbicos.
- E) R\$ 2,50 e 150 milhões de metros cúbicos.

A questão 57 refere-se ao texto abaixo.

[...] a existência do progresso técnico exógeno seria a única forma de as economias registrarem crescimento sustentável de sua renda *per capita* a longo prazo.

ALÉM, Ana Cláudia. *Macroeconomia: teoria e prática no Brasil*. São Paulo: Elsevier, 2010.

57. Assinale a alternativa correta quanto ao modelo de crescimento econômico que sustenta esta hipótese.

- A) Modelo de *Slow*.
- B) Modelo de *Harrod-Domar*.
- C) Modelo de *Ramsey-Cass-Koopmans*.
- D) Modelo de *Romer* e de *Lucas*.
- E) Modelo *AK*.

58. Quando falamos em modalidades de licitação, devemos considerá-las como espécies dentro do gênero licitação. Elas se referem, na realidade, às diversas formas de regular o procedimento de seleção da proposta mais vantajosa, as quais deverão ser seguidas pelo Poder Público para a realização de suas aquisições, e se constituem em convite, tomada de preços, concorrência, pregão (criada pela Lei n.º 10.520/02), leilão e concurso. Dadas as afirmativas abaixo sobre as modalidades de licitação,

- I. A concorrência deve ser utilizada para obras e serviços de engenharia para valores abaixo de R\$ 1.500.000,00.
- II. A tomada de preço é um processo que exige um cadastramento prévio e, por consequência, é um processo mais lento do que a concorrência.
- III. O processo do convite é permitido para obras e serviços e engenharia até R\$ 650.000,00.
- IV. O concurso é a modalidade de licitação entre quaisquer interessados para escolha de trabalho técnico, científico ou artístico, mediante a instituição de prêmios ou remuneração aos vencedores, conforme critérios constantes de edital publicado na imprensa oficial com antecedência mínima de 45 (quarenta e cinco) dias.

verifica-se que está(ão) corretas(s)

- A) IV, apenas.
- B) I e III, apenas.
- C) II e III, apenas.
- D) II e IV, apenas.
- E) I, II, III e IV.

59. A previdência privada é, em resumo, um sistema que acumula recursos que garantam uma renda mensal no futuro, especialmente no período em que se deseja parar de trabalhar. Num primeiro momento, era vista como uma forma de poupança extra, além da previdência oficial, mas como o benefício do governo tende a ficar cada vez menor, muitos adquirem um plano como forma de garantir uma renda razoável ao fim de sua carreira profissional. Há dois tipos de plano de previdência no Brasil: a aberta e a fechada. A aberta pode ser contratada por qualquer pessoa, enquanto a fechada é destinada a grupos, como funcionários de uma empresa, por exemplo. Suponha que você pretenda realizar depósitos mensais de R\$ 2.000,00 durante 5 anos. Qual seria a renda prevista no final desta operação, supondo uma taxa de juros contratada de 2% a.m.? Admita: $(1,02)^{60} \approx 3,2810$

- A) R\$ 393.720,00
- B) R\$ 328.100,00
- C) R\$ 228.100,00
- D) R\$ 124.000,00
- E) R\$ 120.000,00

A questão 60 refere-se ao texto abaixo.

É fundamental otimizar o investimento em estoques, aumentando a eficiência de planejamento e controle para, assim, minimizar as necessidades de capital para o estoque. Os estoques de produto acabado, matéria-prima e material em processo não podem ser analisados independentemente. Seja qual for a decisão tomada sobre qualquer um desses tipos, ela com certeza terá influências sobre os demais.

DIAS, Marco Aurélio P. *Administração de materiais: princípios, conceitos e gestão*. 6. ed. São Paulo: Atlas, 2010.

60. Considere o almoxarifado de uma fábrica de componentes de automóveis onde ficam estocadas as peças que ajudam e participam na execução e transformação dos produtos. Considerando-se que tais peças não são agregadas aos produtos, mas são imprescindíveis no processo de fabricação, pode-se afirmar que esse almoxarifado é de

- A) matérias-primas.
- B) materiais auxiliares.
- C) materiais em processo.
- D) peças para manutenção.
- E) produtos do estoque de segurança.